

Question Paper Preview

Notations :

- Options shown in green color and with ✓ icon are correct.
- Options shown in red color and with ✗ icon are incorrect.

Question Paper Name:	ASSISTANT TEACHER PRIMARY 6th Oct 2018 Shift 2
Subject Name:	ASSISTANT TEACHER PRIMARY
Creation Date:	2018-10-06 16:54:01
Duration:	120
Total Marks:	200
Display Marks:	Yes
Share Answer Key With Delivery Engine:	Yes
Actual Answer Key:	Yes
Calculator:	None
Magnifying Glass Required?:	No
Ruler Required?:	No
Eraser Required?:	No
Scratch Pad Required?:	No
Rough Sketch/Notepad Required?:	No
Protractor Required?:	No
Show Watermark on Console?:	No
Highlighter:	No
Auto Save on Console?:	No

Mental Ability

Group Number :	1
Group Id :	167943674
Group Maximum Duration :	0
Group Minimum Duration :	0
Revisit allowed for view? :	No
Revisit allowed for edit? :	No
Break time:	0
Group Marks:	20
Revisit allowed for group Instructions? :	Yes
Maximum Instruction Time:	0
Minimum Instruction Time:	0

Mental Ability

Section Id :	167943739
Section Number :	1
Section type :	Online
Mandatory or Optional:	Mandatory
Number of Questions:	20
Number of Questions to be attempted:	20
Section Marks:	20

Display Number Panel:

Yes

Group All Questions:

No

Sub-Section Number:

1

Sub-Section Id:

1679431153

Question Shuffling Allowed :

Yes

Question Number : 1 Question Id : 16794318167 Question Type : MCQ Option Shuffling : Yes Display Question Number : Yes
Single Line Question Option : No Option Orientation : Vertical

Correct Marks : 1 Wrong Marks : 0.25

If $C = 3$, $CAN = 18$, then $COMPUTER = ?$

Options :

1. ✖ 101

2. ✖ 110

3. ✔ 111

4. ✖ 121

Question Number : 1 Question Id : 16794318167 Question Type : MCQ Option Shuffling : Yes Display Question Number : Yes
Single Line Question Option : No Option Orientation : Vertical

Correct Marks : 1 Wrong Marks : 0.25

यदि $C = 3$, $CAN = 18$, तब $COMPUTER = ?$

Options :

1. ✖ 101

2. ✖ 110

3. ✔ 111

4. ✖ 121

Question Number : 2 Question Id : 16794318168 Question Type : MCQ Option Shuffling : Yes Display Question Number : Yes
Single Line Question Option : No Option Orientation : Vertical

Correct Marks : 1 Wrong Marks : 0.25

'Athletics' is related to 'Stadium' in the same way as 'Skating' is related to:

Options :

1. ✖ Pitch

2. ✔ Rink

3. ✖ Court

4. ✖ Ground

Question Number : 2 Question Id : 16794318168 Question Type : MCQ Option Shuffling : Yes Display Question Number : Yes
Single Line Question Option : No Option Orientation : Vertical

Correct Marks : 1 Wrong Marks : 0.25

‘एथलेटिक्स’ का संबंध ‘स्टेडियम’ से है उसी तरह से ‘स्केटिंग’ का संबंध किससे है?

Options :

1. ✖ पिच

2. ✔ रिक

3. ✖ कोर्ट

4. ✖ ग्राउंड

Question Number : 3 Question Id : 16794318169 Question Type : MCQ Option Shuffling : Yes Display Question Number : Yes
Single Line Question Option : No Option Orientation : Vertical

Correct Marks : 1 Wrong Marks : 0.25

If L stands for addition, M stands for subtraction, N stands for multiplication, then what is the value of $(10 \text{ N } 5) \text{ L } (4 \text{ N } 4) \text{ M } 6$?

Options :

1. ✖ 50

2. ✖ 56

3. ✖ 59

4. ✔ 60

Question Number : 3 Question Id : 16794318169 Question Type : MCQ Option Shuffling : Yes Display Question Number : Yes
Single Line Question Option : No Option Orientation : Vertical

Correct Marks : 1 Wrong Marks : 0.25

यदि L जोड़ने का प्रतीक, M घटाने का प्रतीक, N गुणन का प्रतीक है, तब $(10 \text{ N } 5) \text{ L } (4 \text{ N } 4) \text{ M } 6$ का मूल्य क्या होगा?

Options :

1. ✖ 50

2. ✖ 56

3. ✖ 59

4. ✔ 60

Question Number : 4 Question Id : 16794318170 Question Type : MCQ Option Shuffling : Yes Display Question Number : Yes
Single Line Question Option : No Option Orientation : Vertical

Correct Marks : 1 Wrong Marks : 0.25

Which of the following words will come third in an English dictionary?

Options :

1. ✔ Holiday

2. ✖ Horse

3. ✖ Hobby

4. ✖ Hobble

Question Number : 4 Question Id : 16794318170 Question Type : MCQ Option Shuffling : Yes Display Question Number : Yes
Single Line Question Option : No Option Orientation : Vertical

Correct Marks : 1 Wrong Marks : 0.25

अंग्रेजी शब्दकोश में निम्नलिखित शब्दों में से कौन सा शब्द तीसरे स्थान पर आएगा?

Options :

1. ✔ Holiday

2. ✖ Horse

3. ✖ Hobby

4. ✖ Hobble

Question Number : 5 Question Id : 16794318171 Question Type : MCQ Option Shuffling : Yes Display Question Number : Yes
Single Line Question Option : No Option Orientation : Vertical

Correct Marks : 1 Wrong Marks : 0.25

Vijay is brother of Raju. Rekha is sister of Abi. Raju is son of Rekha. How is Rekha related to Vijay?

Options :

1. ✖ Aunt

2. ✖ Sister

3. ✔ Mother

4. ❌ Mother-in-law

Question Number : 5 Question Id : 16794318171 Question Type : MCQ Option Shuffling : Yes Display Question Number : Yes
Single Line Question Option : No Option Orientation : Vertical

Correct Marks : 1 Wrong Marks : 0.25

विजय राजू का भाई है। रेखा अभी की बहन है। राजू रेखा का पुत्र है। रेखा का विजय से क्या संबंध है?

Options :

1. ❌ चाची

2. ❌ बहन

3. ✔️ माँ

4. ❌ सास

Question Number : 6 Question Id : 16794318172 Question Type : MCQ Option Shuffling : Yes Display Question Number : Yes
Single Line Question Option : No Option Orientation : Vertical

Correct Marks : 1 Wrong Marks : 0.25

Find the missing number in the below series:

0, 7, 26, 63, 124, 215, _____, 511

Options :

1. ❌ 341

2. ✔️ 342

3. ❌ 343

4. ❌ 334

Question Number : 6 Question Id : 16794318172 Question Type : MCQ Option Shuffling : Yes Display Question Number : Yes
Single Line Question Option : No Option Orientation : Vertical

Correct Marks : 1 Wrong Marks : 0.25

निम्नलिखित श्रंखला में छूटी हुई संख्या का पता लगाएं:

0, 7, 26, 63, 124, 215, _____, 511

Options :

1. ❌ 341

2. ✔️ 342

3. ✖ 343

4. ✖ 334

Question Number : 7 Question Id : 16794318173 Question Type : MCQ Option Shuffling : Yes Display Question Number : Yes
Single Line Question Option : No Option Orientation : Vertical

Correct Marks : 1 Wrong Marks : 0.25

You are given two statements and two conclusions. Choose the correct option about conclusion from the options below.

Statements:

All good players win.
All good players eat well.

Conclusions:

I. All those who eat well are good players.
II. All those who win eat well.

Options :

- 1. ✖ Only conclusion I follows
- 2. ✖ Only conclusion II follows
- 3. ✖ Either conclusion I or II follows
- 4. ✔ Neither conclusion I nor II follows

Question Number : 7 Question Id : 16794318173 Question Type : MCQ Option Shuffling : Yes Display Question Number : Yes
Single Line Question Option : No Option Orientation : Vertical

Correct Marks : 1 Wrong Marks : 0.25

आपको दो कथन और दो निष्कर्ष दिए गए हैं। नीचे दिए गए विकल्पों से निष्कर्ष के बारे में सही विकल्प चुनें।

कथन:

सभी अच्छे खिलाड़ी जीतते हैं।
सभी अच्छे खिलाड़ी अच्छी तरह से खाते हैं।

निष्कर्ष:

I. सभी जो अच्छी तरह से खाते हैं अच्छे खिलाड़ी होते हैं।
II. सभी जो जीतते हैं अच्छी तरह से खाते हैं।

Options :

1. ✖ केवल निष्कर्ष । पालन करता है।
2. ✖ केवल निष्कर्ष ॥ पालन करता है।
3. ✖ या तो निष्कर्ष । या ॥ पालन करता है।
4. ✔ न तो निष्कर्ष । और न ॥ पालन करता है।

Question Number : 8 Question Id : 16794318174 Question Type : MCQ Option Shuffling : Yes Display Question Number : Yes
Single Line Question Option : No Option Orientation : Vertical

Correct Marks : 1 Wrong Marks : 0.25

What will be the difference between the sum of the odd digits and the sum of the even digits in the number 745832?

Options :

1. ✔ 1
2. ✖ 2
3. ✖ 3
4. ✖ 4

Question Number : 8 Question Id : 16794318174 Question Type : MCQ Option Shuffling : Yes Display Question Number : Yes
Single Line Question Option : No Option Orientation : Vertical

Correct Marks : 1 Wrong Marks : 0.25

745832 संख्या में विषम अंकों के योग तथा सम अंकों के योग में क्या अंतर होगा?

Options :

1. ✔ 1
2. ✖ 2
3. ✖ 3
4. ✖ 4

Question Number : 9 Question Id : 16794318175 Question Type : MCQ Option Shuffling : Yes Display Question Number : Yes
Single Line Question Option : No Option Orientation : Vertical

Correct Marks : 1 Wrong Marks : 0.25

In a village X, 40% of the adults are illiterate while 85% of the children are literate. If the ratio of the adults to that of the children is 2 : 3, then what percent of the population is literate?

Options :

1. ✖ 55%

2. ✖ 60%

3. ✔ 75%

4. ✖ 80%

Question Number : 9 Question Id : 16794318175 Question Type : MCQ Option Shuffling : Yes Display Question Number : Yes
Single Line Question Option : No Option Orientation : Vertical

Correct Marks : 1 Wrong Marks : 0.25

एक गाँव X में, 40% वयस्क निरक्षर हैं जबकि 85% बच्चे साक्षर हैं। यदि वयस्कों का उन बच्चों से अनुपात 2 : 3 है, तब कितने प्रतिशत जनसंख्या साक्षर है?

Options :

1. ✖ 55%

2. ✖ 60%

3. ✔ 75%

4. ✖ 80%

Question Number : 10 Question Id : 16794318176 Question Type : MCQ Option Shuffling : Yes Display Question Number : Yes
Single Line Question Option : No Option Orientation : Vertical

Correct Marks : 1 Wrong Marks : 0.25

A is the son of B while B and C are the sisters of each other. D is the mother of C. If E is the son of D, which of the following statements is correct?

Options :

1. ✔ E is the maternal uncle of A

2. ✖ D is the brother of B

3. ✖ B and E are sisters

4. ✖ C is the grandfather of A

Question Number : 10 Question Id : 16794318176 Question Type : MCQ Option Shuffling : Yes Display Question Number : Yes
Single Line Question Option : No Option Orientation : Vertical

Correct Marks : 1 Wrong Marks : 0.25

B का पुत्र A है जबकि B और C एक-दूसरे की बहनें हैं। C की माँ D है। यदि D का पुत्र E है, तब निम्नलिखित कथनों में से कौन सा सही है?

Options :

1. ✔ A का मामा E है।

2. ✖ B का भाई D है।

3. ✖ B और E बहनें हैं।

4. ✖ A के दादा C हैं।

Question Number : 11 Question Id : 16794318177 Question Type : MCQ Option Shuffling : Yes Display Question Number : Yes
Single Line Question Option : No Option Orientation : Vertical

Correct Marks : 1 Wrong Marks : 0.25

Kavya is facing south. She turns 140° in the anti-clockwise direction and then 175° in the clockwise direction. Which direction is she facing now?

Options :

1. ✖ South-east

2. ✔ South-west

3. ✖ North-east

4. ✖ North-west

Question Number : 11 Question Id : 16794318177 Question Type : MCQ Option Shuffling : Yes Display Question Number : Yes
Single Line Question Option : No Option Orientation : Vertical

Correct Marks : 1 Wrong Marks : 0.25

काव्या का मुँह दक्षिण की ओर है। वह घड़ी की विपरीत दिशा में 140° पर मुड़ती है और फिर घड़ी की दिशा में 175° पर मुड़ती है। अब काव्या का मुँह किस दिशा में है?

Options :

1. ✖ दक्षिण-पूर्व

2. ✔ दक्षिण-पश्चिम

3. ✖ उत्तर-पूर्व

4. ✖ उत्तर-पश्चिम

Question Number : 12 Question Id : 16794318178 Question Type : MCQ Option Shuffling : Yes Display Question Number : Yes
Single Line Question Option : No Option Orientation : Vertical

Correct Marks : 1 Wrong Marks : 0.25

In the Asian games, the flags of six countries were flown on the masts in the following way.

The flag of China was to the left of Indian tricolor and to the right of the flag of Japan. The flag of Sri Lanka was on the right of the Indian flag but was to the left of the flag of Pakistan, which was to the left of the flag of Bangladesh. Which two flags were at the centre?

Options :

1. ✓ India and Sri Lanka
2. ✗ China and India
3. ✗ China and Sri Lanka
4. ✗ Pakistan and Sri Lanka

Question Number : 12 Question Id : 16794318178 Question Type : MCQ Option Shuffling : Yes Display Question Number : Yes
Single Line Question Option : No Option Orientation : Vertical

Correct Marks : 1 Wrong Marks : 0.25

एशियाई खेलों में, मस्तूल पर छह देशों के झंडे निम्नलिखित तरीके से फहराए गए।

चीन का झंडा भारतीय तिरंगे के बाएं था तथा दाएं जापान का झंडा था। श्रीलंका का झंडा भारतीय झंडे के दाएं था, लेकिन पाकिस्तान के झंडे के बाएं था, जोकि बंगला देश के झंडे के बाएं था।

कौन से दो झंडे केन्द्र में थे?

Options :

1. ✓ भारत और श्रीलंका
2. ✗ चीन और भारत
3. ✗ चीन और श्रीलंका
4. ✗ पाकिस्तान और श्रीलंका

Question Number : 13 Question Id : 16794318179 Question Type : MCQ Option Shuffling : Yes Display Question Number : Yes
Single Line Question Option : No Option Orientation : Vertical

Correct Marks : 1 Wrong Marks : 0.25

Five students took part in a running race. Akbar finished before Manish but behind Ganesh. Ragul finished before Sanjay but behind Manish. Who won the race?

Options :

1. ✓ Ganesh
2. ✗ Akbar
3. ✗ Ragul

4. ✖ Manish

Question Number : 13 Question Id : 16794318179 Question Type : MCQ Option Shuffling : Yes Display Question Number : Yes
Single Line Question Option : No Option Orientation : Vertical

Correct Marks : 1 Wrong Marks : 0.25

पाँच छात्रों ने एक दौड़ में भाग लिया। अकबर ने दौड़ को मनीष से पहले लेकिन गणेश के पीछे संपन्न किया। रागुल ने दौड़ को संजय से पहले लेकिन मनीष के पीछे संपन्न किया। दौड़ को किसने जीता था?

Options :

1. ✔ गणेश

2. ✖ अकबर

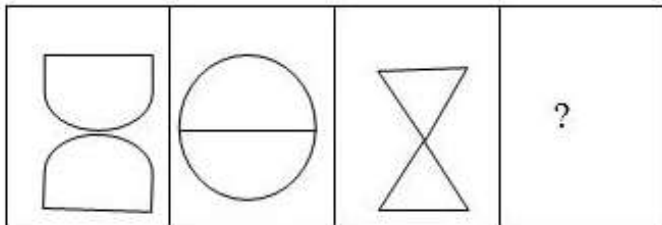
3. ✖ रागुल

4. ✖ मनीष

Question Number : 14 Question Id : 16794318180 Question Type : MCQ Option Shuffling : Yes Display Question Number : Yes
Single Line Question Option : No Option Orientation : Vertical

Correct Marks : 1 Wrong Marks : 0.25

Choose the correct option that will complete the below series:

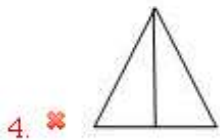


Options :

1. ✖

2. ✔

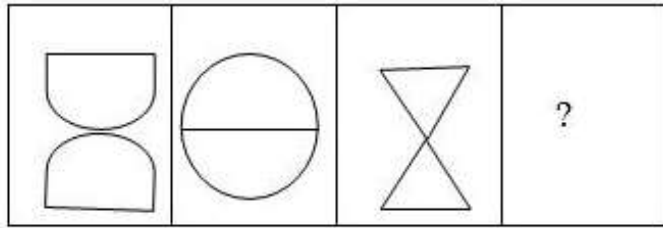
3. ✖



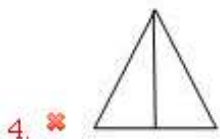
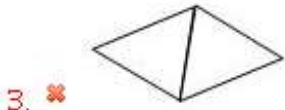
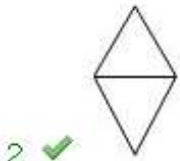
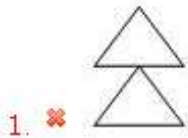
Question Number : 14 Question Id : 16794318180 Question Type : MCQ Option Shuffling : Yes Display Question Number : Yes
Single Line Question Option : No Option Orientation : Vertical

Correct Marks : 1 Wrong Marks : 0.25

उस सही विकल्प को चुनें जो निम्नलिखित श्रृंखला को पूरा करेगा:



Options :



Question Number : 15 Question Id : 16794318181 Question Type : MCQ Option Shuffling : Yes Display Question Number : Yes
Single Line Question Option : No Option Orientation : Vertical

Correct Marks : 1 Wrong Marks : 0.25

You are given a question and two statements I and II. You have to decide whether the data provided in the statements is sufficient to answer the question.

Question: How much was the total sale of the company?

Statements:

I. The company sold 10000 units of Product A each costing ₹ 34.

II. The company has no other product line.

Options :

1. ✖ Data in statement I alone is sufficient to answer the question
2. ✖ Data in statement II alone is sufficient to answer the question
3. ✖ Data in either the statement I or statement II alone is sufficient to answer the question
4. ✔ Data in both statements I and II together are necessary to answer the question

Question Number : 15 Question Id : 16794318181 Question Type : MCQ Option Shuffling : Yes Display Question Number : Yes
Single Line Question Option : No Option Orientation : Vertical

Correct Marks : 1 Wrong Marks : 0.25

आपको एक प्रश्न तथा दो कथन I और II दिए गए हैं। आपको यह सुनिश्चित करना है कि कथनों में दिया गया डेटा प्रश्न का उत्तर देने के लिए पर्याप्त है कि नहीं।

प्रश्न: कंपनी की कुल बिक्री कितनी थी?

कथन:

- I. कंपनी ने उत्पाद A की 10000 इकाइयों को प्रति इकाई लागत ₹ 34 पर बिक्री की।
- II. कंपनी की कोई अन्य उत्पाद लाइन नहीं है।

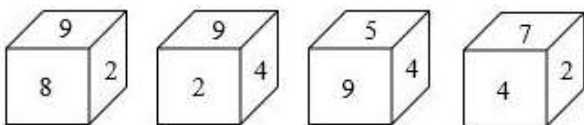
Options :

1. ✖ प्रश्न का उत्तर देने के लिए अकेले कथन I में डेटा पर्याप्त है।
2. ✖ प्रश्न का उत्तर देने के लिए अकेले कथन II में डेटा पर्याप्त है।
3. ✖ प्रश्न का उत्तर देने के लिए अकेले या तो कथन I या कथन II में डेटा पर्याप्त है।
4. ✔ प्रश्न का उत्तर देने के लिए कथन I और II दोनों का मिलाकर डेटा आवश्यक है।

Question Number : 16 Question Id : 16794318182 Question Type : MCQ Option Shuffling : Yes Display Question Number : Yes
Single Line Question Option : No Option Orientation : Vertical

Correct Marks : 1 Wrong Marks : 0.25

Four different positions of a dice are given below. Which number is on the face opposite the face showing '9'?



Options :

1. ✖ 4
2. ✖ 8

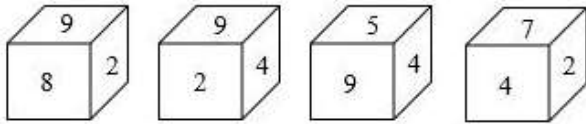
3. ✓ 7

4. ✗ 2

Question Number : 16 Question Id : 16794318182 Question Type : MCQ Option Shuffling : Yes Display Question Number : Yes
Single Line Question Option : No Option Orientation : Vertical

Correct Marks : 1 Wrong Marks : 0.25

नीचे एक पांसे की चार अलग-अलग स्थितियां दी गयी हैं। कौन सा नंबर सामने है जिसके ऊपर 9 संख्या है?



Options :

1. ✗ 4

2. ✗ 8

3. ✓ 7

4. ✗ 2

Question Number : 17 Question Id : 16794318183 Question Type : MCQ Option Shuffling : Yes Display Question Number : Yes
Single Line Question Option : No Option Orientation : Vertical

Correct Marks : 1 Wrong Marks : 0.25

While travelling in a train, you notice a lady from the coach behind yours fall off the train. What should be your best logical course of action?

Options :

1. ✗ Jump off the train to assist the falling lady.

2. ✓ Pull the alarm chain so that the train may stop and the lady may be helped.

3. ✗ Wait till the train stops at the next station and inform the railway authorities there.

4. ✗ Shout at the falling lady asking her to get up quickly and entrain.

Question Number : 17 Question Id : 16794318183 Question Type : MCQ Option Shuffling : Yes Display Question Number : Yes
Single Line Question Option : No Option Orientation : Vertical

Correct Marks : 1 Wrong Marks : 0.25

ट्रेन में यात्रा करने के दौरान आप गौर करते हैं कि आपकी पीछे की कोच से एक महिला ट्रेन की सीढ़ी से गिर जाती है। आपकी सबसे बेहतर तर्कसंगत कार्रवाई क्या होनी चाहिए?

Options :

1. ✖ गिरती महिला की मदद के लिए ट्रेन से कूदना।
2. ✔ अलार्म चैन को खींचना जिससे ट्रेन रुक सकती है तथा महिला की मदद की जा सकती है।
3. ✖
आगामी स्टेशन पर ट्रेन के रुकने तक प्रतीक्षा करना तथा वहां रेलवे प्राधिकारियों को सूचित करना।
4. ✖ गिरती हुई महिला पर चीखना तथा उसे शीघ्र उठने तथा ट्रेन में चढ़ने के लिए कहना।

Question Number : 18 Question Id : 16794318184 Question Type : MCQ Option Shuffling : Yes Display Question Number : Yes
Single Line Question Option : No Option Orientation : Vertical

Correct Marks : 1 Wrong Marks : 0.25

Find the odd one out of the below.

Options :

1. ✔ Knowledge
2. ✖ Read
3. ✖ Write
4. ✖ Learn

Question Number : 18 Question Id : 16794318184 Question Type : MCQ Option Shuffling : Yes Display Question Number : Yes
Single Line Question Option : No Option Orientation : Vertical

Correct Marks : 1 Wrong Marks : 0.25

निम्नलिखित में से एक विषम का पता लगाएं।

Options :

1. ✔ ज्ञान
2. ✖ पढ़ना
3. ✖ लिखना
4. ✖ सीखना

Question Number : 19 Question Id : 16794318185 Question Type : MCQ Option Shuffling : Yes Display Question Number : Yes
Single Line Question Option : No Option Orientation : Vertical

Correct Marks : 1 Wrong Marks : 0.25

Read the following information carefully and answer the question given below.

Ruba is shorter than Beena but taller than Kiruba.

Neema is shorter than Kiruba.

Jaisree is taller than Neema.

Beena is taller than Jaisree.

Who among them is the shortest?

Options :

1. ✖ Jaisree
2. ✖ Beena
3. ✖ Ruba
4. ✔ Neema

Question Number : 19 Question Id : 16794318185 Question Type : MCQ Option Shuffling : Yes Display Question Number : Yes
Single Line Question Option : No Option Orientation : Vertical

Correct Marks : 1 Wrong Marks : 0.25

निम्नलिखित जानकारी को सावधानीपूर्वक पढ़ें तथा नीचे दिए गए प्रश्न का उत्तर दें।

रूबा बीना से अपेक्षाकृत छोटी है लेकिन किरूबा से अधिक लंबी है।

नीमा किरूबा से अपेक्षाकृत छोटी है।

जयश्री नीमा से अपेक्षाकृत लंबी है।

बीना जयश्री से अपेक्षाकृत लंबी है।

उनमें कौन सबसे छोटी है?

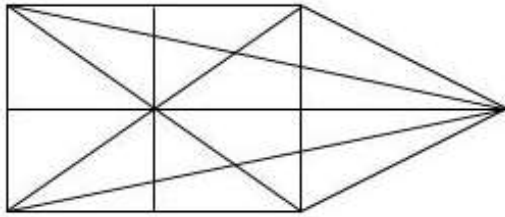
Options :

1. ✖ जयश्री
2. ✖ बीना
3. ✖ रूबा
4. ✔ नीमा

Question Number : 20 Question Id : 16794318186 Question Type : MCQ Option Shuffling : Yes Display Question Number : Yes
Single Line Question Option : No Option Orientation : Vertical

Correct Marks : 1 Wrong Marks : 0.25

What is the number of straight lines in the following figure?



Options :

1. ✖ 10

2. ✔ 12

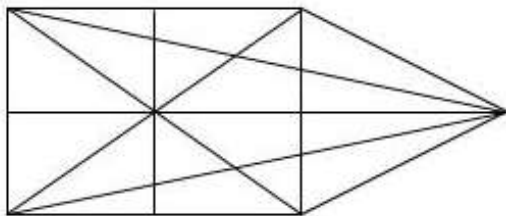
3. ✖ 16

4. ✖ 24

Question Number : 20 Question Id : 16794318186 Question Type : MCQ Option Shuffling : Yes Display Question Number : Yes
Single Line Question Option : No Option Orientation : Vertical

Correct Marks : 1 Wrong Marks : 0.25

निम्नलिखित आकृति में सीधी लाइनों की संख्या क्या है?



Options :

1. ✖ 10

2. ✔ 12

3. ✖ 16

4. ✖ 24

General Awareness

Group Number :

2

Group Id :

167943675

Group Maximum Duration :

0

Group Minimum Duration :	0
Revisit allowed for view? :	No
Revisit allowed for edit? :	No
Break time:	0
Group Marks:	20
Revisit allowed for group Instructions? :	Yes
Maximum Instruction Time:	0
Minimum Instruction Time:	0

General Awareness

Section Id :	167943740
Section Number :	1
Section type :	Online
Mandatory or Optional:	Mandatory
Number of Questions:	20
Number of Questions to be attempted:	20
Section Marks:	20
Display Number Panel:	Yes
Group All Questions:	No

Sub-Section Number:	1
Sub-Section Id:	1679431154
Question Shuffling Allowed :	Yes

Question Number : 21 Question Id : 16794318187 Question Type : MCQ Option Shuffling : Yes Display Question Number : Yes
 Single Line Question Option : No Option Orientation : Vertical
 Correct Marks : 1 Wrong Marks : 0.25

For which of the following purpose 74th amendment was passed to establish _____.

Options :

1. ✖ Panchayats and provides elections for them
2. ✔ Municipalities and provides elections for them
3. ✖ Zilaparishad and provides elections for them
4. ✖ Gramsabha and provides elections for them

Question Number : 21 Question Id : 16794318187 Question Type : MCQ Option Shuffling : Yes Display Question Number : Yes
 Single Line Question Option : No Option Orientation : Vertical
 Correct Marks : 1 Wrong Marks : 0.25

निम्नलिखित में से किस उद्देश्य को स्थापित करने के लिए 74वां संशोधन _____ पारित किया गया था।

Options :

1. ✖ पंचायत और उसके लिए चुनाव कराना

2. ✓ नगर-निगम और उसके लिए चुनाव कराना

3. ✗ जिला परिषद और उसके लिए चुनाव कराना

4. ✗ ग्रामसभा और उसके लिए चुनाव कराना

Question Number : 22 Question Id : 16794318188 Question Type : MCQ Option Shuffling : Yes Display Question Number : Yes
Single Line Question Option : No Option Orientation : Vertical

Correct Marks : 1 Wrong Marks : 0.25

The original Constitution contained _____ articles and _____ schedules.

Options :

1. ✗ 390, 10

2. ✗ 392, 8

3. ✗ 395, 10

4. ✓ 395, 8

Question Number : 22 Question Id : 16794318188 Question Type : MCQ Option Shuffling : Yes Display Question Number : Yes
Single Line Question Option : No Option Orientation : Vertical

Correct Marks : 1 Wrong Marks : 0.25

मूल संविधान में _____ अनुच्छेद और _____ भाग शामिल थे।

Options :

1. ✗ 390, 10

2. ✗ 392, 8

3. ✗ 395, 10

4. ✓ 395, 8

Question Number : 23 Question Id : 16794318189 Question Type : MCQ Option Shuffling : Yes Display Question Number : Yes
Single Line Question Option : No Option Orientation : Vertical

Correct Marks : 1 Wrong Marks : 0.25

The Vice-President shall be elected by and electoral college consisting of the members of:

Options :

1. ✗ Rajya Sabha

2. ☒ Rajya Sabha and Lok Sabha
3. ☐ Lok Sabha and Legislative Assembly
4. ☐ Lok Sabha, Legislative Assembly and Legislative Council

Question Number : 23 Question Id : 16794318189 Question Type : MCQ Option Shuffling : Yes Display Question Number : Yes
Single Line Question Option : No Option Orientation : Vertical
Correct Marks : 1 Wrong Marks : 0.25

उपराष्ट्रपति _____ के द्वारा चुना जाता है और निर्वाचक मंडल के सदस्य यही होते हैं।

Options :

1. ☐ राज्यसभा
2. ☒ राज्य सभा और लोकसभा
3. ☐ लोकसभा और विधान सभा
4. ☐ लोकसभा, विधानसभा और विधान परिषद

Question Number : 24 Question Id : 16794318190 Question Type : MCQ Option Shuffling : Yes Display Question Number : Yes
Single Line Question Option : No Option Orientation : Vertical
Correct Marks : 1 Wrong Marks : 0.25

Which of the following was not a Dynasties of South India?

Options :

1. ☐ Satvahanas
2. ☒ Haryanka
3. ☐ Vakatakas
4. ☐ Chalukyas

Question Number : 24 Question Id : 16794318190 Question Type : MCQ Option Shuffling : Yes Display Question Number : Yes
Single Line Question Option : No Option Orientation : Vertical
Correct Marks : 1 Wrong Marks : 0.25

निम्नलिखित में से कौन दक्षिण भारत के एक राजवंश नहीं थे?

Options :

1. ☐ सातवाहन

2. ✓ हर्याका
3. ✗ वाकाटक
4. ✗ चालुक्य

Question Number : 25 Question Id : 16794318191 Question Type : MCQ Option Shuffling : Yes Display Question Number : Yes
Single Line Question Option : No Option Orientation : Vertical

Correct Marks : 1 Wrong Marks : 0.25

What was the ruling period of The Tughlaqs?

Options :

1. ✗ 1320 - 1417
2. ✗ 1310 - 1412
3. ✗ 1315 - 1417
4. ✓ 1320 - 1413/1414

Question Number : 25 Question Id : 16794318191 Question Type : MCQ Option Shuffling : Yes Display Question Number : Yes
Single Line Question Option : No Option Orientation : Vertical

Correct Marks : 1 Wrong Marks : 0.25

तुगलक की शासक अवधि कब से कब तक थी?

Options :

1. ✗ 1320 - 1417
2. ✗ 1310 - 1412
3. ✗ 1315 - 1417
4. ✓ 1320 - 1413/1414

Question Number : 26 Question Id : 16794318192 Question Type : MCQ Option Shuffling : Yes Display Question Number : Yes
Single Line Question Option : No Option Orientation : Vertical

Correct Marks : 1 Wrong Marks : 0.25

Tattvabodhini Sabha, which was one of the key organization of Social reform movement in 19th century was founded by:

Options :

1. ✗ Keshab Chandra Sen
2. ✓ Debendranath Tagore

3. ✖ Raja Radhakant Deb

4. ✖ Ishwar Chandra Vidyasagar

Question Number : 26 Question Id : 16794318192 Question Type : MCQ Option Shuffling : Yes Display Question Number : Yes
Single Line Question Option : No Option Orientation : Vertical

Correct Marks : 1 Wrong Marks : 0.25

19वीं शताब्दी में सामाजिक सुधार आंदोलन के प्रमुख संगठन तत्वबोधिनी सभा की स्थापना किसने की थी?

Options :

1. ✖ केशव चंद्र सेन

2. ✔ देवेन्द्र नाथ टैगोर

3. ✖ राजा राधाकांत देव

4. ✖ ईश्वर चंद्र विद्यासागर

Question Number : 27 Question Id : 16794318193 Question Type : MCQ Option Shuffling : Yes Display Question Number : Yes
Single Line Question Option : No Option Orientation : Vertical

Correct Marks : 1 Wrong Marks : 0.25

What is the literacy rate of Sikkim?

Options :

1. ✔ 81.4%

2. ✖ 82.3%

3. ✖ 80.1%

4. ✖ 82.7%

Question Number : 27 Question Id : 16794318193 Question Type : MCQ Option Shuffling : Yes Display Question Number : Yes
Single Line Question Option : No Option Orientation : Vertical

Correct Marks : 1 Wrong Marks : 0.25

सिक्किम में साक्षरता दर क्या है??

Options :

1. ✔ 81.4%

2. ✖ 82.3%

3. ✖ 80.1%

4. ✖ 82.7%

Question Number : 28 Question Id : 16794318194 Question Type : MCQ Option Shuffling : Yes Display Question Number : Yes
Single Line Question Option : No Option Orientation : Vertical

Correct Marks : 1 Wrong Marks : 0.25

The Karnali river is known as _____ in the Ganga Plain.

Options :

- 1. ✖ Sharda
- 2. ✔ Ghagra
- 3. ✖ Ramganga
- 4. ✖ Gandak

Question Number : 28 Question Id : 16794318194 Question Type : MCQ Option Shuffling : Yes Display Question Number : Yes
Single Line Question Option : No Option Orientation : Vertical

Correct Marks : 1 Wrong Marks : 0.25

गंगा मैदान में कर्णली नदी को _____ के रूप में जाना जाता है.

Options :

- 1. ✖ शारदा
- 2. ✔ घाघरा
- 3. ✖ रामगंगा
- 4. ✖ गंडक

Question Number : 29 Question Id : 16794318195 Question Type : MCQ Option Shuffling : Yes Display Question Number : Yes
Single Line Question Option : No Option Orientation : Vertical

Correct Marks : 1 Wrong Marks : 0.25

Kanchanjunga comes under which of the following physiographic divisions of Himalaya?

Options :

- 1. ✖ Trans Himalayas
- 2. ✔ Greater Himalayas
- 3. ✖ Lesser Himalayas
- 4. ✖ Outer Himalayas

Question Number : 29 Question Id : 16794318195 Question Type : MCQ Option Shuffling : Yes Display Question Number : Yes
Single Line Question Option : No Option Orientation : Vertical

Correct Marks : 1 Wrong Marks : 0.25

कंचनगंगा हिमालय के निम्नलिखित भौगोलिक प्रभागों में से किसके अंतर्गत आता है?

Options :

1. ✖ ट्रांस हिमालय
2. ✔ ग्रेटर हिमालय
3. ✖ बहुत छोटा हिमालय
4. ✖ बाहरी हिमालय

Question Number : 30 Question Id : 16794318196 Question Type : MCQ Option Shuffling : Yes Display Question Number : Yes
Single Line Question Option : No Option Orientation : Vertical

Correct Marks : 1 Wrong Marks : 0.25

_____ is an artificial sweetener.

Options :

1. ✖ Nycin
2. ✖ Beta - Carotene
3. ✔ Aspartame
4. ✖ Lutein

Question Number : 30 Question Id : 16794318196 Question Type : MCQ Option Shuffling : Yes Display Question Number : Yes
Single Line Question Option : No Option Orientation : Vertical

Correct Marks : 1 Wrong Marks : 0.25

_____ एक कृत्रिम स्वीटनर है।

Options :

1. ✖ नाइसिन
2. ✖ बीटा कैरोटीन
3. ✔ एसपारटेम
4. ✖ लूटेन

Question Number : 31 Question Id : 16794318197 Question Type : MCQ Option Shuffling : Yes Display Question Number : Yes
Single Line Question Option : No Option Orientation : Vertical

Correct Marks : 1 Wrong Marks : 0.25

Who is considered as the 'Milkman of India'?

Options :

1. ✖ Dr M.S Swaminathan
2. ✔ Dr Varghese Kurien
3. ✖ Dr Arun Krishnan
4. ✖ Dr Durgesh Patel

Question Number : 31 Question Id : 16794318197 Question Type : MCQ Option Shuffling : Yes Display Question Number : Yes
Single Line Question Option : No Option Orientation : Vertical

Correct Marks : 1 Wrong Marks : 0.25

किसे 'मिल्कमैन ऑफ़ इंडिया' कहा जाता है?

Options :

1. ✖ डॉ एमएस स्वामीनाथन
2. ✔ डॉ वर्गीस कुरियन
3. ✖ डॉ अरुण कृष्णन
4. ✖ डॉ दुर्गेश पटेल

Question Number : 32 Question Id : 16794318198 Question Type : MCQ Option Shuffling : Yes Display Question Number : Yes
Single Line Question Option : No Option Orientation : Vertical

Correct Marks : 1 Wrong Marks : 0.25

While dragging or lifting an object, negative work is done by _____.

Note: For this question, discrepancy is found in question/answer. So, this question is ignored for all candidates.

Options :

1. The applied force
2. Gravitational force
3. Reaction force
4. Frictional force

Question Number : 32 Question Id : 16794318198 Question Type : MCQ Option Shuffling : Yes Display Question Number : Yes
Single Line Question Option : No Option Orientation : Vertical

Correct Marks : 1 Wrong Marks : 0.25

ऑब्जेक्ट खींचते या उठाने के दौरान, ऋणात्मक कार्य _____ द्वारा किया जाता है।

Note: For this question, discrepancy is found in question/answer. So, this question is ignored for all candidates.

Options :

1. लागू बल
2. गुरुत्वाकर्षण बल
3. प्रतिक्रिया बल
4. घर्षण बल

Question Number : 33 Question Id : 16794318199 Question Type : MCQ Option Shuffling : Yes Display Question Number : Yes
Single Line Question Option : No Option Orientation : Vertical

Correct Marks : 1 Wrong Marks : 0.25

With regard to the Net Domestic Product (NDP) which of the following statements is correct?

1. NDP is the GDP calculated after adjusting the weight of the value of depreciation.
2. $NDP = GDP + GNP - \text{Depreciation}$

Options :

1. ☒ 1 only
2. ☐ 2 only
3. ☐ 1 and 2 both
4. ☐ None of the given options

Question Number : 33 Question Id : 16794318199 Question Type : MCQ Option Shuffling : Yes Display Question Number : Yes
Single Line Question Option : No Option Orientation : Vertical

Correct Marks : 1 Wrong Marks : 0.25

ग्रास घरेलू उत्पाद (नेट डोमेस्टिक प्रोडक्ट) के संबंध में निम्नलिखित में से कौन सा कथन सही है?

1. मूल्यहास के मूल्य के वजन को समायोजित करने के बाद परिकलित NDP, GDP होती है।
2. $NDP = GDP + GNP - \text{मूल्यहास}$

Options :

1. ☒ केवल 1
2. ☐ केवल 2
3. ☐ 1 और 2 दोनों
4. ☐ दिए गए विकल्पों में से कोई भी नहीं

Question Number : 34 Question Id : 16794318200 Question Type : MCQ Option Shuffling : Yes Display Question Number : Yes
Single Line Question Option : No Option Orientation : Vertical

Correct Marks : 1 Wrong Marks : 0.25

What does the CPI-RL Stands for:

Options :

1. ☐ Consumer Price Index for the Regional Labourers
2. ☒ Consumer Price Index for the Rural Labourers
3. ☐ Consumer Price Index for the Rented Labourers
4. ☐ Consumer Price Index for the Remote Labourers

Question Number : 34 Question Id : 16794318200 Question Type : MCQ Option Shuffling : Yes Display Question Number : Yes
Single Line Question Option : No Option Orientation : Vertical

Correct Marks : 1 Wrong Marks : 0.25

सीपीआई-आरएल (CPI-RL) के लिए क्या काम करता है:

Options :

1. ☐ कंज्यूमर प्राइस इंडेक्स फॉर द रीजनल लेबर्स
2. ☒ कंज्यूमर प्राइस इंडेक्स फॉर द रूरल लेबर्स
3. ☐ कंज्यूमर प्राइस इंडेक्स फॉर द रेंटेड लेबर्स
4. ☐ कंज्यूमर प्राइस इंडेक्स फॉर द रिमोट लेबर्स

Question Number : 35 Question Id : 16794318201 Question Type : MCQ Option Shuffling : Yes Display Question Number : Yes
Single Line Question Option : No Option Orientation : Vertical

Correct Marks : 1 Wrong Marks : 0.25

What is the Minimum support price of Jowar (Maldandi) in 2018-2019 season?

Options :

1. ✖ 2430

2. ✔ 2450

3. ✖ 2470

4. ✖ 2480

Question Number : 35 Question Id : 16794318201 Question Type : MCQ Option Shuffling : Yes Display Question Number : Yes
Single Line Question Option : No Option Orientation : Vertical
Correct Marks : 1 Wrong Marks : 0.25

2018-2019 सीज़न में जवार (मालडंडी) का न्यूनतम समर्थन मूल्य क्या है?

Options :

1. ✖ ₹ 2430

2. ✔ ₹ 2450

3. ✖ ₹ 2470

4. ✖ ₹ 2480

Question Number : 36 Question Id : 16794318202 Question Type : MCQ Option Shuffling : Yes Display Question Number : Yes
Single Line Question Option : No Option Orientation : Vertical
Correct Marks : 1 Wrong Marks : 0.25

“Tamasha” is a folk dance of which of the following states?

Options :

1. ✔ Maharashtra

2. ✖ Bihar

3. ✖ Uttar Pradesh

4. ✖ Jharkhand

Question Number : 36 Question Id : 16794318202 Question Type : MCQ Option Shuffling : Yes Display Question Number : Yes
Single Line Question Option : No Option Orientation : Vertical
Correct Marks : 1 Wrong Marks : 0.25

"तामाशा" निम्नलिखित में से किस राज्य का लोक नृत्य है?

Options :

1. ✔ महाराष्ट्र

2. ✖ बिहार

3. ✖ उत्तर प्रदेश

4. ✖ झारखंड

Question Number : 37 Question Id : 16794318203 Question Type : MCQ Option Shuffling : Yes Display Question Number : Yes
Single Line Question Option : No Option Orientation : Vertical

Correct Marks : 1 Wrong Marks : 0.25

What is the acronym of NCBC?

Options :

1. ✖ National Committee for Backward Classes

2. ✖ National Committee for Socially Backward Classes

3. ✖ National Commission for Socially Backward Classes

4. ✔ National Commission for Backward Classes.

Question Number : 37 Question Id : 16794318203 Question Type : MCQ Option Shuffling : Yes Display Question Number : Yes
Single Line Question Option : No Option Orientation : Vertical

Correct Marks : 1 Wrong Marks : 0.25

एन.सी.बी.सी. का पूरा नाम क्या है?

Options :

1. ✖ नेशनल कमिटी फॉर बैकवर्ड क्लासेस

2. ✖ नेशनल कमिटी फॉर सोसली बैकवर्ड क्लासेस

3. ✖ नेशनल कमीशन फॉर सोसली बैकवर्ड क्लासेस

4. ✔ नेशनल कमीशन फॉर बैकवर्ड क्लासेस

Question Number : 38 Question Id : 16794318204 Question Type : MCQ Option Shuffling : Yes Display Question Number : Yes
Single Line Question Option : No Option Orientation : Vertical

Correct Marks : 1 Wrong Marks : 0.25

Which of the following leaders has represented India in BRICS summit held in July, 2018.

Options :

1. ✖ Sushma Swaraj

- 2. ✖ Arun Jaitley
- 3. ✔ Narendra Modi
- 4. ✖ Rajnath Singh

Question Number : 38 Question Id : 16794318204 Question Type : MCQ Option Shuffling : Yes Display Question Number : Yes
Single Line Question Option : No Option Orientation : Vertical

Correct Marks : 1 Wrong Marks : 0.25

जुलाई, 2018 में आयोजित ब्रिक्स शिखर सम्मेलन में निम्नलिखित में से किस नेताओं ने भारत का प्रतिनिधित्व किया है।

Options :

- 1. ✖ सुषमा स्वराज
- 2. ✖ अरुण जेटली
- 3. ✔ नरेंद्र मोदी
- 4. ✖ राजनाथ सिंह

Question Number : 39 Question Id : 16794318205 Question Type : MCQ Option Shuffling : Yes Display Question Number : Yes
Single Line Question Option : No Option Orientation : Vertical

Correct Marks : 1 Wrong Marks : 0.25

Akshay Venkatesh is associated with which of the following fields?

Options :

- 1. ✖ Astronomy
- 2. ✖ Science
- 3. ✔ Mathematics
- 4. ✖ Sports

Question Number : 39 Question Id : 16794318205 Question Type : MCQ Option Shuffling : Yes Display Question Number : Yes
Single Line Question Option : No Option Orientation : Vertical

Correct Marks : 1 Wrong Marks : 0.25

अक्षय वेंकटेश निम्नलिखित में से किस क्षेत्र से संबंधित है?

Options :

- 1. ✖ खगोल ज्ञान

2. ✖ विज्ञान

3. ✔ गणित

4. ✖ खेल

Question Number : 40 Question Id : 16794318206 Question Type : MCQ Option Shuffling : Yes Display Question Number : Yes
Single Line Question Option : No Option Orientation : Vertical

Correct Marks : 1 Wrong Marks : 0.25

Hima Das has clinched the women's _____ gold at the world under 20 Athletics championship.

Options :

1. ✖ 100 m

2. ✖ 200 m

3. ✖ 300 m

4. ✔ 400 m

Question Number : 40 Question Id : 16794318206 Question Type : MCQ Option Shuffling : Yes Display Question Number : Yes
Single Line Question Option : No Option Orientation : Vertical

Correct Marks : 1 Wrong Marks : 0.25

हिमा दास ने 20 एथलेटिक्स चैंपियनशिप के तहत दुनिया में महिलाओं के _____ स्वर्ण पदक जीते हैं।

Options :

1. ✖ 100 m

2. ✖ 200 m

3. ✖ 300 m

4. ✔ 400 m

Arithmetic Ability

Group Number :	3
Group Id :	167943676
Group Maximum Duration :	0
Group Minimum Duration :	0
Revisit allowed for view? :	No
Revisit allowed for edit? :	No
Break time:	0
Group Marks:	20
Revisit allowed for group Instructions? :	Yes

Maximum Instruction Time: 0
Minimum Instruction Time: 0

Arithmetic Ability

Section Id : 167943741
Section Number : 1
Section type : Online
Mandatory or Optional: Mandatory
Number of Questions: 19
Number of Questions to be attempted: 19
Section Marks: 20
Display Number Panel: Yes
Group All Questions: No

Sub-Section Number: 1
Sub-Section Id: 1679431155
Question Shuffling Allowed : Yes

Question Number : 41 Question Id : 16794318207 Question Type : MCQ Option Shuffling : Yes Display Question Number : Yes
Single Line Question Option : No Option Orientation : Vertical
Correct Marks : 1 Wrong Marks : 0.25

The value of $\frac{(269+831)^2+(269-831)^2}{(2.69)^2+(8.31)^2}$ is equal to:

Options :

1. ✖ 2000
2. ✖ 4000
3. ✔ 20000
4. ✖ 40000

Question Number : 41 Question Id : 16794318207 Question Type : MCQ Option Shuffling : Yes Display Question Number : Yes
Single Line Question Option : No Option Orientation : Vertical
Correct Marks : 1 Wrong Marks : 0.25

$\frac{(269+831)^2+(269-831)^2}{(2.69)^2+(8.31)^2}$ का मान इसके बराबर है:

Options :

1. ✖ 2000
2. ✖ 4000
3. ✔ 20000

4. ✖ 40000

Question Number : 42 Question Id : 16794318208 Question Type : MCQ Option Shuffling : Yes Display Question Number : Yes
Single Line Question Option : No Option Orientation : Vertical

Correct Marks : 1 Wrong Marks : 0.25

The digit in the units place of $(34)^9 + (46)^{21} - (43)^{27}$ is

Options :

1. ✔ 3

2. ✖ 4

3. ✖ 5

4. ✖ 7

Question Number : 42 Question Id : 16794318208 Question Type : MCQ Option Shuffling : Yes Display Question Number : Yes
Single Line Question Option : No Option Orientation : Vertical

Correct Marks : 1 Wrong Marks : 0.25

$(34)^9 + (46)^{21} - (43)^{27}$ में इकाई स्थान में अंक है:

Options :

1. ✔ 3

2. ✖ 4

3. ✖ 5

4. ✖ 7

Question Number : 43 Question Id : 16794318209 Question Type : MCQ Option Shuffling : Yes Display Question Number : Yes
Single Line Question Option : No Option Orientation : Vertical

Correct Marks : 1 Wrong Marks : 0.25

What is the sum of digits of the least number which should be subtracted from 13896 to make it a perfect cube?

Options :

1. ✖ 8

2. ✔ 9

3. ✖ 10

4. ✖ 12

Question Number : 43 Question Id : 16794318209 Question Type : MCQ Option Shuffling : Yes Display Question Number : Yes
Single Line Question Option : No Option Orientation : Vertical

Correct Marks : 1 Wrong Marks : 0.25

उस न्यूनतम संख्या के अंकों का योग क्या है, जिसे पूर्ण घन बनाने के लिए 13896 में से घटाया जाना चाहिए?

Options :

- 1. ✖ 8
- 2. ✔ 9
- 3. ✖ 10
- 4. ✖ 12

Question Number : 44 Question Id : 16794318210 Question Type : MCQ Option Shuffling : Yes Display Question Number : Yes
Single Line Question Option : No Option Orientation : Vertical

Correct Marks : 1 Wrong Marks : 0.25

The value of $0.\bar{4} + 0.5\bar{9} - 0.4\bar{2}3$ is equal to:

Options :

- 1. ✔ $0.6\bar{2}1$
- 2. ✖ $1.4\bar{6}7$
- 3. ✖ $0.6\bar{1}2$
- 4. ✖ $0.5\bar{8}6$

Question Number : 44 Question Id : 16794318210 Question Type : MCQ Option Shuffling : Yes Display Question Number : Yes
Single Line Question Option : No Option Orientation : Vertical

Correct Marks : 1 Wrong Marks : 0.25

$0.\bar{4} + 0.5\bar{9} - 0.4\bar{2}3$ का मान इसके बराबर है:

Options :

- 1. ✔ $0.6\bar{2}1$
- 2. ✖ $1.4\bar{6}7$
- 3. ✖ $0.6\bar{1}2$
- 4. ✖ $0.5\bar{8}6$

Question Number : 45 Question Id : 16794318211 Question Type : MCQ Option Shuffling : Yes Display Question Number : Yes
Single Line Question Option : No Option Orientation : Vertical

Correct Marks : 1 Wrong Marks : 0.25

The HCF of two numbers is 18 and their product is 8748. What is their reciprocal?

Options :

1. ☒ $\frac{14}{243}$

2. ☐ $\frac{2}{81}$

3. ☐ $\frac{28}{27}$

4. ☐ $\frac{27}{28}$

Question Number : 45 Question Id : 16794318211 Question Type : MCQ Option Shuffling : Yes Display Question Number : Yes
Single Line Question Option : No Option Orientation : Vertical

Correct Marks : 1 Wrong Marks : 0.25

दो संख्याओं का महत्तम समापवर्तक 18 है और उनका गुणनफल 8748 है। उनका व्युत्क्रम क्या है?

Options :

1. ☒ $\frac{14}{243}$

2. ☐ $\frac{2}{81}$

3. ☐ $\frac{28}{27}$

4. ☐ $\frac{27}{28}$

Question Number : 46 Question Id : 16794318212 Question Type : MCQ Option Shuffling : Yes Display Question Number : Yes
Single Line Question Option : No Option Orientation : Vertical

Correct Marks : 1 Wrong Marks : 0.25

The average weight of 42 boys of a class is 48 kg and the average weight of girls of same class is 44 kg. If average weight of whole class is 46.1 kg, what is the total number of students in the class?

Options :

1. ☐ 75

2. ☐ 78

3. ✓ 80

4. ✗ 85

Question Number : 46 Question Id : 16794318212 Question Type : MCQ Option Shuffling : Yes Display Question Number : Yes
Single Line Question Option : No Option Orientation : Vertical

Correct Marks : 1 Wrong Marks : 0.25

एक कक्षा में 42 लड़कों का औसत वजन 48 किलोग्राम है और उसी कक्षा की लड़कियों का औसत वजन 44 किलोग्राम है। यदि पूरी कक्षा का औसत वजन 46.1 किलोग्राम है तो कक्षा में छात्रों की कुल संख्या क्या है?

Options :

1. ✗ 75

2. ✗ 78

3. ✓ 80

4. ✗ 85

Question Number : 47 Question Id : 16794318213 Question Type : MCQ Option Shuffling : Yes Display Question Number : Yes
Single Line Question Option : No Option Orientation : Vertical

Correct Marks : 1 Wrong Marks : 0.25

₹ 19440 is divided among A, B and C such that 4 times share of A is equal to 6 times share of B and also equal to 3 times share of C. How much did B get?

Options :

1. ✓ ₹ 4320

2. ✗ ₹ 6480

3. ✗ ₹ 7560

4. ✗ ₹ 8640

Question Number : 47 Question Id : 16794318213 Question Type : MCQ Option Shuffling : Yes Display Question Number : Yes
Single Line Question Option : No Option Orientation : Vertical

Correct Marks : 1 Wrong Marks : 0.25

₹ 19440 की राशि A, B और C में इस तरह से वितरित की जाती है कि A का 4 गुना हिस्सा B के 6 गुने हिस्से के बराबर है और C के 3 गुने हिस्से के भी बराबर है। B को कितना मिला?

Options :

1. ✓ ₹ 4320

2. ✗ ₹ 6480

3. ✖ ₹ 7560

4. ✖ ₹ 8640

Question Number : 48 Question Id : 16794318214 Question Type : MCQ Option Shuffling : Yes Display Question Number : Yes
Single Line Question Option : No Option Orientation : Vertical

Correct Marks : 1 Wrong Marks : 0.25

The difference between mean proportion and third proportion of $\frac{3}{16}$ and $\frac{3}{4}$ is

Options :

1. ✖ $\frac{189}{64}$

2. ✔ $\frac{21}{8}$

3. ✖ $\frac{58}{9}$

4. ✖ $\frac{64}{3}$

Question Number : 48 Question Id : 16794318214 Question Type : MCQ Option Shuffling : Yes Display Question Number : Yes
Single Line Question Option : No Option Orientation : Vertical

Correct Marks : 1 Wrong Marks : 0.25

$\frac{3}{16}$ और $\frac{3}{4}$ के माध्य समानुपात और तृतीय समानुपात के बीच अंतर है:

Options :

1. ✖ $\frac{189}{64}$

2. ✔ $\frac{21}{8}$

3. ✖ $\frac{58}{9}$

4. ✖ $\frac{64}{3}$

Question Number : 49 Question Id : 16794318215 Question Type : MCQ Option Shuffling : Yes Display Question Number : Yes
Single Line Question Option : No Option Orientation : Vertical

Correct Marks : 1 Wrong Marks : 0.25

Neha gave 25% of the money she had to Rita. Rita spent 30% of the money received on school fee, 45% on buying books. If she is left with ₹ 1240, how much money Neha had initially?

Options :

1. ✖ ₹ 18340

2. ✖ ₹ 18560

3. ✖ ₹ 19720

4. ✔ ₹ 19840

Question Number : 49 Question Id : 16794318215 Question Type : MCQ Option Shuffling : Yes Display Question Number : Yes
Single Line Question Option : No Option Orientation : Vertical

Correct Marks : 1 Wrong Marks : 0.25

नेहा ने रीता को अपनी 25% रकम दी। रीता ने प्राप्त रकम का 30% स्कूल फीस पर और 45% रकम किताबें खरीदने पर खर्च किया। अगर उसके पास ₹1240 बचता है, तो प्रारंभ में नेहा के पास कितनी रकम थी?

Options :

1. ✖ ₹ 18340

2. ✖ ₹ 18560

3. ✖ ₹ 19720

4. ✔ ₹ 19840

Question Number : 50 Question Id : 16794318216 Question Type : MCQ Option Shuffling : Yes Display Question Number : Yes
Single Line Question Option : No Option Orientation : Vertical

Correct Marks : 1 Wrong Marks : 0.25

By selling 30 articles, a person gains selling price of 5 articles. What is his gain percent?

Options :

1. ✔ 20%

2. ✖ $\frac{50}{3}\%$

3. ✖ $\frac{100}{7}\%$

4. ✖ 30%

Question Number : 50 Question Id : 16794318216 Question Type : MCQ Option Shuffling : Yes Display Question Number : Yes
Single Line Question Option : No Option Orientation : Vertical

Correct Marks : 1 Wrong Marks : 0.25

30 वस्तुएं बेचने पर एक व्यक्ति को 5 वस्तुओं के बिक्री मूल्य का लाभ होता है। उसका लाभ प्रतिशत क्या है?

Options :

1. ✓ 20%

2. ✗ $\frac{50}{3}\%$

3. ✗ $\frac{100}{7}\%$

4. ✗ 30%

Question Number : 51 Question Id : 16794318217 Question Type : MCQ Option Shuffling : Yes Display Question Number : Yes
Single Line Question Option : No Option Orientation : Vertical

Correct Marks : 1 Wrong Marks : 0.25

The marked price an article is ₹ 12400. It is sold at successive discounts of 25% and $x\%$. If the selling price of the article is ₹ 8184, what is the value of x ?

Options :

1. ✗ 8%

2. ✗ 10%

3. ✓ 12%

4. ✗ 15%

Question Number : 51 Question Id : 16794318217 Question Type : MCQ Option Shuffling : Yes Display Question Number : Yes
Single Line Question Option : No Option Orientation : Vertical

Correct Marks : 1 Wrong Marks : 0.25

एक वस्तु का अंकित मूल्य ₹ 12400 है। उसे 25% और $x\%$ के क्रमिक छूट पर बेचा जाता है। यदि वस्तु का बिक्री मूल्य ₹ 8184 है तो x का मान क्या है?

Options :

1. ✗ 8%

2. ✗ 10%

3. ✓ 12%

4. ✗ 15%

Question Number : 52 Question Id : 16794318218 Question Type : MCQ Option Shuffling : Yes Display Question Number : Yes
Single Line Question Option : No Option Orientation : Vertical

Correct Marks : 1 Wrong Marks : 0.25

The difference between compound interest and simple interest on ₹ 6400 for 2 years is ₹ 36. What is the rate of interest per annum?

Options :

- 1. ✖ 7%
- 2. ✔ 7.5%
- 3. ✖ 8%
- 4. ✖ 8.5%

Question Number : 52 Question Id : 16794318218 Question Type : MCQ Option Shuffling : Yes Display Question Number : Yes
Single Line Question Option : No Option Orientation : Vertical

Correct Marks : 1 Wrong Marks : 0.25

2 वर्ष के लिए ₹ 6400 पर चक्रवृद्धि ब्याज और साधारण ब्याज के बीच अंतर ₹ 36 है। प्रति वर्ष ब्याज दर क्या है?

Options :

- 1. ✖ 7%
- 2. ✔ 7.5%
- 3. ✖ 8%
- 4. ✖ 8.5%

Question Number : 53 Question Id : 16794318219 Question Type : MCQ Option Shuffling : Yes Display Question Number : Yes
Single Line Question Option : No Option Orientation : Vertical

Correct Marks : 1 Wrong Marks : 0.25

The sides of a triangle are 5 cm, 12 cm, and 13 cm. circles of radius 2 cm are drawn at each of its vertex. What is the area of the triangle excluding the portion lying in the sectors of the circles? ($\pi = 3.14$)

Options :

- 1. ✖ 17.44 cm²
- 2. ✖ 20.58 cm²
- 3. ✔ 23.72 cm²
- 4. ✖ 25.82 cm²

Question Number : 53 Question Id : 16794318219 Question Type : MCQ Option Shuffling : Yes Display Question Number : Yes
Single Line Question Option : No Option Orientation : Vertical

Correct Marks : 1 Wrong Marks : 0.25

एक त्रिभुज की भुजाएं 5 cm, 12 cm, और 13 cm हैं। इसके हरेक शीर्ष पर 2 cm त्रिज्या के वृत्त बनाए जाते हैं। वृत्तों के क्षेत्रों में आने वाले हिस्से को छोड़कर त्रिभुज का क्षेत्रफल क्या है? ($\pi = 3.14$)

Options :

1. ✖ 17.44 cm²
2. ✖ 20.58 cm²
3. ✔ 23.72 cm²
4. ✖ 25.82 cm²

Question Number : 54 Question Id : 16794318220 Question Type : MCQ Option Shuffling : Yes Display Question Number : Yes
Single Line Question Option : No Option Orientation : Vertical

Correct Marks : 1 Wrong Marks : 0.25

The radius of a sphere is increased by 120%. What is percent increase in its surface area?

Options :

1. ✖ 56.25%
2. ✖ 156.25%
3. ✖ 25.44%
4. ✔ 406.25%

Question Number : 54 Question Id : 16794318220 Question Type : MCQ Option Shuffling : Yes Display Question Number : Yes
Single Line Question Option : No Option Orientation : Vertical

Correct Marks : 1 Wrong Marks : 0.25

एक गोले की त्रिज्या 120% बढ़ा दी जाती है। उसके सतह क्षेत्रफल में प्रतिशत वृद्धि कितनी है?

Options :

1. ✖ 56.25%
2. ✖ 156.25%
3. ✖ 25.44%
4. ✔ 406.25%

Question Number : 55 Question Id : 16794318221 Question Type : MCQ Option Shuffling : Yes Display Question Number : Yes
Single Line Question Option : No Option Orientation : Vertical

Correct Marks : 1 Wrong Marks : 0.25

The efficiency of A, B and C are in the ratio 4 : 5 : 6. They together can complete a work in 32 days. In how many days, B alone with complete that work?

Options :

- 1. ✖ 80
- 2. ✔ 96
- 3. ✖ 100
- 4. ✖ 120

Question Number : 55 Question Id : 16794318221 Question Type : MCQ Option Shuffling : Yes Display Question Number : Yes
Single Line Question Option : No Option Orientation : Vertical

Correct Marks : 1 Wrong Marks : 0.25

A, B और C की कार्यदक्षता 4 : 5 : 6 के अनुपात में है। वे एक साथ मिलकर एक काम को 32 दिन में पूरा कर सकते हैं। अकेले B उस कार्य को कितने दिन में पूरा करेगा?

Options :

- 1. ✖ 80
- 2. ✔ 96
- 3. ✖ 100
- 4. ✖ 120

Question Number : 56 Question Id : 16794318222 Question Type : MCQ Option Shuffling : Yes Display Question Number : Yes
Single Line Question Option : No Option Orientation : Vertical

Correct Marks : 1 Wrong Marks : 0.25

2 men working 8 hours a day can build 112 m long wall in 6 days. What length of a similar wall can be built by 25 men working 5 hours a day in 3 days?

Note: For this question, discrepancy is found in question/answer. So, this question is ignored for all candidates.

Options :

- 1. 43.75 m
- 2. 437.5 m
- 3. 44.75 m
- 4. 44.25 m

Question Number : 56 Question Id : 16794318222 Question Type : MCQ Option Shuffling : Yes Display Question Number : Yes
Single Line Question Option : No Option Orientation : Vertical

Correct Marks : 1 Wrong Marks : 0.25

एक दिन में 8 घंटे काम करने वाले 2 आदमी 6 दिन में 112 m लंबी दीवार बना सकते हैं। एक दिन में 5 घंटे काम करने वाले 25 आदमियों द्वारा 3 दिन में इसी प्रकार की कितनी लंबी दीवार बनाई जा सकती है?

Note: For this question, discrepancy is found in question/answer. So, this question is ignored for all candidates.

Options :

1. 43.75 m
2. 437.5 m
3. 44.75 m
4. 44.25 m

Question Number : 57 Question Id : 16794318223 Question Type : MCQ Option Shuffling : Yes Display Question Number : Yes
Single Line Question Option : No Option Orientation : Vertical

Correct Marks : 1 Wrong Marks : 0.25

A boat can travel 7.5 km upstream and 9 km downstream in 2 hours. Also, it can go 9 km upstream and 15 km downstream in 2 hours 45 minutes. What is the speed of stream in km/h?

Options :

1. ✖ 1
2. ✖ 2.5
3. ✔ 3
4. ✖ 3.5

Question Number : 57 Question Id : 16794318223 Question Type : MCQ Option Shuffling : Yes Display Question Number : Yes
Single Line Question Option : No Option Orientation : Vertical

Correct Marks : 1 Wrong Marks : 0.25

एक नाव 2 घंटे में 7.5 km धारा-प्रतिकूल (अपस्ट्रीम) और 9 km धारा-अनुकूल (डाउनस्ट्रीम) जा सकती है। इसके अलावा, यह 2 घंटे 45 मिनट में 9 km अपस्ट्रीम और 15 km डाउनस्ट्रीम जा सकती है। धारा की गति km/h में क्या है?

Options :

1. ✖ 1
2. ✖ 2.5
3. ✔ 3
4. ✖ 3.5

Question Number : 58 Question Id : 16794318224 Question Type : MCQ Option Shuffling : Yes Display Question Number : Yes
Single Line Question Option : No Option Orientation : Vertical

Correct Marks : 1 Wrong Marks : 0.25

A car travels, 100 km with a speed of 60 km/h and next 200 km with a speed of 75 km/h. What is the average speed of car for whole journey correct to one decimal place in km/h?

Options :

1. ✖ 67.5

2. ✖ 68.3

3. ✔ 69.2

4. ✖ 69.8

Question Number : 58 Question Id : 16794318224 Question Type : MCQ Option Shuffling : Yes Display Question Number : Yes
Single Line Question Option : No Option Orientation : Vertical

Correct Marks : 1 Wrong Marks : 0.25

एक कार 60 km/h की गति से 100 km की दूरी और 75 km/h की गति से अगली 200 km की दूरी तय करती है। पूरी यात्रा के लिए कार औसत गति km/h में क्या है? (एक दशमलव स्थान तक सही)

Options :

1. ✖ 67.5

2. ✖ 68.3

3. ✔ 69.2

4. ✖ 69.8

Sub-Section Number:	2
Sub-Section Id:	1679431156
Question Shuffling Allowed :	Yes

Question Id : 16794318225 Question Type : COMPREHENSION Sub Question Shuffling Allowed : Yes Group Comprehension Questions : No

Question Numbers : (59 to 60)

Question Label : Comprehension

Read the table and answer the following questions

The following table gives the marks obtained by students in a class out of 50 marks in the given class intervals.

Class interval	0-10	10-20	20-30	30-40	40-50
No. of students	10	15	45	35	15

Sub questions

Question Number : 59 Question Id : 16794318226 Question Type : MCQ Option Shuffling : Yes Display Question Number : Yes
Single Line Question Option : No Option Orientation : Vertical

Correct Marks : 1 Wrong Marks : 0.25

What is the mean mark of student?

Options :

1. ✓ 27.5

2. ✗ 27.8

3. ✗ 28.4

4. ✗ 29.2

Question Number : 60 Question Id : 16794318227 Question Type : MCQ Option Shuffling : Yes Display Question Number : Yes
Single Line Question Option : No Option Orientation : Vertical

Correct Marks : 1 Wrong Marks : 0.25

If the above information is represented as Pie-chart,
what is the central angle of the sector representing
the number of students in the interval 20-30?
(Correct to complete degree)

Options :

1. ✗ 110°

2. ✗ 120°

3. ✗ 125°

4. ✓ 135°

Question Id : 16794318225 Question Type : COMPREHENSION Sub Question Shuffling Allowed : Yes Group Comprehension
Questions : No

Question Numbers : (59 to 60)

Question Label : Comprehension

निम्नलिखित तालिका एक वर्ग अंतराल में छात्रों द्वारा 50 अंकों में से प्राप्तांक दर्शाती है।

वर्ग अंतराल	0-10	10-20	20-30	30-40	40-50
छात्रों की संख्या	10	15	45	35	15

तालिका पढ़कर निम्नलिखित प्रश्नों के उत्तर दें

Sub questions

Question Number : 59 Question Id : 16794318226 Question Type : MCQ Option Shuffling : Yes Display Question Number : Yes
Single Line Question Option : No Option Orientation : Vertical

Correct Marks : 1 Wrong Marks : 0.25

छात्रों का माध्य अंक क्या है?

Options :

1. ✓ 27.5

2. ✗ 27.8

3. ✗ 28.4

4. ✗ 29.2

Question Number : 60 Question Id : 16794318227 Question Type : MCQ Option Shuffling : Yes Display Question Number : Yes
Single Line Question Option : No Option Orientation : Vertical

Correct Marks : 1 Wrong Marks : 0.25

यदि उपर्युक्त जानकारी पाई चार्ट के रूप में दर्शायी जाती है, तो वर्ग अंतराल 20- 30 में छात्रों की संख्या दर्शाने वाले क्षेत्र का केंद्रीय कोण क्या है? (निकटतम पूर्ण डिग्री में)

Options :

1. ✗ 110°

2. ✗ 120°

3. ✗ 125°

4. ✓ 135°

General English

Group Number :	4
Group Id :	167943677
Group Maximum Duration :	0
Group Minimum Duration :	0
Revisit allowed for view? :	No
Revisit allowed for edit? :	No
Break time:	0
Group Marks:	20
Revisit allowed for group Instructions? :	Yes
Maximum Instruction Time:	0
Minimum Instruction Time:	0

General English

Section Id :	167943742
Section Number :	1
Section type :	Online
Mandatory or Optional:	Mandatory
Number of Questions:	16
Number of Questions to be attempted:	16
Section Marks:	20
Display Number Panel:	Yes
Group All Questions:	No

Sub-Section Number:	1
Sub-Section Id:	1679431157
Question Shuffling Allowed :	Yes

Question Number : 61 Question Id : 16794318228 Question Type : MCQ Option Shuffling : Yes Display Question Number : Yes
Single Line Question Option : No Option Orientation : Vertical
Correct Marks : 1 Wrong Marks : 0.25

One of the options below is a complete sentence. Identify it.

Options :

- ✘ Here and there
- ✘ The dog in the kennel
- ✘ Honey and Cream
- ✔ The plumber fixed the tap

Question Number : 61 Question Id : 16794318228 Question Type : MCQ Option Shuffling : Yes Display Question Number : Yes
Single Line Question Option : No Option Orientation : Vertical
Correct Marks : 1 Wrong Marks : 0.25

One of the options below is a complete sentence. Identify it.

Options :

1. ✖ Here and there
2. ✖ The dog in the kennel
3. ✖ Honey and Cream
4. ✔ The plumber fixed the tap

Question Number : 62 Question Id : 16794318229 Question Type : MCQ Option Shuffling : Yes Display Question Number : Yes
Single Line Question Option : No Option Orientation : Vertical

Correct Marks : 1 Wrong Marks : 0.25

Choose a suitable ending for this sentence:

He prepared well for the exam, yet _____

Options :

1. ✖ he past.
2. ✔ he failed in the exam.
3. ✖ he passed.
4. ✖ he falls.

Question Number : 62 Question Id : 16794318229 Question Type : MCQ Option Shuffling : Yes Display Question Number : Yes
Single Line Question Option : No Option Orientation : Vertical

Correct Marks : 1 Wrong Marks : 0.25

Choose a suitable ending for this sentence:

He prepared well for the exam, yet _____

Options :

1. ✖ he past.
2. ✔ he failed in the exam.
3. ✖ he passed.
4. ✖ he falls.

Question Number : 63 Question Id : 16794318230 Question Type : MCQ Option Shuffling : Yes Display Question Number : Yes
Single Line Question Option : No Option Orientation : Vertical

Correct Marks : 1 Wrong Marks : 0.25

Which sentence of the below is grammatically most appropriate?

Options :

1. ✖ I planned to watch a movie and I couldn't get the ticket but I reached home sad.
2. ✖ I planned to watch a movie but I couldn't get the ticket but I reached home sad.
3. ✔ I planned to watch a movie but I couldn't get the ticket and I reached home sad.
4. ✖ I planned to watch a movie and I couldn't get the ticket but I reached home sad.

Question Number : 63 Question Id : 16794318230 Question Type : MCQ Option Shuffling : Yes Display Question Number : Yes
Single Line Question Option : No Option Orientation : Vertical

Correct Marks : 1 Wrong Marks : 0.25

Which sentence of the below is grammatically most appropriate?

Options :

1. ✖ I planned to watch a movie and I couldn't get the ticket but I reached home sad.
2. ✖ I planned to watch a movie but I couldn't get the ticket but I reached home sad.
3. ✔ I planned to watch a movie but I couldn't get the ticket and I reached home sad.
4. ✖ I planned to watch a movie and I couldn't get the ticket but I reached home sad.

Question Number : 64 Question Id : 16794318231 Question Type : MCQ Option Shuffling : Yes Display Question Number : Yes
Single Line Question Option : No Option Orientation : Vertical

Correct Marks : 1 Wrong Marks : 0.25

Fill in the blank with the most appropriate option.

This time tomorrow, I _____ on the cricket field.

Options :

1. ✖ play
2. ✖ would play
3. ✔ will be playing
4. ✖ played

Question Number : 64 Question Id : 16794318231 Question Type : MCQ Option Shuffling : Yes Display Question Number : Yes
Single Line Question Option : No Option Orientation : Vertical

Correct Marks : 1 Wrong Marks : 0.25

Fill in the blank with the most appropriate option.

This time tomorrow, I _____ on the cricket field.

Options :

1. ✖ play
2. ✖ would play
3. ✔ will be playing
4. ✖ played

Question Number : 65 Question Id : 16794318232 Question Type : MCQ Option Shuffling : Yes Display Question Number : Yes
Single Line Question Option : No Option Orientation : Vertical

Correct Marks : 1 Wrong Marks : 0.25

Fill in the blank with the most appropriate option.

My puppy dislikes _____ a bath.

Options :

1. ✖ to take
2. ✔ taking
3. ✖ take
4. ✖ to taking

Question Number : 65 Question Id : 16794318232 Question Type : MCQ Option Shuffling : Yes Display Question Number : Yes
Single Line Question Option : No Option Orientation : Vertical

Correct Marks : 1 Wrong Marks : 0.25

Fill in the blank with the most appropriate option.

My puppy dislikes _____ a bath.

Options :

1. ✖ to take
2. ✔ taking
3. ✖ take
4. ✖ to taking

Question Number : 66 Question Id : 16794318233 Question Type : MCQ Option Shuffling : Yes Display Question Number : Yes
Single Line Question Option : No Option Orientation : Vertical

Correct Marks : 1 Wrong Marks : 0.25

"Where is my walking stick?" said grandpa. The reported speech of this sentence is:

My grandpa_____

Options :

1. ✖ said where walking stick is
2. ✔ asked where his walking stick was
3. ✖ asked if walking stick was there
4. ✖ asked whether walking stick was there

Question Number : 66 Question Id : 16794318233 Question Type : MCQ Option Shuffling : Yes Display Question Number : Yes
Single Line Question Option : No Option Orientation : Vertical

Correct Marks : 1 Wrong Marks : 0.25

"Where is my walking stick?" said grandpa. The reported speech of this sentence is:

My grandpa_____

Options :

1. ✖ said where walking stick is
2. ✔ asked where his walking stick was
3. ✖ asked if walking stick was there
4. ✖ asked whether walking stick was there

Question Number : 67 Question Id : 16794318234 Question Type : MCQ Option Shuffling : Yes Display Question Number : Yes
Single Line Question Option : No Option Orientation : Vertical

Correct Marks : 1 Wrong Marks : 0.25

Provide the appropriate question tag for the below question:

She does most of the work, _____

Options :

1. ✖ does she?
2. ✖ should she?

3. ✖ mustn't she?

4. ✔ doesn't she?

Question Number : 67 Question Id : 16794318234 Question Type : MCQ Option Shuffling : Yes Display Question Number : Yes
Single Line Question Option : No Option Orientation : Vertical

Correct Marks : 1 Wrong Marks : 0.25

Provide the appropriate question tag for the below question:

She does most of the work, _____

Options :

1. ✖ does she?

2. ✖ should she?

3. ✖ mustn't she?

4. ✔ doesn't she?

Question Number : 68 Question Id : 16794318235 Question Type : MCQ Option Shuffling : Yes Display Question Number : Yes
Single Line Question Option : No Option Orientation : Vertical

Correct Marks : 1 Wrong Marks : 0.25

Provide the appropriate synonym for the underlined word in the below sentence:

She is a saviour of the destitute.

Options :

1. ✖ wealthy

2. ✖ dissatisfied

3. ✔ impoverished

4. ✖ creamy layer

Question Number : 68 Question Id : 16794318235 Question Type : MCQ Option Shuffling : Yes Display Question Number : Yes
Single Line Question Option : No Option Orientation : Vertical

Correct Marks : 1 Wrong Marks : 0.25

Provide the appropriate synonym for the underlined word in the below sentence:

She is a saviour of the destitute.

Options :

1. ✖ wealthy

- 2. ✖ dissatisfied
- 3. ✔ impoverished
- 4. ✖ creamy layer

Question Number : 69 Question Id : 16794318236 Question Type : MCQ Option Shuffling : Yes Display Question Number : Yes
Single Line Question Option : No Option Orientation : Vertical

Correct Marks : 1 Wrong Marks : 0.25

Provide the appropriate synonym for the underlined word in the below sentence:

The welfare scheme kindled hope amongst the deprived.

Options :

- 1. ✖ soared
- 2. ✔ ignited
- 3. ✖ decimated
- 4. ✖ reacted

Question Number : 69 Question Id : 16794318236 Question Type : MCQ Option Shuffling : Yes Display Question Number : Yes
Single Line Question Option : No Option Orientation : Vertical

Correct Marks : 1 Wrong Marks : 0.25

Provide the appropriate synonym for the underlined word in the below sentence:

The welfare scheme kindled hope amongst the deprived.

Options :

- 1. ✖ soared
- 2. ✔ ignited
- 3. ✖ decimated
- 4. ✖ reacted

Question Number : 70 Question Id : 16794318237 Question Type : MCQ Option Shuffling : Yes Display Question Number : Yes
Single Line Question Option : No Option Orientation : Vertical

Correct Marks : 1 Wrong Marks : 0.25

Provide the appropriate synonym for the underlined word in the below sentence:

The boys live in a cohesive community.

Options :

1. ✖ coarse
2. ✖ course
3. ✔ close-knit
4. ✖ grand

Question Number : 70 Question Id : 16794318237 Question Type : MCQ Option Shuffling : Yes Display Question Number : Yes
Single Line Question Option : No Option Orientation : Vertical

Correct Marks : 1 Wrong Marks : 0.25

Provide the appropriate synonym for the underlined word in the below sentence:

The boys live in a cohesive community.

Options :

1. ✖ coarse
2. ✖ course
3. ✔ close-knit
4. ✖ grand

Question Number : 71 Question Id : 16794318238 Question Type : MCQ Option Shuffling : Yes Display Question Number : Yes
Single Line Question Option : No Option Orientation : Vertical

Correct Marks : 1 Wrong Marks : 0.25

Provide the appropriate antonym for the underlined word in the below sentence:

His timid nature was the cause of his fall.

Options :

1. ✔ bold
2. ✖ bald
3. ✖ humid
4. ✖ Pretty

Question Number : 71 Question Id : 16794318238 Question Type : MCQ Option Shuffling : Yes Display Question Number : Yes
Single Line Question Option : No Option Orientation : Vertical

Correct Marks : 1 Wrong Marks : 0.25

Provide the appropriate antonym for the underlined word in the below sentence:

His timid nature was the cause of his fall.

Options :

1. ☒ bold
2. ☐ bald
3. ☐ humid
4. ☐ Pretty

Question Number : 72 Question Id : 16794318239 Question Type : MCQ Option Shuffling : Yes Display Question Number : Yes
Single Line Question Option : No Option Orientation : Vertical

Correct Marks : 1 Wrong Marks : 0.25

Provide the appropriate antonym for the underlined word in the below sentence:

Rustom is vague in his dealings.

Options :

1. ☐ improper
2. ☐ unworthy
3. ☐ rather
4. ☒ clear

Question Number : 72 Question Id : 16794318239 Question Type : MCQ Option Shuffling : Yes Display Question Number : Yes
Single Line Question Option : No Option Orientation : Vertical

Correct Marks : 1 Wrong Marks : 0.25

Provide the appropriate antonym for the underlined word in the below sentence:

Rustom is vague in his dealings.

Options :

1. ☐ improper
2. ☐ unworthy
3. ☐ rather
4. ☒ clear

Question Number : 73 Question Id : 16794318240 Question Type : MCQ Option Shuffling : Yes Display Question Number : Yes
Single Line Question Option : No Option Orientation : Vertical

Correct Marks : 1 Wrong Marks : 0.25

Fill in the blank with the most appropriate option.

It is half past seven _____ my watch.

Options :

1. ✖ with

2. ✔ by

3. ✖ on

4. ✖ from

Question Number : 73 Question Id : 16794318240 Question Type : MCQ Option Shuffling : Yes Display Question Number : Yes
Single Line Question Option : No Option Orientation : Vertical

Correct Marks : 1 Wrong Marks : 0.25

Fill in the blank with the most appropriate option.

It is half past seven _____ my watch.

Options :

1. ✖ with

2. ✔ by

3. ✖ on

4. ✖ from

Question Number : 74 Question Id : 16794318241 Question Type : MCQ Option Shuffling : Yes Display Question Number : Yes
Single Line Question Option : No Option Orientation : Vertical

Correct Marks : 1 Wrong Marks : 0.25

Fill in the blank with the most appropriate option.

The robber tiptoed towards the locker, _____ he awoke the guards.

Options :

1. ✖ beside

2. ✖ along

3. ✖ from

4. ✓ lest

Question Number : 74 Question Id : 16794318241 Question Type : MCQ Option Shuffling : Yes Display Question Number : Yes
Single Line Question Option : No Option Orientation : Vertical

Correct Marks : 1 Wrong Marks : 0.25

Fill in the blank with the most appropriate option.

The robber tiptoed towards the locker, _____ he awoke the guards.

Options :

1. ✗ beside

2. ✗ along

3. ✗ from

4. ✓ lest

Question Number : 75 Question Id : 16794318242 Question Type : MCQ Option Shuffling : Yes Display Question Number : Yes
Single Line Question Option : No Option Orientation : Vertical

Correct Marks : 1 Wrong Marks : 0.25

Fill in the blank with the most appropriate option.

_____ he didn't have formal education, he was a genius in mathematics.

Options :

1. ✗ Consequently

2. ✗ Because

3. ✗ As

4. ✓ Even though

Question Number : 75 Question Id : 16794318242 Question Type : MCQ Option Shuffling : Yes Display Question Number : Yes
Single Line Question Option : No Option Orientation : Vertical

Correct Marks : 1 Wrong Marks : 0.25

Fill in the blank with the most appropriate option.

_____ he didn't have formal education, he was a genius in mathematics.

Options :

1. ✗ Consequently

2. ✗ Because

3. ✖ As

4. ✔ Even though

Sub-Section Number: 2
Sub-Section Id: 1679431158
Question Shuffling Allowed : Yes

Question Id : 16794318243 Question Type : COMPREHENSION Sub Question Shuffling Allowed : Yes Group Comprehension Questions : No

Question Numbers : (76 to 80)

Question Label : Comprehension

Read the following passage and answer the questions that follow.

More girls are playing high school football, even as the sport draws fewer participants overall in an injury-conscious era.

As part of Super Bowl LII in Minneapolis, the National Football League organized its third Women's Summit for Friday "to discuss how football and the broader sports world can continue to support the advancement of women on and off the field," said Kamran Mumtaz, an N.F.L. spokesman.

The sport remains male-dominated, with no women playing in the N.F.L. and few on college teams. But some high school girls, playing on teams of boys, are gaining attention for their achievements.

For example, last fall, the high school quarterback Holly Neher threw a touchdown pass in Florida, making headlines as the first girl known to do so in state history.

And K-Lani Nava, a kicker, became the first girl in Texas to score points in a high school state championship game.

But as a growing body of research suggests that youth tackle football is harmful to children's brains, not everyone is cheering.

Sub questions

Question Number : 76 Question Id : 16794318244 Question Type : MCQ Option Shuffling : Yes Display Question Number : Yes Single Line Question Option : No Option Orientation : Vertical

Correct Marks : 1 Wrong Marks : 0.25

The cause for fewer participants in the sport is:

Options :

1. ✖ Lack of interest

- 2. ✖ Owing to it being a Female dominated sport
- 3. ✔ It is an injury-prone game
- 4. ✖ It has a poor coverage on TV

Question Number : 77 Question Id : 16794318245 Question Type : MCQ Option Shuffling : Yes Display Question Number : Yes
Single Line Question Option : No Option Orientation : Vertical
Correct Marks : 1 Wrong Marks : 0.25

The word 'fall' as used in the passage means:

Options :

- 1. ✖ A reason
- 2. ✔ A season
- 3. ✖ An accident
- 4. ✖ A reduction

Question Number : 78 Question Id : 16794318246 Question Type : MCQ Option Shuffling : Yes Display Question Number : Yes
Single Line Question Option : No Option Orientation : Vertical
Correct Marks : 1 Wrong Marks : 0.25

Among girls, which group seems to have taken to this sport in larger numbers?

Options :

- 1. ✖ College girls
- 2. ✖ Kindergarten girls
- 3. ✔ High school girls
- 4. ✖ University students

Question Number : 79 Question Id : 16794318247 Question Type : MCQ Option Shuffling : Yes Display Question Number : Yes
Single Line Question Option : No Option Orientation : Vertical
Correct Marks : 1 Wrong Marks : 0.25

Who/What is indicating that the sport is harmful for children's brains?

Options :

- 1. ✖ NFL

- 2. ✖ Coaches
- 3. ✖ Male counterparts
- 4. ✔ Research

Question Number : 80 Question Id : 16794318248 Question Type : MCQ Option Shuffling : Yes Display Question Number : Yes
Single Line Question Option : No Option Orientation : Vertical

Correct Marks : 1 Wrong Marks : 0.25

The two girls who made history recently in football
are from:

Options :

- 1. ✖ Minneapolis and Florida
- 2. ✔ Florida and Texas
- 3. ✖ Texas and Minneapolis
- 4. ✖ Hollywood and Texas

Question Id : 16794318243 Question Type : COMPREHENSION Sub Question Shuffling Allowed : Yes Group Comprehension
Questions : No

Question Numbers : (76 to 80)

Question Label : Comprehension

Read the following passage and answer the questions that follow.

More girls are playing high school football, even as the sport draws fewer participants overall in an injury-conscious era.

As part of Super Bowl LII in Minneapolis, the National Football League organized its third Women's Summit for Friday "to discuss how football and the broader sports world can continue to support the advancement of women on and off the field," said Kamran Mumtaz, an N.F.L. spokesman.

The sport remains male-dominated, with no women playing in the N.F.L. and few on college teams. But some high school girls, playing on teams of boys, are gaining attention for their achievements.

For example, last fall, the high school quarterback Holly Neher threw a touchdown pass in Florida, making headlines as the first girl known to do so in state history.

And K-Lani Nava, a kicker, became the first girl in Texas to score points in a high school state championship game.

But as a growing body of research suggests that youth tackle football is harmful to children's brains, not everyone is cheering.

Sub questions

Question Number : 76 Question Id : 16794318244 Question Type : MCQ Option Shuffling : Yes Display Question Number : Yes
Single Line Question Option : No Option Orientation : Vertical

Correct Marks : 1 Wrong Marks : 0.25

The cause for fewer participants in the sport is:

Options :

1. ✖ Lack of interest
2. ✖ Owing to it being a Female dominated sport
3. ✔ It is an injury-prone game
4. ✖ It has a poor coverage on TV

Question Number : 77 Question Id : 16794318245 Question Type : MCQ Option Shuffling : Yes Display Question Number : Yes
Single Line Question Option : No Option Orientation : Vertical

Correct Marks : 1 Wrong Marks : 0.25

The word 'fall' as used in the passage means:

Options :

1. ✖ A reason

2. ✓ A season

3. ✗ An accident

4. ✗ A reduction

Question Number : 78 Question Id : 16794318246 Question Type : MCQ Option Shuffling : Yes Display Question Number : Yes
Single Line Question Option : No Option Orientation : Vertical

Correct Marks : 1 Wrong Marks : 0.25

Among girls, which group seems to have taken to this sport in larger numbers?

Options :

1. ✗ College girls

2. ✗ Kindergarten girls

3. ✓ High school girls

4. ✗ University students

Question Number : 79 Question Id : 16794318247 Question Type : MCQ Option Shuffling : Yes Display Question Number : Yes
Single Line Question Option : No Option Orientation : Vertical

Correct Marks : 1 Wrong Marks : 0.25

Who/What is indicating that the sport is harmful for children's brains?

Options :

1. ✗ NFL

2. ✗ Coaches

3. ✗ Male counterparts

4. ✓ Research

Question Number : 80 Question Id : 16794318248 Question Type : MCQ Option Shuffling : Yes Display Question Number : Yes
Single Line Question Option : No Option Orientation : Vertical

Correct Marks : 1 Wrong Marks : 0.25

The two girls who made history recently in football are from:

Options :

1. ✗ Minneapolis and Florida

2. ✓ Florida and Texas

3. ✗ Texas and Minneapolis

4. ✗ Hollywood and Texas

General Hindi

Group Number :	5
Group Id :	167943678
Group Maximum Duration :	0
Group Minimum Duration :	0
Revisit allowed for view? :	No
Revisit allowed for edit? :	No
Break time:	0
Group Marks:	20
Revisit allowed for group Instructions? :	Yes
Maximum Instruction Time:	0
Minimum Instruction Time:	0

General Hindi

Section Id :	167943743
Section Number :	1
Section type :	Online
Mandatory or Optional:	Mandatory
Number of Questions:	16
Number of Questions to be attempted:	16
Section Marks:	20
Display Number Panel:	Yes
Group All Questions:	No

Sub-Section Number:	1
Sub-Section Id:	1679431159
Question Shuffling Allowed :	Yes

Question Id : 16794318249 Question Type : COMPREHENSION Sub Question Shuffling Allowed : Yes Group Comprehension Questions : No

Question Numbers : (81 to 85)

Question Label : Comprehension

नीचे दिये गए गद्यांश को पढ़कर पूछे गये प्रश्नों के उत्तर दीजिए।

शुक्ल जी के निबंध गंभीर एक विचारपरक होते हैं। उनमें सूत्रबद्धता एवं व्यवस्थित केन्द्रोन्मुखता होती है। मनोविकारों की परिभाषा करना कठिन होता है। किंतु शुक्ल जी प्रायः निबंध का प्रारंभ परिभाषा से करते हैं। यहाँ उनका कोशकार रूप सामने आता है। वे कोई सूत्र एक वाक्य में प्रस्तुत कर देते हैं और फिर उसकी व्याख्या में प्रवृत्त होते हैं। व्याख्या करके वे आवश्यकतानुसार सामान्य जीवन-खंड से कोई दृष्टांत भी प्रस्तुत कर देते हैं। इससे निबंध का वह सूत्र हृदयंगम हो जाता है।

Sub questions

Question Number : 81 Question Id : 16794318250 Question Type : MCQ Option Shuffling : Yes Display Question Number : Yes
Single Line Question Option : No Option Orientation : Vertical
Correct Marks : 1 Wrong Marks : 0.25

शुक्ल जी के निबंधों की विशेषता नहीं है:

Options :

1. ✖ गंभीरता
2. ✖ विचारपरकता
3. ✔ व्यक्तिपरकता
4. ✖ सूत्रबद्धता

Question Number : 82 Question Id : 16794318251 Question Type : MCQ Option Shuffling : Yes Display Question Number : Yes
Single Line Question Option : No Option Orientation : Vertical
Correct Marks : 1 Wrong Marks : 0.25

शुक्ल जी निबंधों का प्रारम्भ प्रायः किससे करते हैं?

Options :

1. ✔ परिभाषा से
2. ✖ व्याख्या से
3. ✖ मंगलाचरण से
4. ✖ सिद्धांत स्थापना से

Question Number : 83 Question Id : 16794318252 Question Type : MCQ Option Shuffling : Yes Display Question Number : Yes
Single Line Question Option : No Option Orientation : Vertical

Correct Marks : 1 Wrong Marks : 0.25

‘कोशकार रूप’ का आशय है:

Options :

1. ✖ इतिहासकार
2. ✖ समाजशास्त्री
3. ✖ खजानची
4. ✔ शब्दकोशकार

Question Number : 84 Question Id : 16794318253 Question Type : MCQ Option Shuffling : Yes Display Question Number : Yes
Single Line Question Option : No Option Orientation : Vertical

Correct Marks : 1 Wrong Marks : 0.25

‘दृष्टांत’ का अर्थ है:

Options :

1. ✖ दृश्य
2. ✔ उदाहरण
3. ✖ व्याख्या
4. ✖ कथा

Question Number : 85 Question Id : 16794318254 Question Type : MCQ Option Shuffling : Yes Display Question Number : Yes
Single Line Question Option : No Option Orientation : Vertical

Correct Marks : 1 Wrong Marks : 0.25

‘हृदयंगम हो जाता है’ का अर्थ है:

Options :

1. ✖ नहीं समझ में आता।
2. ✖ मुश्किल से समझ में आता है।
3. ✖ समझने की जरूरत नहीं पड़ती।
4. ✔ अच्छी तरह समझ में आ जाता है।

Question Id : 16794318249 Question Type : COMPREHENSION Sub Question Shuffling Allowed : Yes Group Comprehension
Questions : No

Question Numbers : (81 to 85)

नीचे दिये गए गद्यांश को पढ़कर पूछे गये प्रश्नों के उत्तर दीजिए।

शुक्ल जी के निबंध गंभीर एक विचारपरक होते हैं। उनमें सूत्रबद्धता एवं व्यवस्थित केन्द्रोन्मुखता होती है। मनोविकारों की परिभाषा करना कठिन होता है। किंतु शुक्ल जी प्रायः निबंध का प्रारंभ परिभाषा से करते हैं। यहाँ उनका कोशकार रूप सामने आता है। वे कोई सूत्र एक वाक्य में प्रस्तुत कर देते हैं और फिर उसकी व्याख्या में प्रवृत्त होते हैं। व्याख्या करके वे आवश्यकतानुसार सामान्य जीवन-खंड से कोई दृष्टांत भी प्रस्तुत कर देते हैं। इससे निबंध का वह सूत्र हृदयंगम हो जाता है।

Sub questions

Question Number : 81 Question Id : 16794318250 Question Type : MCQ Option Shuffling : Yes Display Question Number : Yes
Single Line Question Option : No Option Orientation : Vertical

Correct Marks : 1 Wrong Marks : 0.25

शुक्ल जी के निबंधों की विशेषता नहीं है:

Options :

1. ✖ गंभीरता
2. ✖ विचारपरकता
3. ✔ व्यक्तिपरकता
4. ✖ सूत्रबद्धता

Question Number : 82 Question Id : 16794318251 Question Type : MCQ Option Shuffling : Yes Display Question Number : Yes
Single Line Question Option : No Option Orientation : Vertical

Correct Marks : 1 Wrong Marks : 0.25

शुक्ल जी निबंधों का प्रारम्भ प्रायः किससे करते हैं?

Options :

1. ✔ परिभाषा से
2. ✖ व्याख्या से
3. ✖ मंगलाचरण से
4. ✖ सिद्धांत स्थापना से

Question Number : 83 Question Id : 16794318252 Question Type : MCQ Option Shuffling : Yes Display Question Number : Yes
Single Line Question Option : No Option Orientation : Vertical

Correct Marks : 1 Wrong Marks : 0.25

‘कोशकार रूप’ का आशय है:

Options :

1. ✖ इतिहासकार
2. ✖ समाजशास्त्री
3. ✖ खजानची
4. ✔ शब्दकोशकार

Question Number : 84 Question Id : 16794318253 Question Type : MCQ Option Shuffling : Yes Display Question Number : Yes
Single Line Question Option : No Option Orientation : Vertical

Correct Marks : 1 Wrong Marks : 0.25

‘दृष्टांत’ का अर्थ है:

Options :

1. ✖ दृश्य
2. ✔ उदाहरण
3. ✖ व्याख्या
4. ✖ कथा

Question Number : 85 Question Id : 16794318254 Question Type : MCQ Option Shuffling : Yes Display Question Number : Yes
Single Line Question Option : No Option Orientation : Vertical

Correct Marks : 1 Wrong Marks : 0.25

‘हृदयंगम हो जाता है’ का अर्थ है:

Options :

1. ✖ नहीं समझ में आता।
2. ✖ मुश्किल से समझ में आता है।
3. ✖ समझने की जरूरत नहीं पड़ती।
4. ✔ अच्छी तरह समझ में आ जाता है।

Sub-Section Number: 2
Sub-Section Id: 1679431160
Question Shuffling Allowed : Yes

Question Number : 86 Question Id : 16794318255 Question Type : MCQ Option Shuffling : Yes Display Question Number : Yes
Single Line Question Option : No Option Orientation : Vertical
Correct Marks : 1 Wrong Marks : 0.25

निम्नलिखित में तत्सम शब्द कौन सा है?

Options :

1. ❌ नींद
2. ✔️ नयन
3. ❌ नीचा
4. ❌ निभाना

Question Number : 86 Question Id : 16794318255 Question Type : MCQ Option Shuffling : Yes Display Question Number : Yes
Single Line Question Option : No Option Orientation : Vertical
Correct Marks : 1 Wrong Marks : 0.25

निम्नलिखित में तत्सम शब्द कौन सा है?

Options :

1. ❌ नींद
2. ✔️ नयन
3. ❌ नीचा
4. ❌ निभाना

Question Number : 87 Question Id : 16794318256 Question Type : MCQ Option Shuffling : Yes Display Question Number : Yes
Single Line Question Option : No Option Orientation : Vertical
Correct Marks : 1 Wrong Marks : 0.25

निम्नलिखित में कौन सा शब्द तद्भव है?

Options :

1. ✔️ ढाई
2. ❌ दृष्टि
3. ❌ दाह

4. ✖ डाकिनी

Question Number : 87 Question Id : 16794318256 Question Type : MCQ Option Shuffling : Yes Display Question Number : Yes
Single Line Question Option : No Option Orientation : Vertical
Correct Marks : 1 Wrong Marks : 0.25

निम्नलिखित में कौन सा शब्द तद्भव है?

Options :

1. ✔ ढाई

2. ✖ दृष्टि

3. ✖ दाह

4. ✖ डाकिनी

Question Number : 88 Question Id : 16794318257 Question Type : MCQ Option Shuffling : Yes Display Question Number : Yes
Single Line Question Option : No Option Orientation : Vertical
Correct Marks : 1 Wrong Marks : 0.25

निम्नलिखित में कौन सा शब्द देशज है?

Options :

1. ✖ आबरू

2. ✖ अजब

3. ✔ चिड़िया

4. ✖ आर्डर

Question Number : 88 Question Id : 16794318257 Question Type : MCQ Option Shuffling : Yes Display Question Number : Yes
Single Line Question Option : No Option Orientation : Vertical
Correct Marks : 1 Wrong Marks : 0.25

निम्नलिखित में कौन सा शब्द देशज है?

Options :

1. ✖ आबरू

2. ✖ अजब

3. ✔ चिड़िया

4. ✖ आर्डर

Question Number : 89 Question Id : 16794318258 Question Type : MCQ Option Shuffling : Yes Display Question Number : Yes
Single Line Question Option : No Option Orientation : Vertical
Correct Marks : 1 Wrong Marks : 0.25

‘धीरज’ किस प्रकार की संज्ञा है?

Options :

- 1. ✖ व्यक्तिवाचक
- 2. ✖ जातिवाचक
- 3. ✖ पदार्थवाचक
- 4. ✔ भाववाचक

Question Number : 89 Question Id : 16794318258 Question Type : MCQ Option Shuffling : Yes Display Question Number : Yes
Single Line Question Option : No Option Orientation : Vertical
Correct Marks : 1 Wrong Marks : 0.25

‘धीरज’ किस प्रकार की संज्ञा है?

Options :

- 1. ✖ व्यक्तिवाचक
- 2. ✖ जातिवाचक
- 3. ✖ पदार्थवाचक
- 4. ✔ भाववाचक

Question Number : 90 Question Id : 16794318259 Question Type : MCQ Option Shuffling : Yes Display Question Number : Yes
Single Line Question Option : No Option Orientation : Vertical
Correct Marks : 1 Wrong Marks : 0.25

‘पुराना’ किस प्रकार का विशेषण है?

Options :

- 1. ✔ गुणवाचक
- 2. ✖ परिमाण बोधक
- 3. ✖ सार्वनामिक

4. ✖ संख्यावाचक

Question Number : 90 Question Id : 16794318259 Question Type : MCQ Option Shuffling : Yes Display Question Number : Yes
Single Line Question Option : No Option Orientation : Vertical
Correct Marks : 1 Wrong Marks : 0.25

‘पुराना’ किस प्रकार का विशेषण है?

Options :

1. ✔ गुणवाचक
2. ✖ परिमाण बोधक
3. ✖ सार्वनामिक
4. ✖ संख्यावाचक

Question Number : 91 Question Id : 16794318260 Question Type : MCQ Option Shuffling : Yes Display Question Number : Yes
Single Line Question Option : No Option Orientation : Vertical
Correct Marks : 1 Wrong Marks : 0.25

‘उच्चारण’ का संधि विच्छेद होगा:

Options :

1. ✖ उच् + रण
2. ✖ उच् + आरण
3. ✔ उत् + चारण
4. ✖ उत् + चरण

Question Number : 91 Question Id : 16794318260 Question Type : MCQ Option Shuffling : Yes Display Question Number : Yes
Single Line Question Option : No Option Orientation : Vertical
Correct Marks : 1 Wrong Marks : 0.25

‘उच्चारण’ का संधि विच्छेद होगा:

Options :

1. ✖ उच् + रण
2. ✖ उच् + आरण
3. ✔ उत् + चारण

4. ✖ उत् + चरण

Question Number : 92 Question Id : 16794318261 Question Type : MCQ Option Shuffling : Yes Display Question Number : Yes
Single Line Question Option : No Option Orientation : Vertical

Correct Marks : 1 Wrong Marks : 0.25

‘बेकाम’ में कौन सा समास है?

Options :

1. ✖ तत्पुरुष

2. ✔ अव्ययीभाव

3. ✖ द्वन्द्व

4. ✖ दविगु

Question Number : 92 Question Id : 16794318261 Question Type : MCQ Option Shuffling : Yes Display Question Number : Yes
Single Line Question Option : No Option Orientation : Vertical

Correct Marks : 1 Wrong Marks : 0.25

‘बेकाम’ में कौन सा समास है?

Options :

1. ✖ तत्पुरुष

2. ✔ अव्ययीभाव

3. ✖ द्वन्द्व

4. ✖ दविगु

Question Number : 93 Question Id : 16794318262 Question Type : MCQ Option Shuffling : Yes Display Question Number : Yes
Single Line Question Option : No Option Orientation : Vertical

Correct Marks : 1 Wrong Marks : 0.25

निम्नलिखित में से कौन सा शब्द स्त्रीलिंग है?

Options :

1. ✔ हड़ताल

2. ✖ हंस

3. ✖ हमला

4. ✖ हरण

Question Number : 93 Question Id : 16794318262 Question Type : MCQ Option Shuffling : Yes Display Question Number : Yes
Single Line Question Option : No Option Orientation : Vertical

Correct Marks : 1 Wrong Marks : 0.25

निम्नलिखित में से कौन सा शब्द स्त्रीलिंग है?

Options :

1. ✔ हड़ताल

2. ✖ हंस

3. ✖ हमला

4. ✖ हरण

Question Number : 94 Question Id : 16794318263 Question Type : MCQ Option Shuffling : Yes Display Question Number : Yes
Single Line Question Option : No Option Orientation : Vertical

Correct Marks : 1 Wrong Marks : 0.25

‘संग्रह’ में उपसर्ग है:

Options :

1. ✖ स

2. ✖ सन्

3. ✖ ह

4. ✔ सम्

Question Number : 94 Question Id : 16794318263 Question Type : MCQ Option Shuffling : Yes Display Question Number : Yes
Single Line Question Option : No Option Orientation : Vertical

Correct Marks : 1 Wrong Marks : 0.25

‘संग्रह’ में उपसर्ग है:

Options :

1. ✖ स

2. ✖ सन्

3. ✖ ह

4. ✔ सम्

Question Number : 95 Question Id : 16794318264 Question Type : MCQ Option Shuffling : Yes Display Question Number : Yes
Single Line Question Option : No Option Orientation : Vertical

Correct Marks : 1 Wrong Marks : 0.25

‘पौरुषेय’ में प्रत्यय है:

Options :

1. ✖ षेय

2. ✔ एय

3. ✖ अय

4. ✖ य

Question Number : 95 Question Id : 16794318264 Question Type : MCQ Option Shuffling : Yes Display Question Number : Yes
Single Line Question Option : No Option Orientation : Vertical

Correct Marks : 1 Wrong Marks : 0.25

‘पौरुषेय’ में प्रत्यय है:

Options :

1. ✖ षेय

2. ✔ एय

3. ✖ अय

4. ✖ य

Question Number : 96 Question Id : 16794318265 Question Type : MCQ Option Shuffling : Yes Display Question Number : Yes
Single Line Question Option : No Option Orientation : Vertical

Correct Marks : 1 Wrong Marks : 0.25

‘अश्व’ का पर्याय नहीं है:

Options :

1. ✖ हय

2. ✖ तुरंग

3. ✔ वारि

4. ✖ वाजि

Question Number : 96 Question Id : 16794318265 Question Type : MCQ Option Shuffling : Yes Display Question Number : Yes
Single Line Question Option : No Option Orientation : Vertical

Correct Marks : 1 Wrong Marks : 0.25

‘अश्व’ का पर्याय नहीं है:

Options :

1. ✖ हय
2. ✖ तुरंग
3. ✔ वारि
4. ✖ वाजि

Question Number : 97 Question Id : 16794318266 Question Type : MCQ Option Shuffling : Yes Display Question Number : Yes
Single Line Question Option : No Option Orientation : Vertical

Correct Marks : 1 Wrong Marks : 0.25

‘आगामी’ का विलोम होगा:

Options :

1. ✖ भावी
2. ✔ विगत
3. ✖ प्रगामी
4. ✖ आगत

Question Number : 97 Question Id : 16794318266 Question Type : MCQ Option Shuffling : Yes Display Question Number : Yes
Single Line Question Option : No Option Orientation : Vertical

Correct Marks : 1 Wrong Marks : 0.25

‘आगामी’ का विलोम होगा:

Options :

1. ✖ भावी
2. ✔ विगत
3. ✖ प्रगामी
4. ✖ आगत

Question Number : 98 Question Id : 16794318267 Question Type : MCQ Option Shuffling : Yes Display Question Number : Yes
Single Line Question Option : No Option Orientation : Vertical

Correct Marks : 1 Wrong Marks : 0.25

‘जिसमें विघ्न-बाधा न हो’ के लिए एक शब्द होगा:

Options :

1. ☒ अकंटक
2. ☐ कंटक
3. ☐ सरल
4. ☐ ऋजु

Question Number : 98 Question Id : 16794318267 Question Type : MCQ Option Shuffling : Yes Display Question Number : Yes
Single Line Question Option : No Option Orientation : Vertical

Correct Marks : 1 Wrong Marks : 0.25

‘जिसमें विघ्न-बाधा न हो’ के लिए एक शब्द होगा:

Options :

1. ☒ अकंटक
2. ☐ कंटक
3. ☐ सरल
4. ☐ ऋजु

Question Number : 99 Question Id : 16794318268 Question Type : MCQ Option Shuffling : Yes Display Question Number : Yes
Single Line Question Option : No Option Orientation : Vertical

Correct Marks : 1 Wrong Marks : 0.25

‘उसको नौकरी करने पड़ी।’ वाक्य में अशुद्ध अंश है:

Options :

1. ☐ उसको
2. ☐ नौकरी
3. ☒ करने
4. ☐ पड़ी।

Question Number : 99 Question Id : 16794318268 Question Type : MCQ Option Shuffling : Yes Display Question Number : Yes
Single Line Question Option : No Option Orientation : Vertical

Correct Marks : 1 Wrong Marks : 0.25

‘उसको नौकरी करने पड़ी।’ वाक्य में अशुद्ध अंश है:

Options :

1. ✖ उसको
2. ✖ नौकरी
3. ✔ करने
4. ✖ पड़ी।

Question Number : 100 Question Id : 16794318269 Question Type : MCQ Option Shuffling : Yes Display Question Number : Yes
Single Line Question Option : No Option Orientation : Vertical

Correct Marks : 1 Wrong Marks : 0.25

निम्नलिखित में वर्तनी की दृष्टि से कौन सा शब्द शुद्ध है?

Options :

1. ✖ निरिक्षक
2. ✖ नीरिक्षक
3. ✖ नीरीक्षक
4. ✔ निरीक्षक

Question Number : 100 Question Id : 16794318269 Question Type : MCQ Option Shuffling : Yes Display Question Number : Yes
Single Line Question Option : No Option Orientation : Vertical

Correct Marks : 1 Wrong Marks : 0.25

निम्नलिखित में वर्तनी की दृष्टि से कौन सा शब्द शुद्ध है?

Options :

1. ✖ निरिक्षक
2. ✖ नीरिक्षक
3. ✖ नीरीक्षक
4. ✔ निरीक्षक

Group Number :	6
Group Id :	167943679
Group Maximum Duration :	0
Group Minimum Duration :	0
Revisit allowed for view? :	No
Revisit allowed for edit? :	No
Break time:	0
Group Marks:	20
Revisit allowed for group Instructions? :	Yes
Maximum Instruction Time:	0
Minimum Instruction Time:	0





	Subject Related
Section Id :	167943744
Section Number :	1
Section type :	Online
Mandatory or Optional:	Mandatory
Number of Questions:	20
Number of Questions to be attempted:	20
Section Marks:	20
Display Number Panel:	Yes
Group All Questions:	No

Sub-Section Number:	1
Sub-Section Id:	1679431161
Question Shuffling Allowed :	Yes

Question Number : 101 Question Id : 16794318270 Question Type : MCQ Option Shuffling : Yes Display Question Number : Yes
Single Line Question Option : No Option Orientation : Vertical
Correct Marks : 1 Wrong Marks : 0.25

What does growth imply?

Options :

1.  Quantitative change
2.  Unfolding of individual's inherent traits
3.  Qualitative change
4.  Change in attitude and personality

Question Number : 101 Question Id : 16794318270 Question Type : MCQ Option Shuffling : Yes Display Question Number : Yes
Single Line Question Option : No Option Orientation : Vertical
Correct Marks : 1 Wrong Marks : 0.25

विकास क्या उपलक्षित करता है?

Options :

1. ✓ मात्रात्मक परिवर्तन
2. ✗ व्यक्ति के अंतर्निहित गुणों का प्रकटन
3. ✗ गुणात्मक परिवर्तन
4. ✗ व्यवहार और व्यक्तित्व में बदलाव

Question Number : 102 Question Id : 16794318271 Question Type : MCQ Option Shuffling : Yes Display Question Number : Yes
Single Line Question Option : No Option Orientation : Vertical

Correct Marks : 1 Wrong Marks : 0.25

What do you understand by Piaget's sensorimotor stage?

Options :

1. ✗ Children are able to use logic to solve problems
2. ✓ Children learn about the world through their senses
3. ✗ Children become more aware of external events
4. ✗ Children develop memory and imaginations

Question Number : 102 Question Id : 16794318271 Question Type : MCQ Option Shuffling : Yes Display Question Number : Yes
Single Line Question Option : No Option Orientation : Vertical

Correct Marks : 1 Wrong Marks : 0.25

आप पाइगेट के सेंसरीमोटर चरण से क्या समझते हैं?

Options :

1. ✗ बच्चे समस्याओं को हल करने के लिए तर्क का उपयोग करने में सक्षम हैं
2. ✓ बच्चे अपनी इंद्रियों के माध्यम से दुनिया के बारे में सीखते हैं
3. ✗ बच्चे बाहरी घटनाओं के बारे में अधिक जागरूक हो जाते हैं
4. ✗ बच्चे स्मृतियां और कल्पनाएं विकसित करते हैं

Question Number : 103 Question Id : 16794318272 Question Type : MCQ Option Shuffling : Yes Display Question Number : Yes
Single Line Question Option : No Option Orientation : Vertical

Correct Marks : 1 Wrong Marks : 0.25

How do children in the age group of 3 to 5 learn?

Options :

1. ✖ By experiencing the environment through senses
2. ✔ Through variety of experiences with larger focus on fine motor activities
3. ✖ Through verbal ability and develop concepts and problem skills
4. ✖ To pay attention and develop interest in reading, writing and arithmetic

Question Number : 103 Question Id : 16794318272 Question Type : MCQ Option Shuffling : Yes Display Question Number : Yes
Single Line Question Option : No Option Orientation : Vertical

Correct Marks : 1 Wrong Marks : 0.25

3 से 5 आयु वर्ग के बच्चे कैसे सीखते हैं?

Options :

1. ✖ इंद्रियों के माध्यम से पर्यावरण का अनुभव करके
2. ✔ बारीक मोटर कार्यकलापों पर अधिक ध्यान के साथ विभिन्न अनुभवों के माध्यम से
3. ✖ मौखिक क्षमता तथा अवधारणाओं और समस्या कौशलों के विकास के माध्यम से
4. ✖ पढ़ने, लेखन और अंकगणित में ध्यान देने और रुचि विकसित करने के माध्यम से

Question Number : 104 Question Id : 16794318273 Question Type : MCQ Option Shuffling : Yes Display Question Number : Yes
Single Line Question Option : No Option Orientation : Vertical

Correct Marks : 1 Wrong Marks : 0.25

Which set of needs are a child's first needs according to Maslow?

Options :

1. ✖ Intellectual needs
2. ✖ Social needs
3. ✔ Physiological needs
4. ✖ Emotional needs

Question Number : 104 Question Id : 16794318273 Question Type : MCQ Option Shuffling : Yes Display Question Number : Yes
Single Line Question Option : No Option Orientation : Vertical

Correct Marks : 1 Wrong Marks : 0.25

मैस्लो के अनुसार जरूरतों का कौन सा सेट बच्चे की पहली जरूरत है?

Options :

1. ✖ बौद्धिक जरूरत
2. ✖ सामाजिक जरूरत
3. ✔ शारीरिक जरूरत
4. ✖ भावनात्मक जरूरत

Question Number : 105 Question Id : 16794318274 Question Type : MCQ Option Shuffling : Yes Display Question Number : Yes
Single Line Question Option : No Option Orientation : Vertical

Correct Marks : 1 Wrong Marks : 0.25

Chomsky's language development theory helps the language teachers as he believes that:

Options :

1. ✔ Children are born with an inherited ability to learn any human language
2. ✖ Social learning theory in language acquisition
3. ✖
Language response is based on factors, which are reinforcement, stimulus control, deprivation and aversive stimulation
4. ✖ Language is learnt through operant conditioning

Question Number : 105 Question Id : 16794318274 Question Type : MCQ Option Shuffling : Yes Display Question Number : Yes
Single Line Question Option : No Option Orientation : Vertical

Correct Marks : 1 Wrong Marks : 0.25

चॉम्स्की का भाषा विकास सिद्धांत भाषा शिक्षकों की सहायता करता है क्योंकि उनका मानना है कि:

Options :

1. ✔ बच्चे कोई भी मानव भाषा सीखने की अंतर्निहित क्षमता के साथ पैदा होते हैं।
2. ✖ भाषा अभिग्रहण में सामाजिक शिक्षण सिद्धांत।
3. ✖
भाषा प्रतिक्रिया कारकों पर आधारित है, जो प्रबलन, उत्प्रेरण नियंत्रण, वंचन और निवारक प्रेरण हैं।
4. ✖ भाषा सक्रिय अनकूलन के माध्यम से सीखी जाती है।

Question Number : 106 Question Id : 16794318275 Question Type : MCQ Option Shuffling : Yes Display Question Number : Yes
Single Line Question Option : No Option Orientation : Vertical

Correct Marks : 1 Wrong Marks : 0.25

What are the major characteristics and developmental changes from birth to 2 years of age?

Options :

1. ✖

Children begin using inductive logic or reasoning from specific information to a general principle.

2. ✖

Children begin to use deductive logic or reasoning from a general principle to specific information.

3. ✖

Children at this stage tend to be egocentric and struggle to see things from the perspective of others

4. ✔

Children learn about the world through basic actions such as suckling, grasping, looking and listening.

Question Number : 106 Question Id : 16794318275 Question Type : MCQ Option Shuffling : Yes Display Question Number : Yes
Single Line Question Option : No Option Orientation : Vertical

Correct Marks : 1 Wrong Marks : 0.25

जन्म से 2 साल की उम्र तक प्रमुख विशेषताएं और विकासात्मक परिवर्तन क्या हैं?

Options :

1. ✖

बच्चे विशिष्ट जानकारी से सामान्य सिद्धांत में आगमिक तर्क या तर्कणा का उपयोग करना शुरू करते हैं।

2. ✖

बच्चे सामान्य सिद्धांत से विशिष्ट जानकारी में निगमनिक तर्क या तर्कणा का उपयोग करना शुरू करते हैं।

3. ✖

इस अवस्था में बच्चे आत्मकेंद्रित हो जाते हैं और दूसरों के परिप्रेक्ष्य से चीजें देखने के लिए संघर्ष करते हैं।

4. ✔

बच्चे मूलभूत कार्यों जैसे चूसने, पकड़ने, देखने और सुनने के माध्यम से दुनिया के बारे में सीखते हैं।

Question Number : 107 Question Id : 16794318276 Question Type : MCQ Option Shuffling : Yes Display Question Number : Yes
Single Line Question Option : No Option Orientation : Vertical

Correct Marks : 1 Wrong Marks : 0.25

What does accommodation mean?

Options :

1. ✖

It is important to maintain a balance between applying previous knowledge and changing behaviour to account for new knowledge.

2. ✖

The process is somewhat subjective because we tend to modify experiences and information slightly to fit in with our pre-existing beliefs.

3. ✔

It involves modifying existing schemas, or ideas, as a result of new information or new experiences.

4. ✖

The process of taking in new information into our already existing schemas is known as assimilation.

Question Number : 107 Question Id : 16794318276 Question Type : MCQ Option Shuffling : Yes Display Question Number : Yes
Single Line Question Option : No Option Orientation : Vertical

Correct Marks : 1 Wrong Marks : 0.25

समायोजन/अनुकूलन का क्या अर्थ है?

Options :

1. ✖

नए ज्ञान के लिए पिछले ज्ञान और बदलते व्यवहार को लागू करने के बीच संतुलन बनाए रखना महत्वपूर्ण है।

2. ✖

प्रक्रिया कुछ हद तक व्यक्तिपरक है क्योंकि हम अपने पहले से विद्यमान मान्यताओं के साथ तालमेल बिठाने के लिए अनुभवों और जानकारी को थोड़ा संशोधित करते हैं।

3. ✔

इसमें नई जानकारी या नए अनुभवों के परिणामस्वरूप मौजूदा योजनाओं या विचारों को संशोधित करना शामिल है।

4. ✖

हमारे पहले से मौजूद योजनाओं में नई जानकारी लेने की प्रक्रिया को स्वांगीकरण के रूप में जाना जाता है।

Question Number : 108 Question Id : 16794318277 Question Type : MCQ Option Shuffling : Yes Display Question Number : Yes
Single Line Question Option : No Option Orientation : Vertical

Correct Marks : 1 Wrong Marks : 0.25

What are the Havighurst's Developmental Tasks during the life span for late childhood?

Options :

1. ✔

Learning physical skills, getting wholesome attitude towards self, learning to get along with age mates

2. ✖

Achieving new and mature relations, achieving masculine and feminine social roles, accepting one's physique

3. ✖

Getting started in an occupation, starting a family, managing home, taking civic responsibility

4. ✖

Learning to take solid food, learning to talk and walk, and learning to control the elimination of body wastes

Question Number : 108 Question Id : 16794318277 Question Type : MCQ Option Shuffling : Yes Display Question Number : Yes
Single Line Question Option : No Option Orientation : Vertical

Correct Marks : 1 Wrong Marks : 0.25

देर तक बचपन के लिए जीवन काल के दौरान हैविघस्ट के विकासात्मक कार्य क्या हैं?

Options :

1. ✓

शारीरिक कौशल सीखना, स्वयं के प्रति अच्छे दृष्टिकोण प्राप्त करना, हमउम्रों के साथ मिलना-जुलना सीखना।

2. ✖

नए और परिपक्व संबंधों को प्राप्त करना, नर और नारी-सुलभ सामाजिक भूमिकाएं प्राप्त करना, किसी के शरीर-गठन को स्वीकार करना।

3. ✖

व्यवसाय शुरू करना, परिवार शुरू करना, घर का प्रबंधन करना, नागरिक जिम्मेदारी लेना।

4. ✖

ठोस भोजन लेना सीखना, बात करना और चलना सीखना और शरीर के अवशिष्ट के विलोपन को नियंत्रित करना सीखना।

Question Number : 109 Question Id : 16794318278 Question Type : MCQ Option Shuffling : Yes Display Question Number : Yes
Single Line Question Option : No Option Orientation : Vertical

Correct Marks : 1 Wrong Marks : 0.25

When does learning start?

Options :

1. ✖ When an individual interacts in school
2. ✓ When an individual interacts at home
3. ✖ When an individual reads books
4. ✖ When an individual interacts with the members of the society

Question Number : 109 Question Id : 16794318278 Question Type : MCQ Option Shuffling : Yes Display Question Number : Yes
Single Line Question Option : No Option Orientation : Vertical

Correct Marks : 1 Wrong Marks : 0.25

सीखना कब शुरू होता है?

Options :

1. ✖ जब कोई व्यक्ति स्कूल में बातचीत करता है।
2. ✓ जब कोई व्यक्ति घर पर बातचीत करता है।
3. ✖ जब कोई व्यक्ति किताबें पढ़ता है।
4. ✖ जब कोई व्यक्ति समाज के सदस्यों के साथ बातचीत करता है।

Question Number : 110 Question Id : 16794318279 Question Type : MCQ Option Shuffling : Yes Display Question Number : Yes
Single Line Question Option : No Option Orientation : Vertical

Correct Marks : 1 Wrong Marks : 0.25

What is meant by "learning is both individual and social"?

Options :

1. ✖ Learning is both physical and mental development of the learner
2. ✖ Learning is through experience, which provides knowledge, understanding and skills
3. ✖ Learning implies self-activity, which needs motivation
4. ✔ Learning is the process where individual mind is consciously or unconsciously affected by the group activities

Question Number : 110 Question Id : 16794318279 Question Type : MCQ Option Shuffling : Yes Display Question Number : Yes
Single Line Question Option : No Option Orientation : Vertical

Correct Marks : 1 Wrong Marks : 0.25

"सीखना व्यक्तिगत और सामाजिक दोनों है" का क्या अर्थ है?

Options :

1. ✖ सीखना नौसिखिये का शारीरिक और मानसिक दोनों विकास है।
2. ✖ सीखना अनुभव के माध्यम से है, जो ज्ञान, समझ और कौशल प्रदान करता है।
3. ✖ सीखने में आत्म-गतिविधि निहित है, जिसके लिए प्रेरणा की आवश्यकता होती है।
4. ✔ सीखना वह प्रक्रिया है जहां वैयक्तिक मस्तिष्क समूह गतिविधियों से चेतन या अचेतन रूप में प्रभावित होता है।

Question Number : 111 Question Id : 16794318280 Question Type : MCQ Option Shuffling : Yes Display Question Number : Yes
Single Line Question Option : No Option Orientation : Vertical

Correct Marks : 1 Wrong Marks : 0.25

What did Dr. Benjamin Bloom want to promote?

Options :

1. ✖ Appropriate attitude
2. ✔ Higher form of thinking
3. ✖ Intelligence
4. ✖ Development of behaviour

Question Number : 111 Question Id : 16794318280 Question Type : MCQ Option Shuffling : Yes Display Question Number : Yes
Single Line Question Option : No Option Orientation : Vertical

Correct Marks : 1 Wrong Marks : 0.25

डॉ बेंजामिन ब्लूम किस चीज को बढ़ावा देना चाहते थे?

Options :

1. ✖ उपयुक्त दृष्टिकोण
2. ✔ उच्च प्रकार का चिंतन
3. ✖ बुद्धि
4. ✖ व्यवहार का विकास

Question Number : 112 Question Id : 16794318281 Question Type : MCQ Option Shuffling : Yes Display Question Number : Yes
Single Line Question Option : No Option Orientation : Vertical

Correct Marks : 1 Wrong Marks : 0.25

What does affective domain involve?

Options :

1. ✖ Mental skills
2. ✖ Physical growth
3. ✖ Manual or physical skills
4. ✔ Growth in feelings or emotional areas

Question Number : 112 Question Id : 16794318281 Question Type : MCQ Option Shuffling : Yes Display Question Number : Yes
Single Line Question Option : No Option Orientation : Vertical

Correct Marks : 1 Wrong Marks : 0.25

भावात्मक क्षेत्र (डोमेन) में क्या शामिल है?

Options :

1. ✖ मानसिक कौशल
2. ✖ शारीरिक विकास
3. ✖ हस्त्य या शारीरिक कौशल
4. ✔ भावनाओं या भावात्मक क्षेत्रों में वृद्धि

Question Number : 113 Question Id : 16794318282 Question Type : MCQ Option Shuffling : Yes Display Question Number : Yes
Single Line Question Option : No Option Orientation : Vertical

Correct Marks : 1 Wrong Marks : 0.25

What do you understand by remembrance in cognitive domain?

Options :

1. ✖ Comprehending the meaning, translation, interpolation and interpretation
2. ✖ Using a concept in a new situation or unprompted use of an abstraction
3. ✔ Recalling or retrieving previous learned information
4. ✖ Making judgments about the value of ideas or materials

Question Number : 113 Question Id : 16794318282 Question Type : MCQ Option Shuffling : Yes Display Question Number : Yes
Single Line Question Option : No Option Orientation : Vertical

Correct Marks : 1 Wrong Marks : 0.25

संज्ञानात्मक क्षेत्र (डोमेन) में स्मरण से आप क्या समझते हैं?

Options :

1. ✖ अर्थ, अनुवाद, क्षेपक और व्याख्या को समझना।
2. ✖ एक नई स्थिति में या तन्यमता के अनुत्तेजित उपयोग में अवधारणा का उपयोग करना।
3. ✔ पहले सीखी गई जानकारी को स्मरण करना या पुनः प्राप्त करना।
4. ✖ विचारों या सामग्रियों के मूल्य के बारे में निर्णय लेना।

Question Number : 114 Question Id : 16794318283 Question Type : MCQ Option Shuffling : Yes Display Question Number : Yes
Single Line Question Option : No Option Orientation : Vertical

Correct Marks : 1 Wrong Marks : 0.25

Which category do these examples belong to:

Select the most effective solution, hire the most qualified candidate, explain and justify a new budget?

Options :

1. ✔ Evaluating
2. ✖ Applying
3. ✖ Analysing
4. ✖ Creating

Question Number : 114 Question Id : 16794318283 Question Type : MCQ Option Shuffling : Yes Display Question Number : Yes
Single Line Question Option : No Option Orientation : Vertical

Correct Marks : 1 Wrong Marks : 0.25

ये उदाहरण किस श्रेणी से संबंधित हैं:

सर्वाधिक प्रभावी समाधान चुनने, सबसे योग्य उम्मीदवार को सेवा में रखें, नये बजट को स्पष्ट करें और न्यायोचित सिद्ध करें?

Options :

1. ☒ मूल्यांकन
2. ☐ अनुप्रयोग
3. ☐ विश्लेषण
4. ☐ सृजन

Question Number : 115 Question Id : 16794318284 Question Type : MCQ Option Shuffling : Yes Display Question Number : Yes
Single Line Question Option : No Option Orientation : Vertical

Correct Marks : 1 Wrong Marks : 0.25

Which is the feature of socialisation?

Options :

1. ☐ Knowledge or skills acquired by instruction or study alone
2. ☐ Inculcating basic discipline
3. ☒ The characteristics and knowledge of a particular group of people
4. ☐ Behaving in a deviant manner

Question Number : 115 Question Id : 16794318284 Question Type : MCQ Option Shuffling : Yes Display Question Number : Yes
Single Line Question Option : No Option Orientation : Vertical

Correct Marks : 1 Wrong Marks : 0.25

समाजीकरण की विशेषता कौन-सी है?

Options :

1. ☐ अकेले निर्देश या अध्ययन द्वारा प्राप्त ज्ञान या कौशल
2. ☐ बुनियादी अनुशासन मन में बैठाना
3. ☒ एक विशिष्ट वर्ग के लोगों की विशेषताएं और ज्ञान

4. ✖ असामान्य तरीके से व्यवहार करना

Question Number : 116 Question Id : 16794318285 Question Type : MCQ Option Shuffling : Yes Display Question Number : Yes
Single Line Question Option : No Option Orientation : Vertical

Correct Marks : 1 Wrong Marks : 0.25

What is the explanation Jean Piaget gave for socialisation?

Options :

1. ✖

He believed that people learn the cultural values and norms that make up a part of the personality, which he called superego

2. ✖

He believed in the important reaction of others to the developing self-concept, which he called as 'looking-glass self'

3. ✖

He believed that an individual's social experience was a primary determinant of individual identity, which he called as 'the self'

4. ✔

He believed that human development is the result of both biological maturation and increasing social experience

Question Number : 116 Question Id : 16794318285 Question Type : MCQ Option Shuffling : Yes Display Question Number : Yes
Single Line Question Option : No Option Orientation : Vertical

Correct Marks : 1 Wrong Marks : 0.25

जीन पिआगेट ने समाजीकरण के लिए क्या स्पष्टीकरण दिया है?

Options :

1. ✖

उनका मानना था कि लोग सांस्कृतिक मूल्यों और मानदंडों को सीखते हैं जो व्यक्तित्व का एक हिस्सा बनते हैं, जिसे उन्होंने पराहम् कहा।

2. ✖

उन्होंने आत्म-अवधारणा विकसित करने के लिए दूसरों की महत्वपूर्ण प्रतिक्रिया में विश्वास किया, जिसे उन्होंने 'आत्मावलोकन दर्पण' कहा।

3. ✖

उनका मानना था कि एक व्यक्ति का सामाजिक अनुभव व्यक्तिगत पहचान का प्राथमिक निर्धारक था, जिसे उन्होंने 'स्वयं' कहा।

4. ✔

उनका मानना था कि मानव विकास दोनों जैविक परिपक्वता और बढ़ते सामाजिक अनुभव का परिणाम है।

Question Number : 117 Question Id : 16794318286 Question Type : MCQ Option Shuffling : Yes Display Question Number : Yes
Single Line Question Option : No Option Orientation : Vertical

Correct Marks : 1 Wrong Marks : 0.25

What does language enable?

Options :

1. ✖ To have a normal physical growth of human beings

2. ✖ Biological evolution of human beings
3. ✔ To transmit culture not only to the present, but also from past to future generations
4. ✖ To develop diverse or different ways of life

Question Number : 117 Question Id : 16794318286 Question Type : MCQ Option Shuffling : Yes Display Question Number : Yes
 Single Line Question Option : No Option Orientation : Vertical
 Correct Marks : 1 Wrong Marks : 0.25

भाषा क्या सक्षम करती है?

Options :

1. ✖ मनुष्यों का सामान्य शारीरिक विकास
2. ✖ मनुष्यों का जैविक क्रमिक विकास
3. ✔ न केवल वर्तमान में, बल्कि अतीत से भविष्य की पीढ़ियों तक संस्कृति को संचारित करना
4. ✖ जीवन के विविध या विभिन्न तरीकों को विकसित करना

Question Number : 118 Question Id : 16794318287 Question Type : MCQ Option Shuffling : Yes Display Question Number : Yes
 Single Line Question Option : No Option Orientation : Vertical
 Correct Marks : 1 Wrong Marks : 0.25

What is the meaning of Anticipatory Socialisation?

Options :

1. ✔ The process by which men learn the culture of a group with the hope of joining the group
2. ✖ Socialisation of the infant in the primary or earliest years of his/her life
3. ✖ Process of discarding former behaviour patterns and accepting new ones as a part of transition in one's life
4. ✖ During growth stage, a child learns very important lesson in social conduct from his peers

Question Number : 118 Question Id : 16794318287 Question Type : MCQ Option Shuffling : Yes Display Question Number : Yes
 Single Line Question Option : No Option Orientation : Vertical
 Correct Marks : 1 Wrong Marks : 0.25

प्रत्याशित समाजीकरण का क्या अर्थ है?

Options :

1. ✓

प्रक्रिया जिसके द्वारा मनुष्य समूह में शामिल होने की प्रत्याशा से समूह की संस्कृति सीखते हैं

2. ✗

जीवन के प्राथमिक या शुरुआती वर्षों में शिशु का समाजीकरण

3. ✗

पूर्व व्यवहारिक स्वरूप को हटाने और व्यक्ति के जीवन में परिवर्तन के एक हिस्से के रूप में नए लोगों को स्वीकार करने की प्रक्रिया

4. ✗

विकास के चरण के दौरान, एक बच्चा अपने समकक्षों से सामाजिक आचरण में बहुत महत्वपूर्ण पाठ सीखता है

Question Number : 119 Question Id : 16794318288 Question Type : MCQ Option Shuffling : Yes Display Question Number : Yes
Single Line Question Option : No Option Orientation : Vertical

Correct Marks : 1 Wrong Marks : 0.25

What is the primary setting for nurturing children?

Options :

1. ✗

School

2. ✓

Family

3. ✗

Society

4. ✗

Community

Question Number : 119 Question Id : 16794318288 Question Type : MCQ Option Shuffling : Yes Display Question Number : Yes
Single Line Question Option : No Option Orientation : Vertical

Correct Marks : 1 Wrong Marks : 0.25

बच्चों को संपोषित करने के लिए प्राथमिक प्रतिवेश क्या है?

Options :

1. ✗

स्कूल

2. ✓

परिवार

3. ✗

समाज

4. ✗

समुदाय

Question Number : 120 Question Id : 16794318289 Question Type : MCQ Option Shuffling : Yes Display Question Number : Yes
Single Line Question Option : No Option Orientation : Vertical

Correct Marks : 1 Wrong Marks : 0.25

What do you mean by 'the knowledge children learn is culturally determined'?

Options :

1. ✖ Children learn through traditions and customs

2. ✖ Religion plays an important part in cultural learning

3. ✖ Moral classes are taken where the children are exposed to culture

4. ✔

Cultural institutions such as the home, school, media, sports and arts are responsible for this teaching

Question Number : 120 Question Id : 16794318289 Question Type : MCQ Option Shuffling : Yes Display Question Number : Yes
Single Line Question Option : No Option Orientation : Vertical

Correct Marks : 1 Wrong Marks : 0.25

'ज्ञानी बच्चे सांस्कृतिक रूप से दृढ़-संकल्प होते हैं' से आपका क्या समझते हैं?

Options :

1. ✖ बच्चे पराम्पराओं तथा रीति-रिवाजों से सीखते हैं।

2. ✖ सांस्कृतिक शिक्षण में धर्म एक महत्वपूर्ण भूमिका निभाता है।

3. ✖ जहां बच्चे संस्कृति के संपर्क में आते हैं वहां नैतिक कक्षाएं लगाई जाती हैं।

4. ✔

इस शिक्षण के लिए घर, स्कूल, मीडिया, खेल और कला जैसे सांस्कृतिक संस्थान जिम्मेदार हैं।

Subject Related

Group Number :	7
Group Id :	167943680
Group Maximum Duration :	0
Group Minimum Duration :	0
Revisit allowed for view? :	No
Revisit allowed for edit? :	No
Break time:	0
Group Marks:	20
Revisit allowed for group Instructions? :	Yes
Maximum Instruction Time:	0
Minimum Instruction Time:	0

Subject Related

Section Id :

167943745

Section Number :	1
Section type :	Online
Mandatory or Optional:	Mandatory
Number of Questions:	20
Number of Questions to be attempted:	20
Section Marks:	20
Display Number Panel:	Yes
Group All Questions:	No

Sub-Section Number:	1
Sub-Section Id:	1679431162
Question Shuffling Allowed :	Yes

Question Number : 121 Question Id : 16794318290 Question Type : MCQ Option Shuffling : Yes Display Question Number : Yes
 Single Line Question Option : No Option Orientation : Vertical
 Correct Marks : 1 Wrong Marks : 0.25

What is the meaning of "Guarantee the child's physical well-being"?

Options :

1. ✖ Interaction, stimulation and play
2. ✖ Providing emotional security, socialisation, nurturing and giving affection
3. ✔
Keeping the child safe and free from harm, providing shelter and clothing, preventing and attending to illness
4. ✖ Interaction within the community, at health clinics, at school

Question Number : 121 Question Id : 16794318290 Question Type : MCQ Option Shuffling : Yes Display Question Number : Yes
 Single Line Question Option : No Option Orientation : Vertical
 Correct Marks : 1 Wrong Marks : 0.25

"बच्चे के शारीरिक कल्याण की गारंटी" का क्या अर्थ है?

Options :

1. ✖ परस्पर-संवाद, प्रेरण और खेलना।
2. ✖ भावनात्मक सुरक्षा, समाजीकरण, पोषण और स्नेह प्रदान करना।
3. ✔
बच्चे को सुरक्षित और नुकसान से मुक्त रखना, आश्रय और कपड़े प्रदान करना, बीमारी से बचाव करना और देखभाल करना।
4. ✖ समुदाय के अंदर, स्कूल में, स्वास्थ्य क्लीनिक में बातचीत।

Question Number : 122 Question Id : 16794318291 Question Type : MCQ Option Shuffling : Yes Display Question Number : Yes
Single Line Question Option : No Option Orientation : Vertical

Correct Marks : 1 Wrong Marks : 0.25

Explain the socialisation at the elementary-level school.

Options :

1. ☒

Teacher makes the children learn good habits, civic responsibility and how to mingle with the society

2. ☐ Teacher encourages the children to listen to lectures on religious values

3. ☐

Children learn the skills that help them in the future to actively participate in co-curricular activities

4. ☐ No strict rules to learn, but education is learnt by the way of playing

Question Number : 122 Question Id : 16794318291 Question Type : MCQ Option Shuffling : Yes Display Question Number : Yes
Single Line Question Option : No Option Orientation : Vertical

Correct Marks : 1 Wrong Marks : 0.25

प्राथमिक स्तर के स्कूल में समाजीकरण की व्याख्या करें।

Options :

1. ☒

शिक्षक बच्चों को अच्छी आदतें, नागरिक जिम्मेदारी और समाज के साथ मिलना-जुलना सीखाता है।

2. ☐ शिक्षक बच्चों को धार्मिक मूल्यों पर व्याख्यान सुनने के लिए प्रोत्साहित करता है।

3. ☐

बच्चे ऐसे कौशल सीखते हैं जो भविष्य में सह-पाठ्यचर्या गतिविधियों में सक्रिय रूप से भाग लेने में उनकी मदद करते हैं।

4. ☐ सीखने के लिए कोई सख्त नियम नहीं है, लेकिन शिक्षा खेल के माध्यम से सीखी जाती है।

Question Number : 123 Question Id : 16794318292 Question Type : MCQ Option Shuffling : Yes Display Question Number : Yes
Single Line Question Option : No Option Orientation : Vertical

Correct Marks : 1 Wrong Marks : 0.25

The equal word in Latin for the word is

Note: For this question, discrepancy is found in question/answer. So, this question is ignored for all candidates.

Options :

1. Educatum

2. Educare

3. Education

4. Educere

Question Number : 123 Question Id : 16794318292 Question Type : MCQ Option Shuffling : Yes Display Question Number : Yes
Single Line Question Option : No Option Orientation : Vertical

Correct Marks : 1 Wrong Marks : 0.25

निम्नलिखित शब्द के लिए लेटिन में समतुल्य शब्द है:

Note: For this question, discrepancy is found in question/answer. So, this question is ignored for all candidates.

Options :

1. एड्यूकेटम (Educatum)

2. एड्यूकेयर (Educare)

3. एड्यूकेशन (Education)

4. एड्यूसीयर (Educere)

Question Number : 124 Question Id : 16794318293 Question Type : MCQ Option Shuffling : Yes Display Question Number : Yes
Single Line Question Option : No Option Orientation : Vertical

Correct Marks : 1 Wrong Marks : 0.25

'Learning through correspondence' is which mode of education?

Options :

1. ✖ Informal education

2. ✔ Non-formal education

3. ✖ Lifelong education

4. ✖ Formal education

Question Number : 124 Question Id : 16794318293 Question Type : MCQ Option Shuffling : Yes Display Question Number : Yes
Single Line Question Option : No Option Orientation : Vertical

Correct Marks : 1 Wrong Marks : 0.25

'पत्राचार के माध्यम से शिक्षण' शिक्षा का कौन सा तरीका है?

Options :

1. ✖ अनौपचारिक शिक्षा

2. ✓ गैर-औपचारिक शिक्षा

3. ✗ जीवन पर्यंत शिक्षा

4. ✗ औपचारिक शिक्षा

Question Number : 125 Question Id : 16794318294 Question Type : MCQ Option Shuffling : Yes Display Question Number : Yes
Single Line Question Option : No Option Orientation : Vertical

Correct Marks : 1 Wrong Marks : 0.25

Gender diversity means:

Options :

1. ✓ Equitable ratio of men and women

2. ✗ Equitable ratio of employed men and women

3. ✗ Equitable ratio of population

4. ✗ Equitable ratio of educated women and men

Question Number : 125 Question Id : 16794318294 Question Type : MCQ Option Shuffling : Yes Display Question Number : Yes
Single Line Question Option : No Option Orientation : Vertical

Correct Marks : 1 Wrong Marks : 0.25

लिंग विविधता का अर्थ है:

Options :

1. ✓ पुरुषों और महिलाओं का साम्य अनुपात

2. ✗ रोजगार में लगे पुरुषों और महिलाओं का साम्य अनुपात

3. ✗ जनसंख्या का साम्य अनुपात

4. ✗ शिक्षित महिलाओं और पुरुषों का साम्य अनुपात

Question Number : 126 Question Id : 16794318295 Question Type : MCQ Option Shuffling : Yes Display Question Number : Yes
Single Line Question Option : No Option Orientation : Vertical

Correct Marks : 1 Wrong Marks : 0.25

What is the full form of IEP?

Options :

1. ✓ Individualised Educational Plan

2. ✖ Instructional Educational Plan

3. ✖ Individualised Engage Plan

4. ✖ Indian Educational Plan

Question Number : 126 Question Id : 16794318295 Question Type : MCQ Option Shuffling : Yes Display Question Number : Yes
Single Line Question Option : No Option Orientation : Vertical

Correct Marks : 1 Wrong Marks : 0.25

आईईपी (IEP) का पूर्ण रूप क्या है?

Options :

1. ✔ इंडिविडुअलाइज़्ड एजुकेशनल प्लान (Individualised Educational Plan)

2. ✖ इंस्ट्रक्शनल एजुकेशनल प्लान (Instructional Educational Plan)

3. ✖ इंडिविडुअलाइज़्ड इंगेज प्लान (Individualised Engage Plan)

4. ✖ इंडियन एजुकेशनल प्लान (Indian Educational Plan)

Question Number : 127 Question Id : 16794318296 Question Type : MCQ Option Shuffling : Yes Display Question Number : Yes
Single Line Question Option : No Option Orientation : Vertical

Correct Marks : 1 Wrong Marks : 0.25

If a student is unable to walk and talk properly, this is referred to as:

Options :

1. ✖ Learning disability

2. ✔ Locomotor disability

3. ✖ Mental disability

4. ✖ Walking disability

Question Number : 127 Question Id : 16794318296 Question Type : MCQ Option Shuffling : Yes Display Question Number : Yes
Single Line Question Option : No Option Orientation : Vertical

Correct Marks : 1 Wrong Marks : 0.25

यदि कोई छात्र ठीक से चलने और बात करने में असमर्थ है, तो इसे इस प्रकार संदर्भित किया जाता है:

Options :

1. ✖ शिक्षण अशक्तता

2. ✓ लोकोमोटर अशक्तता

3. ✗ मानसिक अशक्तता

4. ✗ चलन अशक्तता

Question Number : 128 Question Id : 16794318297 Question Type : MCQ Option Shuffling : Yes Display Question Number : Yes
Single Line Question Option : No Option Orientation : Vertical

Correct Marks : 1 Wrong Marks : 0.25

An inclusive education system provides children with a fair chance to:

Options :

1. ✗ Play

2. ✗ Work

3. ✗ Enjoy

4. ✓ Learn

Question Number : 128 Question Id : 16794318297 Question Type : MCQ Option Shuffling : Yes Display Question Number : Yes
Single Line Question Option : No Option Orientation : Vertical

Correct Marks : 1 Wrong Marks : 0.25

एक समावेशी शिक्षा प्रणाली बच्चों को _____ का उचित अवसर प्रदान करती है:

Options :

1. ✗ खेलने

2. ✗ कार्य करने

3. ✗ आनंद उठाने

4. ✓ सीखने

Question Number : 129 Question Id : 16794318298 Question Type : MCQ Option Shuffling : Yes Display Question Number : Yes
Single Line Question Option : No Option Orientation : Vertical

Correct Marks : 1 Wrong Marks : 0.25

What is the important educational objective of NPE-1986?

Options :

1. ✗ Universal retention

2. ✓ Universal access and enrolment

3. ✖ Universal primary education

4. ✖ Universal education

Question Number : 129 Question Id : 16794318298 Question Type : MCQ Option Shuffling : Yes Display Question Number : Yes
Single Line Question Option : No Option Orientation : Vertical

Correct Marks : 1 Wrong Marks : 0.25

एनपीई -1986 का महत्वपूर्ण शैक्षिक उद्देश्य क्या है?

Options :

1. ✖ सार्वभौमिक प्रतिधारण

2. ✔ सार्वभौमिक पहुंच और नामांकन

3. ✖ सार्वभौमिक प्राथमिक शिक्षा

4. ✖ सार्वभौमिक शिक्षा

Question Number : 130 Question Id : 16794318299 Question Type : MCQ Option Shuffling : Yes Display Question Number : Yes
Single Line Question Option : No Option Orientation : Vertical

Correct Marks : 1 Wrong Marks : 0.25

Ruby has hearing impairment and all the students in her school have various such difficulties and disabilities. What do you call such type of schools?

Options :

1. ✖ Inclusive schools

2. ✖ Government schools

3. ✔ Special schools

4. ✖ Private schools

Question Number : 130 Question Id : 16794318299 Question Type : MCQ Option Shuffling : Yes Display Question Number : Yes
Single Line Question Option : No Option Orientation : Vertical

Correct Marks : 1 Wrong Marks : 0.25

रूबी को श्रवण अशक्तता है और उसके स्कूल के सभी छात्रों में ऐसी कई कठिनाइयों और विकलांगताएं हैं। आप इस तरह के स्कूलों को क्या कहते हैं?

Options :

1. ✖ समावेशी स्कूल

2. ✖ सरकारी स्कूल

3. ✔ विशेष स्कूल

4. ✖ निजी स्कूल

Question Number : 131 Question Id : 16794318300 Question Type : MCQ Option Shuffling : Yes Display Question Number : Yes
Single Line Question Option : No Option Orientation : Vertical

Correct Marks : 1 Wrong Marks : 0.25

What is the full form of NIOS?

Options :

1. ✖ National Indian Open Schooling

2. ✖ Native Indian Open School

3. ✖ National Institute of Open Shelf

4. ✔ National Institute of Open Schooling

Question Number : 131 Question Id : 16794318300 Question Type : MCQ Option Shuffling : Yes Display Question Number : Yes
Single Line Question Option : No Option Orientation : Vertical

Correct Marks : 1 Wrong Marks : 0.25

NIOS का पूर्ण रूप क्या है?

Options :

1. ✖ National Indian Open Schooling (नेशनल इंडियन ओपन स्कूलिंग)

2. ✖ Native Indian Open School (नेटिव इंडियन ओपन स्कूल)

3. ✖ National Institute of Open Shelf (नेशनल इंस्टीट्यूट ऑफ ओपन शेल्फ)

4. ✔ National Institute of Open Schooling (नेशनल इंस्टीट्यूट ऑफ ओपन स्कूलिंग)

Question Number : 132 Question Id : 16794318301 Question Type : MCQ Option Shuffling : Yes Display Question Number : Yes
Single Line Question Option : No Option Orientation : Vertical

Correct Marks : 1 Wrong Marks : 0.25

Special educational needs with reading is termed as:

Options :

1. ✓ Dyslexia
2. ✗ Dyscalculia
3. ✗ Dysgraphia
4. ✗ Dyspraxia

Question Number : 132 Question Id : 16794318301 Question Type : MCQ Option Shuffling : Yes Display Question Number : Yes
Single Line Question Option : No Option Orientation : Vertical

Correct Marks : 1 Wrong Marks : 0.25

पठन के साथ विशेष शैक्षिक जरूरतों को _____ कहा जाता है:

Options :

1. ✓ डिस्लेक्सिया
2. ✗ डिस्कैल्कुलिया
3. ✗ डिसग्राफिया
4. ✗ डिस्प्रेक्सिया

Question Number : 133 Question Id : 16794318302 Question Type : MCQ Option Shuffling : Yes Display Question Number : Yes
Single Line Question Option : No Option Orientation : Vertical

Correct Marks : 1 Wrong Marks : 0.25

Juvenile delinquency means:

Options :

1. ✗ Educating elderly people
2. ✗ Educating young children
3. ✓ Habitual committing of criminal acts by young children
4. ✗ Habitual committing of criminal acts by elderly people

Question Number : 133 Question Id : 16794318302 Question Type : MCQ Option Shuffling : Yes Display Question Number : Yes
Single Line Question Option : No Option Orientation : Vertical

Correct Marks : 1 Wrong Marks : 0.25

किशोर अपराध का मतलब है:

Options :

1. ✖ प्रौढ़ लोगों को शिक्षित करना।
2. ✖ युवा बच्चों को शिक्षित करना।
3. ✔ युवा बच्चों द्वारा आदतन आपराधिक कृत्य करना।
4. ✖ प्रौढ़ व्यक्तियों द्वारा आदतन आपराधिक कृत्य करना।

Question Number : 134 Question Id : 16794318303 Question Type : MCQ Option Shuffling : Yes Display Question Number : Yes
Single Line Question Option : No Option Orientation : Vertical

Correct Marks : 1 Wrong Marks : 0.25

ADHD is expanded as:

Options :

1. ✖ Auto Deficit Hyperactivity Disorder
2. ✖ Autism Deficit Hyperactivity Disorder
3. ✔ Attention Deficit Hyperactivity Disorder
4. ✖ Attention Deficit High Disease

Question Number : 134 Question Id : 16794318303 Question Type : MCQ Option Shuffling : Yes Display Question Number : Yes
Single Line Question Option : No Option Orientation : Vertical

Correct Marks : 1 Wrong Marks : 0.25

ADHD का विस्तारित रूप है:

Options :

1. ✖ आटो डेफिसीट हाइपरएक्टिविटी डिसऑर्डर (Auto Deficit Hyperactivity Disorder)
2. ✖ आटिज्म डेफिसीट हाइपरएक्टिविटी डिसऑर्डर (Autism Deficit Hyperactivity Disorder)
3. ✔ अटेंशन डेफिसीट हाइपरएक्टिविटी डिसऑर्डर (Attention Deficit Hyperactivity Disorder)
4. ✖ अटेंशन डेफिसीट हाई डीसीज (Attention Deficit High Disease)

Question Number : 135 Question Id : 16794318304 Question Type : MCQ Option Shuffling : Yes Display Question Number : Yes
Single Line Question Option : No Option Orientation : Vertical

Correct Marks : 1 Wrong Marks : 0.25

The educational philosophy can be fined as:

Options :

1. ☒ A set of beliefs and values decided by a team
2. ☐ The general ideas of education
3. ☐ The overarching aim of education
4. ☐ The guidelines for students

Question Number : 135 Question Id : 16794318304 Question Type : MCQ Option Shuffling : Yes Display Question Number : Yes
Single Line Question Option : No Option Orientation : Vertical

Correct Marks : 1 Wrong Marks : 0.25

शैक्षिक दर्शन को इस रूप में परिभाषित किया जा सकता है:

Options :

1. ☒ टीम द्वारा निर्धारित विश्वासों और मूल्यों का एक सेट
2. ☐ शिक्षा के सामान्य विचार
3. ☐ शिक्षा का अत्यधिक लक्ष्य
4. ☐ छात्रों के लिए दिशानिर्देश

Question Number : 136 Question Id : 16794318305 Question Type : MCQ Option Shuffling : Yes Display Question Number : Yes
Single Line Question Option : No Option Orientation : Vertical

Correct Marks : 1 Wrong Marks : 0.25

The purpose of education is an element under the:

Options :

1. ☐ Educational psychology
2. ☐ Educational sociology
3. ☐ Educational technology
4. ☒ Educational philosophy

Question Number : 136 Question Id : 16794318305 Question Type : MCQ Option Shuffling : Yes Display Question Number : Yes
Single Line Question Option : No Option Orientation : Vertical

Correct Marks : 1 Wrong Marks : 0.25

शिक्षा का उद्देश्य _____ के अधीन एक तत्व है:

Options :

1. ✖ शैक्षिक मनोविज्ञान
2. ✖ शैक्षिक समाजशास्त्र
3. ✖ शैक्षिक शब्दावली
4. ✔ शैक्षिक दर्शनशास्त्र

Question Number : 137 Question Id : 16794318306 Question Type : MCQ Option Shuffling : Yes Display Question Number : Yes
Single Line Question Option : No Option Orientation : Vertical

Correct Marks : 1 Wrong Marks : 0.25

Using mind maps is a teaching approach used when the educational philosophy is which of the following?

Options :

1. ✖ Pragmatism
2. ✔ Rationalism
3. ✖ Socialism
4. ✖ Empiricism

Question Number : 137 Question Id : 16794318306 Question Type : MCQ Option Shuffling : Yes Display Question Number : Yes
Single Line Question Option : No Option Orientation : Vertical

Correct Marks : 1 Wrong Marks : 0.25

मस्तिष्क मानचित्र का उपयोग करना एक शिक्षण दृष्टिकोण है। इसका उपयोग शैक्षिक दर्शन के निम्नलिखित में से कौन सा होने पर किया जाता है?

Options :

1. ✖ उपयोगितावाद
2. ✔ तर्कणावाद
3. ✖ समाजवाद
4. ✖ अनुभववाद

Question Number : 138 Question Id : 16794318307 Question Type : MCQ Option Shuffling : Yes Display Question Number : Yes
Single Line Question Option : No Option Orientation : Vertical

Correct Marks : 1 Wrong Marks : 0.25

“All learning should occur in collaborative groups” is advocated by which of the following schools of thought?

Options :

1. ✓ Social constructivism
2. ✗ Radical constructivism
3. ✗ Individual constructivism
4. ✗ Anti-social constructivism

Question Number : 138 Question Id : 16794318307 Question Type : MCQ Option Shuffling : Yes Display Question Number : Yes
Single Line Question Option : No Option Orientation : Vertical

Correct Marks : 1 Wrong Marks : 0.25

“समस्त शिक्षण सहयोगी समूहों में होना चाहिए” इसकी वकालत निम्नलिखित में से किस विचारधारा द्वारा की जाती है?

Options :

1. ✓ सामाजिक संरचनावाद
2. ✗ मूलभूत संरचनावाद
3. ✗ वैयक्तिक संरचनावाद
4. ✗ समाज-विरोधी संरचनावाद

Question Number : 139 Question Id : 16794318308 Question Type : MCQ Option Shuffling : Yes Display Question Number : Yes
Single Line Question Option : No Option Orientation : Vertical

Correct Marks : 1 Wrong Marks : 0.25

Connecting with other schools and pairing with the students from different countries is an impact of technology, which is called:

Options :

1. ✗ Research
2. ✓ Globalisation
3. ✗ Distance education
4. ✗ Nationalisation

Question Number : 139 Question Id : 16794318308 Question Type : MCQ Option Shuffling : Yes Display Question Number : Yes
Single Line Question Option : No Option Orientation : Vertical

Correct Marks : 1 Wrong Marks : 0.25

अन्य स्कूलों से जुड़ना और विभिन्न देशों के छात्रों के साथ युग्मन प्रौद्योगिकी का एक प्रभाव है, जिसे कहा जाता है:

Options :

1. ✖ अनुसंधान
2. ✔ भूमंडलीकरण
3. ✖ दूरस्थ शिक्षा
4. ✖ राष्ट्रीयकरण

Question Number : 140 Question Id : 16794318309 Question Type : MCQ Option Shuffling : Yes Display Question Number : Yes
Single Line Question Option : No Option Orientation : Vertical

Correct Marks : 1 Wrong Marks : 0.25

“Technology has led to knowledge explosion.” What does this mean?

Options :

1. ✖ Explosive information
2. ✖ Increased knowledge
3. ✔ Growth and expansion at high speed
4. ✖ Excessive information

Question Number : 140 Question Id : 16794318309 Question Type : MCQ Option Shuffling : Yes Display Question Number : Yes
Single Line Question Option : No Option Orientation : Vertical

Correct Marks : 1 Wrong Marks : 0.25

“प्रौद्योगिकी से ज्ञान का विस्फोट हुआ है.” इसका क्या अर्थ है?

Options :

1. ✖ विस्फोटक सूचना
2. ✖ बर्धित ज्ञान
3. ✔ उच्च गति पर वृद्धि एवं विस्तार
4. ✖ अत्यधिक सूचना

Group Id :	167943681
Group Maximum Duration :	0
Group Minimum Duration :	0
Revisit allowed for view? :	No
Revisit allowed for edit? :	No
Break time:	0
Group Marks:	20
Revisit allowed for group Instructions? :	Yes
Maximum Instruction Time:	0
Minimum Instruction Time:	0

	Subject Related
Section Id :	167943746
Section Number :	1
Section type :	Online
Mandatory or Optional:	Mandatory
Number of Questions:	20
Number of Questions to be attempted:	20
Section Marks:	20
Display Number Panel:	Yes
Group All Questions:	No

Sub-Section Number:	1
Sub-Section Id:	1679431163
Question Shuffling Allowed :	Yes

Question Number : 141 Question Id : 16794318310 Question Type : MCQ Option Shuffling : Yes Display Question Number : Yes
 Single Line Question Option : No Option Orientation : Vertical
 Correct Marks : 1 Wrong Marks : 0.25

Which of the following is not an advantage of educational technology?

Options :

1. ✖ Providing pleasant learning experiences
2. ✖ Providing learning with less dangerous experiences compared to the real context
3. ✔ Providing time-consuming learning experiences
4. ✖ Providing scope for extended learning and understanding

Question Number : 141 Question Id : 16794318310 Question Type : MCQ Option Shuffling : Yes Display Question Number : Yes
 Single Line Question Option : No Option Orientation : Vertical
 Correct Marks : 1 Wrong Marks : 0.25

निम्नलिखित में से कौन सा शैक्षिक प्रौद्योगिकी का लाभ नहीं है?

Options :

1. ✖ सुखद शिक्षण अनुभव प्रदान करना।
2. ✖ वास्तविक संदर्भ की तुलना में कम खतरनाक अनुभवों के साथ शिक्षण प्रदान करना।
3. ✔ अधिक समय लेने शिक्षण अनुभव प्रदान करना।
4. ✖ विस्तारित शिक्षण और समझ के लिए गुंजाइश प्रदान करना।

Question Number : 142 Question Id : 16794318311 Question Type : MCQ Option Shuffling : Yes Display Question Number : Yes
Single Line Question Option : No Option Orientation : Vertical

Correct Marks : 1 Wrong Marks : 0.25

One of the common reasons for technology not being used optimally in education is:

Options :

1. ✖ Insufficient development of technology
2. ✔ Teacher attitude
3. ✖ Acceptance in the society
4. ✖ Student interest

Question Number : 142 Question Id : 16794318311 Question Type : MCQ Option Shuffling : Yes Display Question Number : Yes
Single Line Question Option : No Option Orientation : Vertical

Correct Marks : 1 Wrong Marks : 0.25

शिक्षा में प्रौद्योगिकी का इष्टतम रूप से उपयोग न किए जाने के पीछे एक सामान्य कारण है:

Options :

1. ✖ प्रौद्योगिकी का अपर्याप्त विकास
2. ✔ शिक्षक का व्यवहार
3. ✖ समाज में स्वीकृति
4. ✖ छात्र की रुचि

Question Number : 143 Question Id : 16794318312 Question Type : MCQ Option Shuffling : Yes Display Question Number : Yes
Single Line Question Option : No Option Orientation : Vertical

Correct Marks : 1 Wrong Marks : 0.25

Which of the following is not a benefit of information technology?

Options :

1. ✖ Knowledge explosion
2. ✖ Retrieval of information
3. ✖ Preservation of information
4. ✔ Detecting information

Question Number : 143 Question Id : 16794318312 Question Type : MCQ Option Shuffling : Yes Display Question Number : Yes
Single Line Question Option : No Option Orientation : Vertical

Correct Marks : 1 Wrong Marks : 0.25

निम्नलिखित में से कौन सा सूचना प्रौद्योगिकी का लाभ नहीं है?

Options :

1. ✖ ज्ञान विस्फोट
2. ✖ सूचना की पुनः प्राप्ति
3. ✖ सूचना का परिरक्षण
4. ✔ सूचना ढूँढ़ना

Question Number : 144 Question Id : 16794318313 Question Type : MCQ Option Shuffling : Yes Display Question Number : Yes
Single Line Question Option : No Option Orientation : Vertical

Correct Marks : 1 Wrong Marks : 0.25

Interacting with people on the other side of the globe could lead to which of the following?

Options :

1. ✔ Knowledge explosion
2. ✖ Knowledge redundancy
3. ✖ Information retrieval
4. ✖ Information retention

Question Number : 144 Question Id : 16794318313 Question Type : MCQ Option Shuffling : Yes Display Question Number : Yes
Single Line Question Option : No Option Orientation : Vertical

Correct Marks : 1 Wrong Marks : 0.25

दुनिया के दूसरी तरफ लोगों के साथ बातचीत करने से निम्नलिखित में से कौन सा परिणाम हो सकता है?

Options :

1. ✓ ज्ञान विस्फोट
2. ✗ ज्ञान अतिरेकता
3. ✗ सूचना की पुनः प्राप्ति
4. ✗ सूचना प्रतिधारण

Question Number : 145 Question Id : 16794318314 Question Type : MCQ Option Shuffling : Yes Display Question Number : Yes
Single Line Question Option : No Option Orientation : Vertical

Correct Marks : 1 Wrong Marks : 0.25

Which of the following is a method of non-verbal communication?

Options :

1. ✗ Circulars
2. ✗ Newspapers
3. ✓ Gestures
4. ✗ Delivering lecture in class

Question Number : 145 Question Id : 16794318314 Question Type : MCQ Option Shuffling : Yes Display Question Number : Yes
Single Line Question Option : No Option Orientation : Vertical

Correct Marks : 1 Wrong Marks : 0.25

निम्नलिखित में से कौन सा गैर-मौखिक संप्रेषण की विधि है?

Options :

1. ✗ परिपत्र
2. ✗ समाचार-पत्र
3. ✓ संकेत
4. ✗ कक्षा में व्याख्यान देना

Question Number : 146 Question Id : 16794318315 Question Type : MCQ Option Shuffling : Yes Display Question Number : Yes
Single Line Question Option : No Option Orientation : Vertical

Correct Marks : 1 Wrong Marks : 0.25

Which of the following is ICT-enabled evaluation method?

Options :

1. ✖ Student portfolios
2. ✔ Online assessment
3. ✖ Pen and paper tests
4. ✖ Personal interviews

Question Number : 146 Question Id : 16794318315 Question Type : MCQ Option Shuffling : Yes Display Question Number : Yes
Single Line Question Option : No Option Orientation : Vertical

Correct Marks : 1 Wrong Marks : 0.25

निम्नलिखित में से कौन सा आईसीटी-सक्षम मूल्यांकन विधि है?

Options :

1. ✖ छात्र पोर्टफोलियो
2. ✔ ऑनलाइन मूल्यांकन
3. ✖ कलम एवं कागज वाली परीक्षा
4. ✖ व्यक्तिगत साक्षात्कार

Question Number : 147 Question Id : 16794318316 Question Type : MCQ Option Shuffling : Yes Display Question Number : Yes
Single Line Question Option : No Option Orientation : Vertical

Correct Marks : 1 Wrong Marks : 0.25

What is knowledge objective?

Options :

1. ✖
It is achieved by developing the abilities of seeing relationship, discrimination, cite example and generalization.
2. ✖
It is achieved by developing the abilities of reasoning, hypothesizing, inferring and prediction.
3. ✖
It can be achieved by satisfying the highest needs of a person and employing internal motivation.
4. ✔
It is achieved to develop the recall and recognition abilities.

Question Number : 147 Question Id : 16794318316 Question Type : MCQ Option Shuffling : Yes Display Question Number : Yes
Single Line Question Option : No Option Orientation : Vertical

Correct Marks : 1 Wrong Marks : 0.25

ज्ञान उद्देश्य क्या है?

Options :

1. ✖

यह संबंध, भेदभाव, उद्धरण, उदाहरण और सामान्यीकरण को देखने की क्षमताओं को विकसित करके हासिल किया जाता है।

2. ✖

यह तर्क, परिकल्पना, अनुमान और पूर्वानुमान की क्षमताओं को विकसित करके हासिल किया जाता है।

3. ✖

यह किसी व्यक्ति की उच्चतम आवश्यकताओं को पूरा करके और आंतरिक प्रेरणा को नियोजित करके हासिल किया जा सकता है।

4. ✔ यह याद और अभिज्ञान क्षमताओं को विकसित करने के लिए हासिल किया जाता है।

Question Number : 148 Question Id : 16794318317 Question Type : MCQ Option Shuffling : Yes Display Question Number : Yes
Single Line Question Option : No Option Orientation : Vertical

Correct Marks : 1 Wrong Marks : 0.25

What are the characteristics of a good achievement test?

Options :

1. ✔ It is tried out and selected on the basis of its difficulty level and discrimination power

2. ✖ To get better understanding of the needs and abilities of the learners

3. ✖ To discover backward learners who need help and to plan for remedial classes

4. ✖ To evaluate, revise and improve curriculum

Question Number : 148 Question Id : 16794318317 Question Type : MCQ Option Shuffling : Yes Display Question Number : Yes
Single Line Question Option : No Option Orientation : Vertical

Correct Marks : 1 Wrong Marks : 0.25

अच्छी उपलब्धि परीक्षण की विशेषताएं क्या हैं?

Options :

1. ✔

इसकी कोशिश की जाती है और इसके कठिनाई के स्तर और विभेदक शक्ति के आधार पर चुना जाता है।

2. ✖ शिक्षार्थियों की जरूरतों और क्षमताओं की बेहतर समझ प्राप्त करना।

3. ✖

पिछड़े शिक्षार्थियों की खोज करना जिन्हें सहायता की आवश्यकता है और उपचारात्मक वर्गों की योजना बनाना।

4. ✖ पाठ्यक्रम का मूल्यांकन, संशोधन और सुधार करना।

Question Number : 149 Question Id : 16794318318 Question Type : MCQ Option Shuffling : Yes Display Question Number : Yes
Single Line Question Option : No Option Orientation : Vertical

Correct Marks : 1 Wrong Marks : 0.25

Which one of the following is not a technique of teaching vocabulary?

Options :

1. ✖ Jumbling of letters
2. ✖ Riddles
3. ✔ Mind map
4. ✖ Word building

Question Number : 149 Question Id : 16794318318 Question Type : MCQ Option Shuffling : Yes Display Question Number : Yes
Single Line Question Option : No Option Orientation : Vertical

Correct Marks : 1 Wrong Marks : 0.25

निम्नलिखित में से कौन सा शब्दावली शिक्षण की तकनीक नहीं है?

Options :

1. ✖ अक्षरों में घालमेल
2. ✖ पहेलियां
3. ✔ मानस चित्र
4. ✖ शब्द निर्माण

Question Number : 150 Question Id : 16794318319 Question Type : MCQ Option Shuffling : Yes Display Question Number : Yes
Single Line Question Option : No Option Orientation : Vertical

Correct Marks : 1 Wrong Marks : 0.25

The reading done in isolation, without the guidance of teacher, helps develop a taste for reading and makes the learner an independent reader. Which type of reading strategy is it?

Options :

1. ✖ Skimming
2. ✖ Scanning
3. ✖ Intensive reading
4. ✔ Extensive reading

Question Number : 150 Question Id : 16794318319 Question Type : MCQ Option Shuffling : Yes Display Question Number : Yes
Single Line Question Option : No Option Orientation : Vertical

Correct Marks : 1 Wrong Marks : 0.25

शिक्षक के मार्गदर्शन के बिना एकाकीपन में किया गया पठन पढ़ने के लिए रुचि विकसित करने में मदद करता है और सीखने वाले को एक स्वतंत्र पाठक बनाता है। यह किस प्रकार की पठन रणनीति है?

Options :

1. ✖ स्किमिंग
2. ✖ स्कैनिंग
3. ✖ गहन पठन
4. ✔ व्यापक पठन

Question Number : 151 Question Id : 16794318320 Question Type : MCQ Option Shuffling : Yes Display Question Number : Yes
Single Line Question Option : No Option Orientation : Vertical

Correct Marks : 1 Wrong Marks : 0.25

An English teacher of grade 3 is using a role-play in the classroom to help children learn English effectively. She is actually using a:

Options :

1. ✖ Method
2. ✔ Technique
3. ✖ Approach
4. ✖ None of the other options

Question Number : 151 Question Id : 16794318320 Question Type : MCQ Option Shuffling : Yes Display Question Number : Yes
Single Line Question Option : No Option Orientation : Vertical

Correct Marks : 1 Wrong Marks : 0.25

ग्रेड 3 का एक अंग्रेजी शिक्षक कक्षा में बच्चों को प्रभावी ढंग से अंग्रेजी सीखने में मदद करने के लिए कक्षा में एक भूमिका निभा रहा है। वह वास्तव में एक _____ का उपयोग कर रही है:

Options :

1. ✖ विधि
2. ✔ तकनीक
3. ✖ दृष्टिकोण
4. ✖ अन्य विकल्पों में से कोई नहीं

Question Number : 152 Question Id : 16794318321 Question Type : MCQ Option Shuffling : Yes Display Question Number : Yes
Single Line Question Option : No Option Orientation : Vertical

Correct Marks : 1 Wrong Marks : 0.25

Who gave the terms such as acquisition, monitor, natural, input, affective hypothesis in theory of acquisition of second language?

Options :

1. ✖ Steven Pinker
2. ✖ Vivian Cook
3. ✖ Vygotsky
4. ✔ Stephen Krashen

Question Number : 152 Question Id : 16794318321 Question Type : MCQ Option Shuffling : Yes Display Question Number : Yes
Single Line Question Option : No Option Orientation : Vertical

Correct Marks : 1 Wrong Marks : 0.25

द्वितीय भाषा सीखने के सिद्धांत में अर्जन, निगरानी, प्राकृतिक, इनपुट, प्रभावशाली परिकल्पना जैसे पद किसने दिए?

Options :

1. ✖ स्टीवन पिकर
2. ✖ विवियन कुक
3. ✖ वाइगोटस्की
4. ✔ स्टीफन क्रेशेन

Question Number : 153 Question Id : 16794318322 Question Type : MCQ Option Shuffling : Yes Display Question Number : Yes
Single Line Question Option : No Option Orientation : Vertical

Correct Marks : 1 Wrong Marks : 0.25

What is the meaning of multi-grade and multi-level teaching strategies?

Options :

1. ✔
These are strategies where a teacher deals with learners of variant levels of varying abilities and different grade levels of different age groups
2. ✖
It is about creating confidence in their interesting learning areas and then moving to other areas
3. ✖
These are about framing more number of instructional materials or exercises with considerable flexibility

4. ✖ These are about teaching small spells as their span of attention will be limited

Question Number : 153 Question Id : 16794318322 Question Type : MCQ Option Shuffling : Yes Display Question Number : Yes
Single Line Question Option : No Option Orientation : Vertical

Correct Marks : 1 Wrong Marks : 0.25

बहु-ग्रेड और बहु-स्तर शिक्षण रणनीतियों का अर्थ क्या है?

Options :

1. ✔

ये वे रणनीतियां हैं जहां एक शिक्षक अलग-अलग क्षमताओं के विभिन्न स्तरों और विभिन्न आयु समूहों के विभिन्न ग्रेड स्तरों के शिक्षार्थियों से संव्यवहार करता है।

2. ✖

यह उनके रोचक शिक्षण क्षेत्रों में विश्वास उत्पन्न करने और फिर अन्य क्षेत्रों में जाने के बारे में है।

3. ✖

ये पर्याप्त लचीलेपन के साथ अधिक संख्या में निर्देशक सामग्री या अभ्यास तैयार करने के बारे में हैं।

4. ✖ ये छोटी वर्तनियां पढ़ाने के बारे में हैं क्योंकि उनके ध्यान का दायरा सीमित होगा।

Question Number : 154 Question Id : 16794318323 Question Type : MCQ Option Shuffling : Yes Display Question Number : Yes
Single Line Question Option : No Option Orientation : Vertical

Correct Marks : 1 Wrong Marks : 0.25

What is the meaning of phonology?

Options :

1. ✖ Vocabulary

2. ✖ Grammar

3. ✔ Sound system

4. ✖ Context-dependent rules

Question Number : 154 Question Id : 16794318323 Question Type : MCQ Option Shuffling : Yes Display Question Number : Yes
Single Line Question Option : No Option Orientation : Vertical

Correct Marks : 1 Wrong Marks : 0.25

स्वरविज्ञान का अर्थ क्या है?

Options :

1. ✖ शब्दावली

2. ✖ व्याकरण

3. ✓ ध्वनि प्रणाली

4. ✗ संदर्भ-आश्रित नियम

Question Number : 155 Question Id : 16794318324 Question Type : MCQ Option Shuffling : Yes Display Question Number : Yes
Single Line Question Option : No Option Orientation : Vertical

Correct Marks : 1 Wrong Marks : 0.25

Which option best describes the oral skills of infants?

Options :

1. ✗ Using the language to communicate their likes and dislikes

2. ✓

Listening to and become aware of sounds of the words being spoken by the adults around them

3. ✗ Using language to express feelings and ideas and seek information

4. ✗

Building a larger vocabulary from the language of people around them and from new ideas in books

Question Number : 155 Question Id : 16794318324 Question Type : MCQ Option Shuffling : Yes Display Question Number : Yes
Single Line Question Option : No Option Orientation : Vertical

Correct Marks : 1 Wrong Marks : 0.25

कौन सा विकल्प शिशुओं के मौखिक कौशल का सबसे अच्छा वर्णन करता है?

Options :

1. ✗ उनकी पसंदों और नापसंदों को सूचित करने के लिए भाषा का उपयोग करना।

2. ✓

उनके आसपास के वयस्कों द्वारा बोली जाने वाले शब्दों को सुनना और ध्वनियों के बारे में जागरूक होना।

3. ✗ भावनाओं और विचारों को व्यक्त करने और जानकारी लेने के लिए भाषा का उपयोग करना।

4. ✗

उनके आस-पास के लोगों की भाषा और पुस्तकों में नए विचारों से एक व्यापक शब्दावली बनाना।

Question Number : 156 Question Id : 16794318325 Question Type : MCQ Option Shuffling : Yes Display Question Number : Yes
Single Line Question Option : No Option Orientation : Vertical

Correct Marks : 1 Wrong Marks : 0.25

What is the activity to be performed by the adults to develop children's oral language skills?

Options :

1. ✓ Make children practice using rich and abstract vocabulary
2. ✗ Using unrelated vocabulary and making children repeat them
3. ✗ Make children practice with isolated words and repeat them
4. ✗ Making children practice is not necessary, they will learn on their own

Question Number : 156 Question Id : 16794318325 Question Type : MCQ Option Shuffling : Yes Display Question Number : Yes
Single Line Question Option : No Option Orientation : Vertical

Correct Marks : 1 Wrong Marks : 0.25

बच्चों में मौखिक भाषा कौशल विकसित करने के लिए वयस्कों द्वारा की जाने वाली गतिविधि क्या है?

Options :

1. ✓ बच्चों से समृद्ध और गूढ़ शब्दावली का अभ्यास करवाएं।
2. ✗ असम्बद्ध शब्दावली का प्रयोग करना और बच्चों से उन्हें दुहरवाना।
3. ✗ बच्चों से अलग शब्दों का अभ्यास करवाना और उन्हें दुहरवाना।
4. ✗ बच्चों से अभ्यास करवाना जरूरी नहीं है, वे खुद ही सीखेंगे।

Question Number : 157 Question Id : 16794318326 Question Type : MCQ Option Shuffling : Yes Display Question Number : Yes
Single Line Question Option : No Option Orientation : Vertical

Correct Marks : 1 Wrong Marks : 0.25

What is meant by extended conversation with children?

Options :

1. ✗ The words uttered by the children are extended by the adults
2. ✗ When children speak, correct their spoken language
3. ✓ Have conversation with each child that goes back and forth multiple times
4. ✗ To accept one-word answer from children to the questions asked

Question Number : 157 Question Id : 16794318326 Question Type : MCQ Option Shuffling : Yes Display Question Number : Yes
Single Line Question Option : No Option Orientation : Vertical

Correct Marks : 1 Wrong Marks : 0.25

बच्चों के साथ विस्तारित वार्तालाप का क्या अर्थ है?

Options :

1. ✖ बच्चों द्वारा उच्चारित शब्द वयस्कों द्वारा विस्तारित किए जाते हैं।
2. ✖ जब बच्चे बोलते हैं, तो उनकी बोलचाल की भाषा को सुधारें।
3. ✔ प्रत्येक बच्चे के साथ बातचीत करें जो कई बार आगे और पीछे जाती है।
4. ✖ बच्चों से पूछे गए प्रश्नों के एक शब्द में उत्तर स्वीकार करना।

Question Number : 158 Question Id : 16794318327 Question Type : MCQ Option Shuffling : Yes Display Question Number : Yes
Single Line Question Option : No Option Orientation : Vertical

Correct Marks : 1 Wrong Marks : 0.25

The teacher is teaching arithmetic in the class. She continues to repeat a particular concept until it gets fixed in the mind of the students. The approach the teacher is following in the class is called:

Options :

1. ✖ Incidental approach
2. ✔ Drill approach
3. ✖ Social approach
4. ✖ Meaningful approach

Question Number : 158 Question Id : 16794318327 Question Type : MCQ Option Shuffling : Yes Display Question Number : Yes
Single Line Question Option : No Option Orientation : Vertical

Correct Marks : 1 Wrong Marks : 0.25

शिक्षक कक्षा में अंकगणित पढ़ा रहा है। वह छात्रों के दिमाग में बैठ जाने तक एक विशेष अवधारणा को दोहराना जारी रखती है। शिक्षक द्वारा कक्षा में अनुसरण किए जाने वाला दृष्टिकोण को कहा जाता है:

Options :

1. ✖ प्रासंगिक दृष्टिकोण
2. ✔ ड्रिल दृष्टिकोण
3. ✖ सामाजिक दृष्टिकोण
4. ✖ सार्थक दृष्टिकोण

Question Number : 159 Question Id : 16794318328 Question Type : MCQ Option Shuffling : Yes Display Question Number : Yes
Single Line Question Option : No Option Orientation : Vertical

Correct Marks : 1 Wrong Marks : 0.25

Which branch of mathematics is considered to be essential for efficient and successful living, having the maximum utilitarian value to almost all human in all walks of life?

Options :

1. ✖ Geometry
2. ✖ Algebra
3. ✖ Aesthetics
4. ✔ Arithmetic

Question Number : 159 Question Id : 16794318328 Question Type : MCQ Option Shuffling : Yes Display Question Number : Yes
Single Line Question Option : No Option Orientation : Vertical

Correct Marks : 1 Wrong Marks : 0.25

कुशल और सफल जीवन के लिए गणित की कौन सी शाखा को जरूरी माना जाता है, जिसमें जीवन के सभी क्षेत्रों में लगभग सभी मनुष्यों के लिए अधिकतम उपयोगिता मूल्य है?

Options :

1. ✖ ज्यामिती
2. ✖ बीजगणित
3. ✖ सौंदर्यशास्त्र
4. ✔ अंकगणित

Question Number : 160 Question Id : 16794318329 Question Type : MCQ Option Shuffling : Yes Display Question Number : Yes
Single Line Question Option : No Option Orientation : Vertical

Correct Marks : 1 Wrong Marks : 0.25

Who was the great scientist to appreciate the language of mathematics as "Mathematics is the language in which God has written the universe."

Options :

1. ✔ Galileo
2. ✖ Bertrand Russel
3. ✖ Plato
4. ✖ A. H. Hardy

Question Number : 160 Question Id : 16794318329 Question Type : MCQ Option Shuffling : Yes Display Question Number : Yes
Single Line Question Option : No Option Orientation : Vertical

Correct Marks : 1 Wrong Marks : 0.25

गणित की भाषा की इस रूप में सराहना करने वाले महान वैज्ञानिक कौन थे - "गणित वह भाषा है जिसमें भगवान ने सृष्टि की रचना की है"

Options :

- 1.  गैलीलियो
- 2.  बर्टेंड रसेल
- 3.  प्लेटो
- 4.  ए एच हार्डी

Subject Related

Group Number :	9
Group Id :	167943682
Group Maximum Duration :	0
Group Minimum Duration :	0
Revisit allowed for view? :	No
Revisit allowed for edit? :	No
Break time:	0
Group Marks:	20
Revisit allowed for group Instructions? :	Yes
Maximum Instruction Time:	0
Minimum Instruction Time:	0

Subject Related

Section Id :	167943747
Section Number :	1
Section type :	Online
Mandatory or Optional:	Mandatory
Number of Questions:	20
Number of Questions to be attempted:	20
Section Marks:	20
Display Number Panel:	Yes
Group All Questions:	No

Sub-Section Number:	1
Sub-Section Id:	1679431164
Question Shuffling Allowed :	Yes

Question Number : 161 Question Id : 16794318330 Question Type : MCQ Option Shuffling : Yes Display Question Number : Yes
Single Line Question Option : No Option Orientation : Vertical
Correct Marks : 1 Wrong Marks : 0.25

These type of questions create interest in learning mathematics. They help in the development of logical thinking and reasoning. These questions have clever and surprising answers. Which type of questions are these?

Options :

1. ✖ Magic squares
2. ✔ Riddles
3. ✖ Recreational games
4. ✖ Guessing game

Question Number : 161 Question Id : 16794318330 Question Type : MCQ Option Shuffling : Yes Display Question Number : Yes
Single Line Question Option : No Option Orientation : Vertical

Correct Marks : 1 Wrong Marks : 0.25

इस प्रकार के प्रश्न गणित सीखने में रुचि पैदा करते हैं। वे तार्किक सोच और तर्क के विकास में सहायता करते हैं। इन सवालों के प्राविण्य और आश्चर्यजनक उत्तर हैं। ये किस प्रकार के प्रश्न हैं?

Options :

1. ✖ जादू वर्ग
2. ✔ पहेलियाँ
3. ✖ मनोरंजक खेल
4. ✖ अनुमान लगाने का खेल

Question Number : 162 Question Id : 16794318331 Question Type : MCQ Option Shuffling : Yes Display Question Number : Yes
Single Line Question Option : No Option Orientation : Vertical

Correct Marks : 1 Wrong Marks : 0.25

The school should maintain _____ to provide information about a student's progress and weakness to their teachers and parents.

Options :

1. ✖ anecdotal records
2. ✖ observation records
3. ✔ cumulative records
4. ✖ pupil's products

Question Number : 162 Question Id : 16794318331 Question Type : MCQ Option Shuffling : Yes Display Question Number : Yes
Single Line Question Option : No Option Orientation : Vertical

Correct Marks : 1 Wrong Marks : 0.25

छात्र की प्रगति और कमजोरियों के बारे में उनके शिक्षकों और माता-पिता को जानकारी प्रदान करने के लिए स्कूल को _____ रखना चाहिए।

Options :

1. ✖ एनेकडोटल रिकॉर्ड
2. ✖ अवलोकन रिकॉर्ड
3. ✔ संचयी रिकॉर्ड
4. ✖ शिष्य का प्रदर्शन

Question Number : 163 Question Id : 16794318332 Question Type : MCQ Option Shuffling : Yes Display Question Number : Yes
Single Line Question Option : No Option Orientation : Vertical

Correct Marks : 1 Wrong Marks : 0.25

Imitation, articulation and naturalisation are related to which of the below domains in learning?

Options :

1. ✖ Affective domain
2. ✖ Skill domain
3. ✔ Psycho motor domain
4. ✖ Cognitive domain

Question Number : 163 Question Id : 16794318332 Question Type : MCQ Option Shuffling : Yes Display Question Number : Yes
Single Line Question Option : No Option Orientation : Vertical

Correct Marks : 1 Wrong Marks : 0.25

अनुकरण, अभिव्यक्ति और समीकरण नीचे दिए गए शिक्षण के किस क्षेत्र/डोमेन से संबंधित हैं?

Options :

1. ✖ भावात्मक डोमेन
2. ✖ कौशल डोमेन
3. ✔ साइको मोटर डोमेन
4. ✖ ज्ञानात्मक डोमेन

Question Number : 164 Question Id : 16794318333 Question Type : MCQ Option Shuffling : Yes Display Question Number : Yes
Single Line Question Option : No Option Orientation : Vertical

Correct Marks : 1 Wrong Marks : 0.25

The Cone of Experience is given by:

Options :

1. ❌ Bloom
2. ✅ Dale
3. ❌ Michaelis
4. ❌ Wesley

Question Number : 164 Question Id : 16794318333 Question Type : MCQ Option Shuffling : Yes Display Question Number : Yes
Single Line Question Option : No Option Orientation : Vertical

Correct Marks : 1 Wrong Marks : 0.25

अनुभव का शंकु (Cone) किसके द्वारा दिया गया है?

Options :

1. ❌ ब्लूम
2. ✅ डेल
3. ❌ माइकलिस
4. ❌ वेस्ले

Question Number : 165 Question Id : 16794318334 Question Type : MCQ Option Shuffling : Yes Display Question Number : Yes
Single Line Question Option : No Option Orientation : Vertical

Correct Marks : 1 Wrong Marks : 0.25

Which of these is not the purpose of mind mapping?

Options :

1. ❌ Learning
2. ❌ Teaching
3. ✅ Motivation
4. ❌ Assessment

Question Number : 165 Question Id : 16794318334 Question Type : MCQ Option Shuffling : Yes Display Question Number : Yes
Single Line Question Option : No Option Orientation : Vertical

Correct Marks : 1 Wrong Marks : 0.25

इनमें से कौन सा मस्तिष्क मानचित्रण का उद्देश्य नहीं है?

Options :

1. ✖ शिक्षा प्राप्ति
2. ✖ शिक्षण
3. ✔ प्रेरणा
4. ✖ मूल्यांकन

Question Number : 166 Question Id : 16794318335 Question Type : MCQ Option Shuffling : Yes Display Question Number : Yes
Single Line Question Option : No Option Orientation : Vertical
Correct Marks : 1 Wrong Marks : 0.25

The main objective of environmental education is:

Options :

1. ✖ Repair, reduce, refuse and reproduce
2. ✖ Regard, respect, respect and retreat
3. ✖ Right education, right concept and reuse the education
4. ✔ Refuse, reduce, reuse and recycle

Question Number : 166 Question Id : 16794318335 Question Type : MCQ Option Shuffling : Yes Display Question Number : Yes
Single Line Question Option : No Option Orientation : Vertical
Correct Marks : 1 Wrong Marks : 0.25

पर्यावरण शिक्षा का मुख्य उद्देश्य है:

Options :

1. ✖ मरम्मत, कम करना, अस्वीकार और पुनरुत्पादन
2. ✖ आदर, सम्मान, सम्मान और अपसरण
3. ✖ सही शिक्षा, सही संकल्पना और शिक्षा का पुनः प्रयोग
4. ✔ अस्वीकार, कम करना, पुनः प्रयोग और पुनः चक्रण

Question Number : 167 Question Id : 16794318336 Question Type : MCQ Option Shuffling : Yes Display Question Number : Yes
Single Line Question Option : No Option Orientation : Vertical

Correct Marks : 1 Wrong Marks : 0.25

Which of the following is an example of 'skills of stimulus variation'?

Options :

1. ✖ Writing on the board
2. ✔ Using gestures
3. ✖ Motivation
4. ✖ Asking questions

Question Number : 167 Question Id : 16794318336 Question Type : MCQ Option Shuffling : Yes Display Question Number : Yes
Single Line Question Option : No Option Orientation : Vertical

Correct Marks : 1 Wrong Marks : 0.25

निम्नलिखित में से कौन सा 'प्रेरण भिन्नता के कौशल' का एक उदाहरण है?

Options :

1. ✖ बोर्ड पर लिखना
2. ✔ संकेतों का प्रयोग करना
3. ✖ प्रेरणा
4. ✖ प्रश्न पूछना

Question Number : 168 Question Id : 16794318337 Question Type : MCQ Option Shuffling : Yes Display Question Number : Yes
Single Line Question Option : No Option Orientation : Vertical

Correct Marks : 1 Wrong Marks : 0.25

Which of the below concepts is given by National Policy on Education (NPE) -1986?

Options :

1. ✖ Lesson plan elements
2. ✖ Teaching elements
3. ✖ Core elements
4. ✔ Teaching learning element

Question Number : 168 Question Id : 16794318337 Question Type : MCQ Option Shuffling : Yes Display Question Number : Yes
Single Line Question Option : No Option Orientation : Vertical

Correct Marks : 1 Wrong Marks : 0.25

राष्ट्रीय शिक्षा नीति (एनपीई) -1986 द्वारा निम्नलिखित में से कौन सी अवधारणा दी गई है?

Options :

1. ✖ पाठ योजना तत्व
2. ✖ शिक्षण तत्व
3. ✖ मूल तत्व
4. ✔ शिक्षण सीखना तत्व

Question Number : 169 Question Id : 16794318338 Question Type : MCQ Option Shuffling : Yes Display Question Number : Yes
Single Line Question Option : No Option Orientation : Vertical

Correct Marks : 1 Wrong Marks : 0.25

‘Pie’ graph is also known as:

Options :

1. ✖ Bar graph
2. ✖ Line graph
3. ✖ Pictorial graph
4. ✔ Circular graph

Question Number : 169 Question Id : 16794318338 Question Type : MCQ Option Shuffling : Yes Display Question Number : Yes
Single Line Question Option : No Option Orientation : Vertical

Correct Marks : 1 Wrong Marks : 0.25

‘पाई’ ग्राफ को इस नाम से भी जाना जाता है:

Options :

1. ✖ बार ग्राफ
2. ✖ लाइन ग्राफ
3. ✖ चित्रमय ग्राफ
4. ✔ वृत्ताकार ग्राफ

Question Number : 170 Question Id : 16794318339 Question Type : MCQ Option Shuffling : Yes Display Question Number : Yes
Single Line Question Option : No Option Orientation : Vertical

Correct Marks : 1 Wrong Marks : 0.25

“A project is a bit of real life that has been imported into the school.” Who stated this?

Options :

1. ✖ J.A. Stevenson
2. ✖ Kilpatrick
3. ✖ John Dewey
4. ✔ Ballard

Question Number : 170 Question Id : 16794318339 Question Type : MCQ Option Shuffling : Yes Display Question Number : Yes
Single Line Question Option : No Option Orientation : Vertical

Correct Marks : 1 Wrong Marks : 0.25

"एक परियोजना वास्तविक जीवन का एक छोटा सा अंश है जिसे स्कूल में आयात किया गया है।" यह किसने कहा?

Options :

1. ✖ जे.ए. स्टीवेंसन
2. ✖ किलपैट्रिक
3. ✖ जॉन डेवी
4. ✔ बेलाड

Question Number : 171 Question Id : 16794318340 Question Type : MCQ Option Shuffling : Yes Display Question Number : Yes
Single Line Question Option : No Option Orientation : Vertical

Correct Marks : 1 Wrong Marks : 0.25

According to Plato, an art is:

Options :

1. ✔ An imitation to nature
2. ✖ A lie that makes us realise the truth
3. ✖ Not a thing, it is a way
4. ✖ A skill or craft

Question Number : 171 Question Id : 16794318340 Question Type : MCQ Option Shuffling : Yes Display Question Number : Yes
Single Line Question Option : No Option Orientation : Vertical

Correct Marks : 1 Wrong Marks : 0.25

प्लेटो के अनुसार, कला है:

Options :

1. ✓ प्रकृति की एक प्रतिकृति
2. ✗ एक झूठ जो हमें सच्चाई का एहसास देता है
3. ✗ कोई चीज नहीं, यह एक तरीका है
4. ✗ एक कौशल या शिल्प

Question Number : 172 Question Id : 16794318341 Question Type : MCQ Option Shuffling : Yes Display Question Number : Yes
Single Line Question Option : No Option Orientation : Vertical

Correct Marks : 1 Wrong Marks : 0.25

The important characteristic of an art is:

Options :

1. ✗ It is about something
2. ✗ It is about an individual skill
3. ✗ It is all about nature
4. ✓ It reflects a society's culture

Question Number : 172 Question Id : 16794318341 Question Type : MCQ Option Shuffling : Yes Display Question Number : Yes
Single Line Question Option : No Option Orientation : Vertical

Correct Marks : 1 Wrong Marks : 0.25

कला की एक महत्वपूर्ण विशेषता है:

Options :

1. ✗ यह कुछ चीज के बारे में है।
2. ✗ यह व्यक्तिगत कौशल के बारे में है।
3. ✗ यह प्रकृति के बारे में सब कुछ है।
4. ✓ यह समाज की संस्कृति को दर्शाता है।

Question Number : 173 Question Id : 16794318342 Question Type : MCQ Option Shuffling : Yes Display Question Number : Yes
Single Line Question Option : No Option Orientation : Vertical

Correct Marks : 1 Wrong Marks : 0.25

The most esteemed ancient art forms were:

Options :

1. ✖ Wall paintings
2. ✖ Music and poetry
3. ✖ Handicrafts
4. ✔ Dance forms

Question Number : 173 Question Id : 16794318342 Question Type : MCQ Option Shuffling : Yes Display Question Number : Yes
Single Line Question Option : No Option Orientation : Vertical

Correct Marks : 1 Wrong Marks : 0.25

सबसे प्रतिष्ठित प्राचीन कला रूप हैं:

Options :

1. ✖ वाल पेंटिंग
2. ✖ संगीत एवं कविता
3. ✖ हस्तशिल्प
4. ✔ नृत्य रूप

Question Number : 174 Question Id : 16794318343 Question Type : MCQ Option Shuffling : Yes Display Question Number : Yes
Single Line Question Option : No Option Orientation : Vertical

Correct Marks : 1 Wrong Marks : 0.25

Why do we need yoga at an early age for kids?

Options :

1. ✖ To enhance their flexibility and strength
2. ✖ To encourages self-esteem and body awareness
3. ✖ To improve concentration, calmness and relaxation
4. ✔ To acquaint them with various postures

Question Number : 174 Question Id : 16794318343 Question Type : MCQ Option Shuffling : Yes Display Question Number : Yes
Single Line Question Option : No Option Orientation : Vertical

Correct Marks : 1 Wrong Marks : 0.25

बच्चों के लिए प्रारंभिक अवस्था में हमें योग की आवश्यकता क्यों है?

Options :

1. ✖ उनमें लचीलापन और शक्ति बढ़ाने के लिए।
2. ✖ आत्म-सम्मान और शरीर जागरूकता को प्रोत्साहित करने के लिए।
3. ✖ एकाग्रता, शांति और विश्राम में सुधार करने के लिए।
4. ✔ विभिन्न मुद्राओं से उन्हें परिचित कराने के लिए।

Question Number : 175 Question Id : 16794318344 Question Type : MCQ Option Shuffling : Yes Display Question Number : Yes
Single Line Question Option : No Option Orientation : Vertical

Correct Marks : 1 Wrong Marks : 0.25

The skills employed in gardening, when kids use a trowel or rake and pick up tiny seeds to plant are called:

Options :

1. ✔ Fine motor skills
2. ✖ Literary skills
3. ✖ Intellectual skills
4. ✖ Mathematical skills

Question Number : 175 Question Id : 16794318344 Question Type : MCQ Option Shuffling : Yes Display Question Number : Yes
Single Line Question Option : No Option Orientation : Vertical

Correct Marks : 1 Wrong Marks : 0.25

बागवानी में नियोजित कौशल, जब बच्चे एक खुरपे या पांचे का उपयोग करते हैं और बोन/लगाने के लिए पौधे के छोटे बीज उठाते हैं तो उन्हें कहा जाता है:

Options :

1. ✔ बारीक मोटर कौशल
2. ✖ साहित्यिक कौशल
3. ✖ बौद्धिक कौशल
4. ✖ अंकगणितीय कौशल

Question Number : 176 Question Id : 16794318345 Question Type : MCQ Option Shuffling : Yes Display Question Number : Yes
Single Line Question Option : No Option Orientation : Vertical

Correct Marks : 1 Wrong Marks : 0.25

During a gardening activity, which of the following does not cater to the development of literary skills?

Options :

1. ✖ Learning the names of the different plants grown in the garden
2. ✖ Reading the growth requirements of various plants mentioned on the seed or plant packages
3. ✔ Preparing the soil, planting, watering and weeding
4. ✖ Making a map of your garden or your yard, and labelling the plants

Question Number : 176 Question Id : 16794318345 Question Type : MCQ Option Shuffling : Yes Display Question Number : Yes
Single Line Question Option : No Option Orientation : Vertical

Correct Marks : 1 Wrong Marks : 0.25

बागवानी गतिविधि के दौरान, इनमें से कौन सा साहित्यिक कौशल के विकास को पूरा नहीं करता है?

Options :

1. ✖ बगीचे में उगाए जाने वाले विभिन्न पौधों के नाम सीखना।
2. ✖ बीज या पौधे के पैकेटों पर उल्लिखित विभिन्न पौधों की वृद्धि आवश्यकताओं को पढ़ना।
3. ✔ मिट्टी तैयार करना, रोपण, पानी देना और खर-पतवार निकालना।
4. ✖ अपने बगीचे या अपने यार्ड का नक्शा बनाना, और पौधों को लेबल लगाना।

Question Number : 177 Question Id : 16794318346 Question Type : MCQ Option Shuffling : Yes Display Question Number : Yes
Single Line Question Option : No Option Orientation : Vertical

Correct Marks : 1 Wrong Marks : 0.25

Why did some Indians argue that Indian customs demand that there is no need for sex education?

Options :

1. ✖ There are no sex-related problems in our nation, so no need for sex education
2. ✖ Giving sex education is not that important as gaining knowledge for future profession in our nation
3. ✔ Our traditions and cultural values are good enough to control the situations
4. ✖ Adolescents get information about sex from media, so no need for sex education

Question Number : 177 Question Id : 16794318346 Question Type : MCQ Option Shuffling : Yes Display Question Number : Yes
Single Line Question Option : No Option Orientation : Vertical

Correct Marks : 1 Wrong Marks : 0.25

कुछ भारतीय यह तर्क क्यों देते हैं कि भारतीय दस्तूर मांग करती हैं कि यौन शिक्षा की कोई आवश्यकता नहीं है?

Options :

1. ✖

हमारे देश में कोई यौन संबंधी कोई समस्या नहीं है, इसलिए यौन शिक्षा की कोई आवश्यकता नहीं है।

2. ✖

यौन शिक्षा देना उतना महत्वपूर्ण नहीं है जितना हमारे देश में भावी पेशे के लिए ज्ञान प्राप्त करना।

3. ✔

हमारी परंपराएं और सांस्कृतिक मूल्य ऐसी परिस्थितियों को नियंत्रित करने के लिए पर्याप्त हैं।

4. ✖

किशोरों को मीडिया से सेक्स के बारे में जानकारी मिलती है, इसलिए यौन शिक्षा की कोई आवश्यकता नहीं है।

Question Number : 178 Question Id : 16794318347 Question Type : MCQ Option Shuffling : Yes Display Question Number : Yes
Single Line Question Option : No Option Orientation : Vertical

Correct Marks : 1 Wrong Marks : 0.25

What is one of the major objectives of adolescent education?

Options :

1. ✔

Developing socio-psycho abilities that enable individuals to translate knowledge and attitude into healthy behaviours

2. ✖

Teaching concepts in class that enable individuals to succeed in life

3. ✖

Imparting values that enable individuals to be obedient students

4. ✖

Imparting skills that enable individuals to settle in society

Question Number : 178 Question Id : 16794318347 Question Type : MCQ Option Shuffling : Yes Display Question Number : Yes
Single Line Question Option : No Option Orientation : Vertical

Correct Marks : 1 Wrong Marks : 0.25

किशोर शिक्षा का एक प्रमुख उद्देश्य क्या है?

Options :

1. ✔

सामाजिक-मनोवैज्ञानिक क्षमताओं का विकास करना जो व्यक्तियों को स्वस्थ व्यवहार में ज्ञान और दृष्टिकोण को अंतरित करने में सक्षम बनाती हैं।

2. ✖

कक्षा में शिक्षण अवधारणाएं जो व्यक्तियों को जीवन में सफल होने में सक्षम बनाती हैं।

3. ✖

ऐसे मूल्य प्रदान करना जो व्यक्तियों को आज्ञाकारी छात्रों के रूप में सक्षम बनाता है।

4. ✖

कौशल प्रदान करना जो व्यक्तियों को समाज में व्यवस्थित करने में सक्षम बनाता है।

Question Number : 179 Question Id : 16794318348 Question Type : MCQ Option Shuffling : Yes Display Question Number : Yes
Single Line Question Option : No Option Orientation : Vertical

Correct Marks : 1 Wrong Marks : 0.25

What is adolescence?

Options :

1. ✖ Adolescence is a period of unfolding of individual's inherent traits
2. ✖ Adolescence is a complex process of integrating many structures and functions
3. ✔ Adolescence is a period of rapid development when young people acquire new capacities and are faced with new challenges
4. ✖ Adolescence is providing raw material for learning, and determining more general pattern and sequence of behaviour

Question Number : 179 Question Id : 16794318348 Question Type : MCQ Option Shuffling : Yes Display Question Number : Yes
Single Line Question Option : No Option Orientation : Vertical

Correct Marks : 1 Wrong Marks : 0.25

किशोरावस्था क्या है?

Options :

1. ✖ किशोरावस्था व्यक्ति के अंतर्निहित गुणों को प्रकट करने की अवधि है।
2. ✖ किशोरावस्था कई संरचनाओं और कार्यों को एकीकृत करने की एक जटिल प्रक्रिया है।
3. ✔ किशोरावस्था तीव्र विकास की अवधि है जब युवा लोग नई क्षमताएं प्राप्त करते हैं और नई चुनौतियों का सामना कर रहे हैं।
4. ✖ किशोरावस्था सीखने के लिए कच्ची सामग्री प्रदान कर रही है, और व्यवहार के अधिक सामान्य स्वरूप और अनुक्रम का निर्धारण कर रही है।

Question Number : 180 Question Id : 16794318349 Question Type : MCQ Option Shuffling : Yes Display Question Number : Yes
Single Line Question Option : No Option Orientation : Vertical

Correct Marks : 1 Wrong Marks : 0.25

Life skill education helps adolescents in/to:

Options :

1. ✖ Physical development, motor development and language development
2. ✖ Settle into professional life
3. ✖ Identify their strengths and weaknesses

4. ✓ Build healthy relationships and manage their lives in a healthy and productive manner

Question Number : 180 Question Id : 16794318349 Question Type : MCQ Option Shuffling : Yes Display Question Number : Yes
Single Line Question Option : No Option Orientation : Vertical

Correct Marks : 1 Wrong Marks : 0.25

जीवन कौशल शिक्षा किशोरों की _____ में सहायता करती है:

Options :

1. ✗ शारीरिक विकास, मोटर विकास और भाषा विकास
2. ✗ व्यावसायिक जीवन में जमने
3. ✗ उनकी शक्तियों और कमजोरियों की पहचान करने
4. ✓ स्वस्थ संबंध बनाने तथा स्वस्थ और उत्पादक तरीके से जीवन का प्रबंध करने

Subject Related

Group Number :	10
Group Id :	167943683
Group Maximum Duration :	0
Group Minimum Duration :	120
Revisit allowed for view? :	No
Revisit allowed for edit? :	No
Break time:	0
Group Marks:	20
Revisit allowed for group Instructions? :	Yes
Maximum Instruction Time:	0
Minimum Instruction Time:	0

Subject Related

Section Id :	167943748
Section Number :	1
Section type :	Online
Mandatory or Optional:	Mandatory
Number of Questions:	20
Number of Questions to be attempted:	20
Section Marks:	20
Display Number Panel:	Yes
Group All Questions:	No

Sub-Section Number:	1
Sub-Section Id:	1679431165
Question Shuffling Allowed :	Yes

Question Number : 181 Question Id : 16794318350 Question Type : MCQ Option Shuffling : Yes Display Question Number : Yes
Single Line Question Option : No Option Orientation : Vertical

Correct Marks : 1 Wrong Marks : 0.25

What is the objective of Adolescence Education Programme (AEP)?

Options :

1. ✖ To provide knowledge of appropriate behaviour and adjustment
2. ✔ To provide accurate knowledge to students about process of growing up, HIV/AIDS and substance abuse
3. ✖ To provide education and skill development
4. ✖ To provide knowledge of physical change and body

Question Number : 181 Question Id : 16794318350 Question Type : MCQ Option Shuffling : Yes Display Question Number : Yes
Single Line Question Option : No Option Orientation : Vertical

Correct Marks : 1 Wrong Marks : 0.25

किशोरावस्था शिक्षा कार्यक्रम (एईपी) का उद्देश्य क्या है?

Options :

1. ✖ उचित व्यवहार और समायोजन का ज्ञान प्रदान करना
2. ✔ छात्रों को बढ़ने की प्रक्रिया, एचआईवी / एड्स और मादक पदार्थों की बुराइयों के बारे में सटीक जानकारी प्रदान करना
3. ✖ शिक्षा तथा कौशल विकास प्रदान करना
4. ✖ शारीरिक परिवर्तन तथा शरीर के बारे में जानकारी प्रदान करना

Question Number : 182 Question Id : 16794318351 Question Type : MCQ Option Shuffling : Yes Display Question Number : Yes
Single Line Question Option : No Option Orientation : Vertical

Correct Marks : 1 Wrong Marks : 0.25

What is the guiding principle of adolescent education?

Options :

1. ✖ The programme should enable individuals to take part in educational debates and concerns
2. ✖ The programme should enable individuals to cope up with educational pressure
3. ✖ The programme should cater to the professional choice and life of individuals

4. ✓

This programme should enable individuals to articulate their issues and know their rights, counter shame and fear, and build up self esteem

Question Number : 182 Question Id : 16794318351 Question Type : MCQ Option Shuffling : Yes Display Question Number : Yes
Single Line Question Option : No Option Orientation : Vertical

Correct Marks : 1 Wrong Marks : 0.25

किशोरावस्था शिक्षा का मार्गदर्शक सिद्धांत क्या है?

Options :

1. ✗ कार्यक्रम व्यक्तियों को शैक्षिक बहस और चिंताओं में भाग लेने में सक्षम होना चाहिए।
2. ✗ कार्यक्रम को व्यक्तियों को शैक्षिक दबाव से निपटने में सक्षम बनाना चाहिए।
3. ✗
- कार्यक्रम को व्यावसायिक पसंद और व्यक्तियों के जीवन की आवश्यकताओं को पूरा करना चाहिए।

4. ✓

इस कार्यक्रम को व्यक्तियों को अपने मुद्दों को स्पष्ट करने और उनके अधिकारों को जानने, शर्म और भय का सामना करने, और आत्म सम्मान बनाने में सक्षम बनाना चाहिए।

Question Number : 183 Question Id : 16794318352 Question Type : MCQ Option Shuffling : Yes Display Question Number : Yes
Single Line Question Option : No Option Orientation : Vertical

Correct Marks : 1 Wrong Marks : 0.25

Which of the following in physical games help improving mental abilities?

Options :

1. ✗ Warm up exercises
2. ✓ Running
3. ✗ Rules and techniques
4. ✗ Proper diet

Question Number : 183 Question Id : 16794318352 Question Type : MCQ Option Shuffling : Yes Display Question Number : Yes
Single Line Question Option : No Option Orientation : Vertical

Correct Marks : 1 Wrong Marks : 0.25

शारीरिक खेलों में निम्नलिखित में से कौन सा मानसिक क्षमताओं में सुधार करने में मदद करता है?

Options :

1. ✗ तैयारी अभ्यास

2. ✓ दौड़ना

3. ✗ नियम व तकनीक

4. ✗ उचित आहार

Question Number : 184 Question Id : 16794318353 Question Type : MCQ Option Shuffling : Yes Display Question Number : Yes
Single Line Question Option : No Option Orientation : Vertical

Correct Marks : 1 Wrong Marks : 0.25

Sports and games help in developing accuracy because it:

Options :

1. ✗ Inculcates good habits

2. ✗ Promotes mental hygiene

3. ✗ Emphasises on proper diet

4. ✓ Develops neuromuscular coordination

Question Number : 184 Question Id : 16794318353 Question Type : MCQ Option Shuffling : Yes Display Question Number : Yes
Single Line Question Option : No Option Orientation : Vertical

Correct Marks : 1 Wrong Marks : 0.25

खेल-कूद सटीकता विकसित करने में मदद करते हैं क्योंकि यह:

Options :

1. ✗ अच्छी आदतें डालता है।

2. ✗ मानसिक स्वास्थ्य को बढ़ावा देता है।

3. ✗ उचित आहार पर जोर देता है।

4. ✓ न्यूरोमस्क्यूलर समन्वय विकसित करता है।

Question Number : 185 Question Id : 16794318354 Question Type : MCQ Option Shuffling : Yes Display Question Number : Yes
Single Line Question Option : No Option Orientation : Vertical

Correct Marks : 1 Wrong Marks : 0.25

Which of the following is an example of rhythmic activities in physical sports?

Options :

1. ✗ Karate

2. ✓ Gymnastics

3. ✗ Trekking

4. ✗ Archery

Question Number : 185 Question Id : 16794318354 Question Type : MCQ Option Shuffling : Yes Display Question Number : Yes
Single Line Question Option : No Option Orientation : Vertical

Correct Marks : 1 Wrong Marks : 0.25

निम्नलिखित में से कौन सा शारीरिक खेलों में लयबद्ध गतिविधियों का एक उदाहरण है?

Options :

1. ✗ कराटे

2. ✓ जिमनास्टिक्स

3. ✗ ट्रेकिंग

4. ✗ तीरंदाजी

Question Number : 186 Question Id : 16794318355 Question Type : MCQ Option Shuffling : Yes Display Question Number : Yes
Single Line Question Option : No Option Orientation : Vertical

Correct Marks : 1 Wrong Marks : 0.25

What is the intention of the Olympic games?

Options :

1. ✓ The struggle is more important than the triumph

2. ✗ The gold medal is the highest and should be achieved

3. ✗ To rank contesting countries

4. ✗ To make people realize the importance of winning

Question Number : 186 Question Id : 16794318355 Question Type : MCQ Option Shuffling : Yes Display Question Number : Yes
Single Line Question Option : No Option Orientation : Vertical

Correct Marks : 1 Wrong Marks : 0.25

ओलंपिक खेलों का उद्देश्य क्या है?

Options :

1. ✓ संघर्ष जीत से अधिक महत्वपूर्ण है।

2. ✖ स्वर्ण पदक सर्वोच्च है और हासिल किया जाना चाहिए।
3. ✖ प्रतिस्पर्धी देशों की रैंकिंग।
4. ✖ लोगों को जीतने के महत्व को महसूस कराना।

Question Number : 187 Question Id : 16794318356 Question Type : MCQ Option Shuffling : Yes Display Question Number : Yes
Single Line Question Option : No Option Orientation : Vertical

Correct Marks : 1 Wrong Marks : 0.25

What is the distance that needs to be covered in the Marathon event of the Olympic games?

Options :

1. ✖ 41.195 mts
2. ✖ 43.195 mts
3. ✔ 42.195 mts
4. ✖ 42.185 mts

Question Number : 187 Question Id : 16794318356 Question Type : MCQ Option Shuffling : Yes Display Question Number : Yes
Single Line Question Option : No Option Orientation : Vertical

Correct Marks : 1 Wrong Marks : 0.25

ओलंपिक खेलों के मैराथन इवेंट में कितनी दूरी तय की जानी चाहिए?

Options :

1. ✖ 41.195 mts
2. ✖ 43.195 mts
3. ✔ 42.195 mts
4. ✖ 42.185 mts

Question Number : 188 Question Id : 16794318357 Question Type : MCQ Option Shuffling : Yes Display Question Number : Yes
Single Line Question Option : No Option Orientation : Vertical

Correct Marks : 1 Wrong Marks : 0.25

Which of the following is not true with regard to the ancient Olympic games?

Options :

1. ✖ Women were not allowed to witness the event
2. ✖ All competitors took the oath

3. ☒ All countries participated in the event
4. ☐ Men and boys participated in a naked form

Question Number : 188 Question Id : 16794318357 Question Type : MCQ Option Shuffling : Yes Display Question Number : Yes
Single Line Question Option : No Option Orientation : Vertical

Correct Marks : 1 Wrong Marks : 0.25

प्राचीन ओलंपिक खेलों के संबंध में निम्नलिखित में से कौन सा सत्य नहीं है?

Options :

1. ☐ महिलाओं को इवेंट देखने की अनुमति नहीं।
2. ☐ सभी प्रतियोगियों ने शपथ ली।
3. ☒ सभी देशों ने इवेंट में भाग लिया।
4. ☐ पुरुषों और लड़कों ने नग्न रूप में भाग लिया।

Question Number : 189 Question Id : 16794318358 Question Type : MCQ Option Shuffling : Yes Display Question Number : Yes
Single Line Question Option : No Option Orientation : Vertical

Correct Marks : 1 Wrong Marks : 0.25

The concept of Socially Useful Productive Work was introduced in the year:

Options :

1. ☐ 1986
2. ☒ 1977
3. ☐ 1966
4. ☐ 2005

Question Number : 189 Question Id : 16794318358 Question Type : MCQ Option Shuffling : Yes Display Question Number : Yes
Single Line Question Option : No Option Orientation : Vertical

Correct Marks : 1 Wrong Marks : 0.25

सामाजिक रूप से उपयोगी उत्पादक कार्य की अवधारणा वर्ष में लागू की गई थी:

Options :

1. ☐ 1986
2. ☒ 1977

3. ✖ 1966

4. ✖ 2005

Question Number : 190 Question Id : 16794318359 Question Type : MCQ Option Shuffling : Yes Display Question Number : Yes
Single Line Question Option : No Option Orientation : Vertical

Correct Marks : 1 Wrong Marks : 0.25

One of the evaluation methods to evaluate work education is:

Options :

1. ✔ Observation

2. ✖ Essay type tests

3. ✖ Slip test

4. ✖ Half yearly tests

Question Number : 190 Question Id : 16794318359 Question Type : MCQ Option Shuffling : Yes Display Question Number : Yes
Single Line Question Option : No Option Orientation : Vertical

Correct Marks : 1 Wrong Marks : 0.25

कार्य शिक्षा का मूल्यांकन करने के लिए मूल्यांकन विधियों में से एक है:

Options :

1. ✔ प्रेक्षण

2. ✖ निबंध प्रकार की परीक्षा

3. ✖ पर्ची परीक्षा

4. ✖ अर्ध वार्षिक परीक्षा

Question Number : 191 Question Id : 16794318360 Question Type : MCQ Option Shuffling : Yes Display Question Number : Yes
Single Line Question Option : No Option Orientation : Vertical

Correct Marks : 1 Wrong Marks : 0.25

Which of the following abilities is developed by taking an excursion in work experience

Options :

1. ✔ Ability to observe

2. ✖ Ability to enjoy

3. ✖ Ability to write

4. ✖ Ability to see

Question Number : 191 Question Id : 16794318360 Question Type : MCQ Option Shuffling : Yes Display Question Number : Yes
Single Line Question Option : No Option Orientation : Vertical

Correct Marks : 1 Wrong Marks : 0.25

कार्य अनुभव में भ्रमण करके निम्नलिखित में से कौन सी क्षमताओं का विकास किया गया है?

Options :

1. ✔ प्रेक्षण करने की क्षमता

2. ✖ आनंद लेने करने की क्षमता

3. ✖ लिखने करने की क्षमता

4. ✖ देखने करने की क्षमता

Question Number : 192 Question Id : 16794318361 Question Type : MCQ Option Shuffling : Yes Display Question Number : Yes
Single Line Question Option : No Option Orientation : Vertical

Correct Marks : 1 Wrong Marks : 0.25

"A teacher can never truly teach unless he is still learning himself." Who said this?

Options :

1. ✖ Mahatma Gandhi

2. ✖ Rama Moorthy

3. ✔ Rabindranath Tagore

4. ✖ Dr. Khothari

Question Number : 192 Question Id : 16794318361 Question Type : MCQ Option Shuffling : Yes Display Question Number : Yes
Single Line Question Option : No Option Orientation : Vertical

Correct Marks : 1 Wrong Marks : 0.25

"एक शिक्षक कभी भी सचमुच सिखा नहीं सकता है जब तक वह खुद को सीख नहीं लेता।" यह किसने कहा?

Options :

1. ✖ महात्मा गांधी

2. ✖ राम मूर्ति

3. ✓ रबिन्द्र नाथ टैगोर

4. ✗ डॉ. कोठारी

Question Number : 193 Question Id : 16794318362 Question Type : MCQ Option Shuffling : Yes Display Question Number : Yes
Single Line Question Option : No Option Orientation : Vertical

Correct Marks : 1 Wrong Marks : 0.25

What is the full form of ITPD?

Options :

1. ✗ Indian Teacher Potential training Development

2. ✓ In-Service Teacher Professional Development

3. ✗ In-Service Teacher Progress Development

4. ✗ Inter-Service Teacher Progress Development

Question Number : 193 Question Id : 16794318362 Question Type : MCQ Option Shuffling : Yes Display Question Number : Yes
Single Line Question Option : No Option Orientation : Vertical

Correct Marks : 1 Wrong Marks : 0.25

ITPD का पूर्ण रूप क्या है?

Options :

1. ✗

इंडियन टीचर पोटेंशियल ट्रेनिंग डेवलपमेंट / Indian Teacher Potential training Development

2. ✓

इन-सर्विस टीचर प्रोफेशनल डेवलपमेंट / In-service Teacher Professional Development

3. ✗ इन-सर्विस टीचर प्रोग्रेस डेवलपमेंट / In-service Teacher Progress Development

4. ✗ इंटर-सर्विस टीचर प्रोग्रेस डेवलपमेंट / Inter-service Teacher Progress Development

Question Number : 194 Question Id : 16794318363 Question Type : MCQ Option Shuffling : Yes Display Question Number : Yes
Single Line Question Option : No Option Orientation : Vertical

Correct Marks : 1 Wrong Marks : 0.25

The Filtration Theory of Education is given by:

Options :

1. ✓ Macaulay

- 2. ✖ Abbott
- 3. ✖ Charles Wood
- 4. ✖ Sargent

Question Number : 194 Question Id : 16794318363 Question Type : MCQ Option Shuffling : Yes Display Question Number : Yes
Single Line Question Option : No Option Orientation : Vertical

Correct Marks : 1 Wrong Marks : 0.25

शिक्षा की निस्पंदन सिद्धांत द्वारा दी गई है:

Options :

- 1. ✔ मैकाले
- 2. ✖ एबट
- 3. ✖ चार्ल्स वुड
- 4. ✖ सार्जेंट

Question Number : 195 Question Id : 16794318364 Question Type : MCQ Option Shuffling : Yes Display Question Number : Yes
Single Line Question Option : No Option Orientation : Vertical

Correct Marks : 1 Wrong Marks : 0.25

National Adult Education Programme (NAEP) was launched in:

Options :

- 1. ✖ November 1978
- 2. ✖ December 1978
- 3. ✔ October 1978
- 4. ✖ January 1978

Question Number : 195 Question Id : 16794318364 Question Type : MCQ Option Shuffling : Yes Display Question Number : Yes
Single Line Question Option : No Option Orientation : Vertical

Correct Marks : 1 Wrong Marks : 0.25

राष्ट्रीय प्रौढ़ शिक्षा कार्यक्रम (एनएईपी) कब शुरू किया गया था?

Options :

- 1. ✖ नवंबर 1978

2. ✖ दिसंबर 1978

3. ✔ अक्टूबर 1978

4. ✖ जनवरी 1978

Question Number : 196 Question Id : 16794318365 Question Type : MCQ Option Shuffling : Yes Display Question Number : Yes
Single Line Question Option : No Option Orientation : Vertical

Correct Marks : 1 Wrong Marks : 0.25

What is the highest level in Multi-level Planning Framework for community development in India?

Options :

1. ✖ State

2. ✔ Nation

3. ✖ District

4. ✖ Village

Question Number : 196 Question Id : 16794318365 Question Type : MCQ Option Shuffling : Yes Display Question Number : Yes
Single Line Question Option : No Option Orientation : Vertical

Correct Marks : 1 Wrong Marks : 0.25

भारत में सामुदायिक विकास के लिए बहु-स्तरीय आयोजना ढांचे में उच्चतम स्तर क्या है?

Options :

1. ✖ राज्य

2. ✔ राष्ट्र

3. ✖ जिला

4. ✖ गांव

Question Number : 197 Question Id : 16794318366 Question Type : MCQ Option Shuffling : Yes Display Question Number : Yes
Single Line Question Option : No Option Orientation : Vertical

Correct Marks : 1 Wrong Marks : 0.25

'Alokar Jatra' is associated with which of the below states?

Options :

1. ✖ Andhra Pradesh

2. ✔ Assam

3. ✖ Rajasthan

4. ✖ Gujarat

Question Number : 197 Question Id : 16794318366 Question Type : MCQ Option Shuffling : Yes Display Question Number : Yes
Single Line Question Option : No Option Orientation : Vertical

Correct Marks : 1 Wrong Marks : 0.25

'अलोकर जत्रा' निम्नलिखित राज्यों से किससे जुड़ा हुआ है?

Options :

1. ✖ आंध्र प्रदेश

2. ✔ असम

3. ✖ राजस्थान

4. ✖ गुजरात

Question Number : 198 Question Id : 16794318367 Question Type : MCQ Option Shuffling : Yes Display Question Number : Yes
Single Line Question Option : No Option Orientation : Vertical

Correct Marks : 1 Wrong Marks : 0.25

Who first defined the word "community" as a group established by men having shared values?

Options :

1. ✔ Aristotle

2. ✖ Plato

3. ✖ Kautilya

4. ✖ Khothari

Question Number : 198 Question Id : 16794318367 Question Type : MCQ Option Shuffling : Yes Display Question Number : Yes
Single Line Question Option : No Option Orientation : Vertical

Correct Marks : 1 Wrong Marks : 0.25

किसने पहली बार "समुदाय" शब्द को पुरुषों द्वारा स्थापित साझा मूल्य वाले समूह के रूप में परिभाषित किया?

Options :

1. ✔ अरस्तू

2. ✖ प्लेटो

3. ✖ कौटिल्य

4. ✖ कोठारी

Question Number : 199 Question Id : 16794318368 Question Type : MCQ Option Shuffling : Yes Display Question Number : Yes
Single Line Question Option : No Option Orientation : Vertical

Correct Marks : 1 Wrong Marks : 0.25

Which tree has a lot of significance in the tribal socioeconomic and cultural life and children?

Options :

1. ✖ Baniyan tree

2. ✖ Peepal tree

3. ✖ Coconut tree

4. ✔ Mahul tree

Question Number : 199 Question Id : 16794318368 Question Type : MCQ Option Shuffling : Yes Display Question Number : Yes
Single Line Question Option : No Option Orientation : Vertical

Correct Marks : 1 Wrong Marks : 0.25

जनजातीय सामाजिक आर्थिक सांस्कृतिक जीवन और बच्चों में कौन सा पेड़ बहुत महत्व रखता है?

Options :

1. ✖ बरगद का पेड़

2. ✖ पीपल का पेड़

3. ✖ नारियल का पेड़

4. ✔ माहुल का पेड़

Question Number : 200 Question Id : 16794318369 Question Type : MCQ Option Shuffling : Yes Display Question Number : Yes
Single Line Question Option : No Option Orientation : Vertical

Correct Marks : 1 Wrong Marks : 0.25

What is the full form of NLM?

Options :

1. ✖ National level mission

2. ✖ National learning mission

3. ✓ National literacy mission
4. ✗ National low cost mission

Question Number : 200 Question Id : 16794318369 Question Type : MCQ Option Shuffling : Yes Display Question Number : Yes
Single Line Question Option : No Option Orientation : Vertical

Correct Marks : 1 Wrong Marks : 0.25

NLM का पूर्ण रूप क्या है?

Options :

1. ✗ नेशनल लेवल मिशन
2. ✗ नेशनल लर्निंग मिशन
3. ✓ नेशनल लिटरेसी मिशन
4. ✗ नेशनल लो कॉस्ट मिशन